

2015 年内蒙古通辽市中考真题地理

一、选择题（下列各题的四个选项中，只有一个是符合题目要求的。每小题 2 分，共 50 分）

人们对地球形状的认识经历了漫长的过程。现如今，人们通过从宇宙空间发回的地球卫星照片，确证地球是个球体，其表面大部分是蔚蓝色的海洋。据此并结合如图完成 1—2 题。□



1. 关于地球的描述正确的是□（ ）

- A. 地球是不规则的球体□
- B. 地球的表面积约 4 亿平方千米□
- C. 地球表面海洋与陆地所占比例约为 3：7□
- D. 地球是椭球体□

解析：本题考查地球的形状与大小。地球是一个两极稍扁，赤道略鼓的不规则球体，故 A 正确，D 错误；地球的表面积约 5.1 亿平方千米，故 B 错误；地球的表面海洋与陆地所占比例约为 7：3，故 C 错误。

答案：A


2. 地球自转一周所需的时间为□（ ）

- A. 一小时
- B. 一天
- C. 一个月
- D. 一年

解析：本题主要考查地球自转及其方向和周期。地球自转是地球绕地轴自西向东转动的运动方式，其周期为一天。我们每天经历的昼夜更替，看到日月星辰的东升西落，时区的差异（东部的时刻早于西部），主要是由于地球自转运动所产生的地理现象。

答案：B

3. 如图中表示山峰的是□（ ）



解析：本题主要考查等高线地形图的判读。读图可得，A 图的综合性部位所示的是山峰，B 图虚线所示的部位是山脊，C 图中心部位所示的是盆地，D 图虚线部位所示的是山谷。

答案：A

4. 如图中的天气符号表示的天气状况在通辽市出现的几率最小的是□（ ）



解析：本题主要考查常用天气符号与天气图。A 表示沙尘暴，B 是台风，C 是多云，D 是雷雨，结合通辽市的气候特征。

答案：B

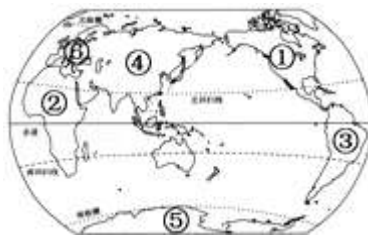
5. 世界上使用人数最多和使用范围最广的语言是 ()

- A. 英语和法语
- B. 汉语和英语
- C. 法语和汉语
- D. 英语和俄语

解析：本题主要考查世界主要语言及其分布地区。中国是世界上人口最多的国家，有 13.7 亿多，中国主要使用汉语，另外，东南亚一些国家也使用汉语，因此汉语是世界上使用人数最多的语言；英国的殖民地曾经遍布全球，英语也随之传播，因此英语成为世界上分布最广泛的语言。

答案：B

读图，完成 6~7 题。



6. 巴拿马运河是北美洲和南美洲的分界线，图中序号表示北美洲和南美洲的是 ()

- A. ④⑥
- B. ②④
- C. ①③
- D. ①④

解析：本题考查世界不同大洲的分布。图中的①是北美洲，③是南美洲，其中北美洲与南美洲的分界线是巴拿马运河。

答案：C


7. 下面关于⑤大洲的叙述正确的是 ()

- A. 该大洲不可能出现极昼极夜现象
- B. 该大洲所在的地区有“白色荒漠”之称
- C. 代表动物是北极熊
- D. 去该大洲科学考察的最佳时间是 7 月

解析：本题主要考查极地地区的自然环境和自然资源。读图可得，①是北美洲，②是非洲，③是南美洲，④是亚洲，⑤是南极洲。南极洲大部分地区位于南极圈以内，该大洲有极昼极夜现象，故 A 错误；南极洲有大量的冰川，白色是南极洲永恒的基色，南极洲因为降水稀少，所以有白色荒漠之称，故 B 正确；南极洲的代表动物是企鹅，故 C 错误；去南极洲科学考察的最佳时间是 1、2 月份，故 D 错误。

答案：B

8. 亚洲中部雄踞着世界上最高的高原——青藏高原，许多大江大河都从那里发源，奔流入海。如图中，甲、乙两图分别为亚洲大陆沿 30° N 纬线和 80° E 经线所作的地形剖面示意图，亚洲的地势特点是（ ）

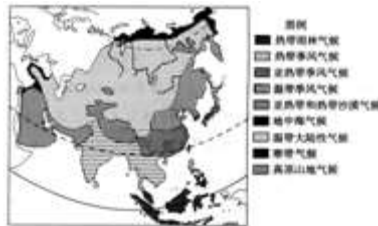


- A. 中部高，四周低
- B. 中部低，四周高
- C. 南部高，北部低
- D. 东部高，西部低

解析：本题主要考查亚洲的地形特点。亚洲地势中部高，四周低。“世界屋脊”青藏高原雄踞亚洲中部，喜马拉雅山脉等众多高大的山脉，以帕米尔高原为中心向四周延伸。所以亚洲大河多发源于中部的高原山地，顺地势呈辐射状向四周奔流入海。

答案：A

9. 根据如图分析，下列说法正确的是 （ ）



- A. 亚洲的东部和西部均分布有季风气候
- B. 亚洲分布范围最广的是地中海气候
- C. 亚洲具有世界上所有的气候类型
- D. 亚洲气候具有复杂多样，大陆性气候分布广和季风气候显著的特点

解析：本题主要考查亚洲的气候。亚洲的东部和南部分布有季风气候，故 A 错误；亚洲分布面积最广的气候类型是温带大陆性气候，故 B 错误；亚洲除温带海洋性气候外，世界上的各种气候在亚洲都有分布；C 错误；亚洲气候复杂多样，季风气候显著，大陆性特征明显；D 正确。

答案：D

10. 按照板块构造学说的观点，结合如图判断，下列说法正确的是 （ ）



- A. ①山脉会消失

- B. ②山脉会消失
- C. 红海会缩小
- D. 地中海会缩小

解析：本题考查了板块构造学说。读图可知，①山脉为阿尔卑斯山脉，该山脉处在亚欧板块和非洲板块的交界处，两板块不断碰撞挤压，山脉将会不断增高，故 A 错误。②是喜马拉雅山脉，位于亚欧板块和印度洋板块交界处，两板块不断碰撞挤压，山脉不断增高，故 B 错误。红海位于非洲板块和印度洋板块交界处，两板块不断张裂拉伸，红海面积将会不断扩大，故 C 错误。地中海位于非洲板块和亚欧板块交界处，两板块不断碰撞挤压，地中海面积将会不断缩小，最后消失，故 D 正确。

答案：D

11. 结合如图提供的信息分析，下列说法正确的是 ()



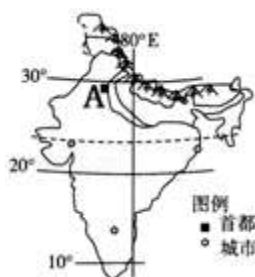
南水北调工程线路示意

- A. 南水北调解决了我国水资源季节变化大的问题
- B. 南水北调是把长江流域的水调到华北和西北地区
- C. 南水北调西线方案主要利用京杭运河输水
- D. 南水北调不属于跨流域调水工程

解析：本题考查南水北调工程的意义。为了解决空间上的分布不均匀，我国修建的跨世纪工程是南水北调，该工程主要是把长江水系的水调到缺水严重的华北、西北地区。

答案：B

12. 对如图所示国家的叙述正确的是 ()



- A. 该国是世界上人口最多的国家
- B. 该国的首都 A 是孟买
- C. 该国服务外包产业发展迅速
- D. 该国自西向东分为三大地形区

解析：本题考查印度工业的特点。印度的服务外包产业发展迅速，印度被称为“世界办公室”，其原因是印度劳动力成本便宜、英语水平高、计算器操作能力强。

答案：C

13. 下面关于亚马孙热带雨林的经济效益叙述正确的是 ()

- A. 调节全球气候
- B. 涵养水源，保护淡水资源
- C. 提供良好的生物生存环境，维护生物多样性
- D. 提供木材、药材、食品等

解析：本题主要考查巴西对亚马孙河流域热带雨林的开发与保护。在巴西境内，分布有世界上面积最大、环境效益巨大的自然资源是热带雨林，热带雨林可以提供木材、药材、食品等产品，获得经济效益，还对全球产生巨大的生态效益，如调节全球气候、涵养水源，保护淡水资源、提供良好的生物生存环境，维护生物多样性等，故选项 D 符合题意。

答案：D

14. 澳大利亚特有生物众多的原因是 ()

- A. 地形以平原为主
- B. 位于热带地区
- C. 沙漠草地广布
- D. 孤立在南半球海洋上，自然环境单一

解析：本题考查澳大利亚古老动物多的原因。澳大利亚特有生物物种多，其原因是大约在两亿年前，澳大利亚就同其他大陆分离，孤立存在于南半球的海洋上，长期以来，由于自然条件比较单一，动物的演化很缓慢，而且澳大利亚没有大型的野生肉食动物，澳大利亚的气候大部分是热带，气候不寒冷。

答案：D

读图，完成 15~16 题。



15. 关于图中 A、B 两地的叙述正确的是 ()

- A. A 地的年平均气温高于 B 地的年平均气温
- B. A 地位于 B 地的西北方向
- C. B 地是霍林郭勒市
- D. A 地是通辽市的行政中心

解析：本题考查内蒙古自治区局部地区的城市及位置。据图中的经纬度范围可得，图中所示的是内蒙古自治区的局部范围。图中 A 地的纬度比 B 地纬度高，所以 A 地的年平均气温低于 B 地的年平均气温，故 A 错误；图中 A 地位于 B 地的西北方向，故 B 正确；图中 A 是霍林郭勒市，故 C 错误；图中 B 是通辽市的行政中心即通辽，故 D 错误。

答案：B

16. 根据图中信息可以确定，通辽市位于 ()

- A. 东半球、北半球
- B. 西半球、北半球

- C. 东半球、南半球
- D. 西半球、南半球

解析：本题考查了经纬网的判断方法。根据经纬网图，经线的度数叫做经度，若相邻两条经线的经度向东增大，就是东经，用符号 E 表示，若相邻两条经线的经度向西增大，就是西经，用符号 W 表示；纬线的度数叫纬度，若相邻两条纬线的纬度向北增大，就是北纬，用符号 N 表示，若相邻两条纬线的纬度向南增大，就是南纬，用符号 S 表示。读图可知，通辽市位于经度 119° E~124° E 之间，纬度位于 42° N~46° N 之间，位于东半球(20° W→0° →160° E 之间为东半球)、北半球（赤道以北为北纬，为北半球）。

答案：A

读图，完成 17~18 题。□



17. 如图所示，美国本土农业带分布图直接体现了美国农业生产的特征是（ ）

- A. 高度机械化□
- B. 投入大量的劳动力□
- C. 地区生产的专业化□
- D. 高科技化

解析：本题主要考查美国的工农业生产及分布。美国的农业非常发达，机械化程度很高，农业实现了地区生产专门化。

答案：C

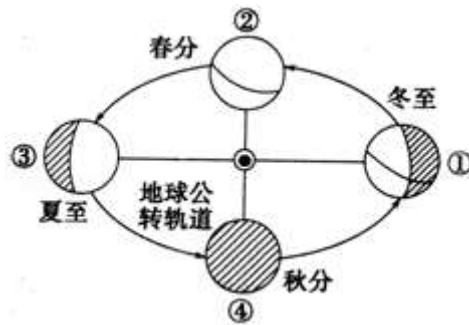
18. 关于影响乳畜带分布的主要因素，叙述正确的是（ ）

- A. 位置偏南，气温较高□
- B. 临近五大湖，气候干燥□
- C. 这里是美国的制造业带，城市、人口分布密集□
- D. 属于温带海洋性气候，适宜牧草生长

解析：本题主要考查美国主要农产品和农业带的分布。美国的乳畜带集中分布在美国的东北部及五大湖区。美国的东北部及五大湖区气候冷湿、制造业发达，城市、人口分布密集，消费量大，为乳畜带的分布创造了条件；故选项 C 符合题意。

答案：C

2012 年 12 月 13 日，嫦娥二号卫星飞越“战神”小行星，结合如图，回答 19~20 题。



19. 嫦娥二号飞越当天，地球公转在□ ()

- A. ①—②轨道上□
- B. ②—③轨道上□
- C. ③—④轨道上□
- D. ④—①轨道上

解析：本题主要考查昼夜长短变化和四季形成的基本原理。读图可得，②是春分日即3月21日，③是夏至日即6月22日，④是秋分日即9月23日，①是冬至日即12月22日。12月13日，地球运行在秋分日与冬至日之间即图中④—①的轨道上，太阳直射点由赤道向南回归线移动。

答案：D

20. 此时通辽市的昼夜长短状况是□ ()

- A. 昼短夜长
- B. 昼长夜短□
- C. 昼夜等长
- D. 昼最长夜最短

解析：本题考查了地球公转的地理概况。9月23日前后，太阳光线直射赤道，地球运行在图中的④处，为北半球的秋分日；12月22日前后，太阳光线直射南回归线，地球运行在图中的①处，为北半球的冬至日；位于北半球的我国内蒙古自治区的通辽市12月13日昼短夜长。

答案：A

读图，完成21~22题。□



21. 关于欧洲西部的说法正确的是 ()

- A. A是直布罗陀海峡□
- B. 欧洲西部以热带气候为主□

C. 欧洲西部是发达国家最集中的地区□

D. 欧洲西部的人多信仰佛教□

解析：本题主要考查欧洲的自然地理特征。欧洲西部多为经济发达国家，这里是世界上的人口稠密地带；这里集中了很多工业大国如德国、法国、英国和意大利；欧洲西部以温带海洋性气候为主；地形以平原为主；A 是英吉利海峡；欧洲西部的人大多信仰基督教。

答案：C

22. 下列旅游资源与其所在的国家搭配正确的是□（ ）

A. 伦敦塔桥——法国□

B. 古罗马斗兽场——意大利□

C. 阿尔卑斯山滑雪场——荷兰□

D. 艾菲尔铁塔——英国

解析：本题主要考查欧洲西部的旅游资源。欧洲西部的自然和人文旅游资源异常丰富，其中伦敦塔桥——英国，古罗马斗兽场——意大利，阿尔卑斯山滑雪场——瑞士，艾菲尔铁塔——法国。

答案：B

读图，完成 23~24 题。□



23. 如图所示现象，在世界哪一地区最严重（ ）

A. 欧洲西部

B. 极地地区□

C. 中东

D. 撒哈拉以南非洲

解析：本题主要考查世界人口的增长和人口问题。亚洲、非洲和拉丁美洲的一些国家，人口增长过多过快，给社会经济发展造成很大压力，使居民的就业、居住、教育、医疗等问题难以解决，还有一部分国家则长期处于贫困状态。如图人口的快速增长造成了粮食的极度短缺，为了满足粮食需求，不断的破坏生态环境，现阶段人口、粮食、环境是当地面临的三大问题，这是撒哈拉以南的非洲的生动写照。

答案：D

24. 该地区的居民以（ ）为主□

A. 黑种人

B. 白种人


C. 黄种人

D. 混血种人

解析：本题主要考查世界主要人种及其分布地区。读图分析可知，该区域的人口、粮食、环境问题突出，并且形成恶性循环，因此是撒哈拉以南的非洲，这里的居民主要是黑色人种，是世界黑人的故乡；故选项 A 符合题意。

故乡：A

25. 如图中，不同的地区居民的生活习俗与当地自然条件的组合正确的是（ ）



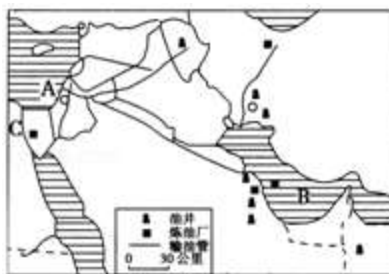
- A. 甲地居民居住帐篷，过着游牧生活——气候炎热
- B. 乙地居民多住高脚屋——气候湿热
- C. 丙地居民以船为主要交通工具——地势低平，河网密布
- D. 丁地居民身着毛皮服装，运输工具是狗拉雪橇——高纬度地区，气候严寒

解析：本题主要考查人民生活与地理环境的关系。读图可得，甲图中所示的是因纽特人，分布在北冰洋沿岸，该地区气候寒冷，故 A 错误；乙图中有骆驼，该图所示的是热带沙漠地区的景观，该地区终年高温少雨，故 B 错误；丙地以船为主要交通工具，该地区地势低平，河网密布，故 C 正确；图中丁所示的是高架屋，适宜高温多雨的自然环境，故 D 错误。

答案：C

二、解答题（共 8 小题）

26. 结合如图提供的信息，完成下列各题。



- (1) 图中字母 A 代表的海域是_____。
- (2) 中东的石油资源主要分布在 B_____及其沿岸地区。
- (3) 中东运往欧洲西部的石油走最近的航线须过 C_____运河。
- (4) 二战以来，中东一直是全世界最关注的热点地区的原因是_____。

- ①位于三洲五海之地
- ②石油资源丰富
- ③水资源匮乏
- ④多元的文化

- A. ①②
- B. ①②③
- C. ①②④
- D. ①②③④

解析：本题主要考查西亚的主要海洋、海湾、海峡和湖泊。

- (1) 图中字母 A 代表的海域是地中海。

(2) 中东是世界上石油储量最为丰富、石油产量和输出量最多的地区，主要分布在 B 波斯湾及其沿岸地区。石油产量通常占世界总产量的 1/4，沙特阿拉伯、伊朗、科威特和伊拉克是世界重要的产油国。

(3) 中东运往欧洲西部的石油走最近的航线是：波斯湾—霍尔木兹海峡—阿拉伯海—曼德海峡—红海—C 苏伊士运河—地中海—直布罗陀海峡—大西洋—西欧或北美。

(4) 位置领土（或三洲五海之地）纷争、宗教文化矛盾、对石油和水资源的争夺，是中东地区发生战争和冲突的重要因素，其中主要原因是石油输出量大。也可以说中东的战争是为信仰而战、为水而战、为油而战、为土地而战。

答案：(1) 地中海

(2) 波斯湾

(3) 苏伊士

(4) D

27. 读图 1，完成下列各题。□



图 1




图 2

(1) 我国东临_____（海洋），西部深入_____大陆腹地，与许多国家相接壤。图中的邻国 A 是_____，隔海相望的国家 B 是_____。

(2) 我国陆地领土面积约_____万平方千米，居世界第三位。□

(3) 我国幅员辽阔，东西相距 5000 多千米，跨经度 60 多度，这就造成了_____（如图 2）。

(4) 我国与尼泊尔相邻的省级行政区的简称是_____，它位于_____（地形区）之上。

解析：本题考查我国的地理位置、省区、范围、邻国等。

(1) 我国东临太平洋，西部深入亚欧大陆腹地，与许多国家相接壤。与我国接壤的国家有 14 个，图中的邻国 A 是俄罗斯；与我国隔海相望的国家有 6 个，图中 B 是韩国。

(2) 我国陆地领土面积约 960 万平方千米，仅次于俄罗斯、加拿大，居世界第三位。□

(3) 我国幅员辽阔，东西相距 5000 多千米，跨经度 60 多度，这就造成时间差异，当我国的乌苏里江上朝阳升起的时候，帕米尔高原处于繁星满天的景象。南北相距 5500 多千米，跨纬度近 50 度，这就造成气候差异。

(4) 我国与尼泊尔相邻的省级行政区为西藏自治区，其简称是藏，它位于青藏高原之上。

答案：(1) 太平洋 亚欧 俄罗斯 韩国

(2) 960

(3) C

(4) 藏 青藏高原

28. 读图，完成下列各题。■



(1)黄土高原东起_____，西到乌鞘岭，北连内蒙古高原，南至秦岭，是世界上最大的黄土覆盖区。

(2)黄土高原的地表形态特征是_____。

(3)下列不属于黄土高原特有的地貌是_____。

- A. 塬
- B. 梁
- C. 峁
- D. 坝

(4)在西部大开发中，黄土高原地区必须坚持_____。

- A. 跨流域调水
- B. 大力发展种植业
- C. 退耕还林还草
- D. 发展高新技术产业

(5)造成黄土高原水土流失严重的原因有_____（至少两点）。

解析：本题主要考查黄土高原水土流失的治理。

(1)黄土高原是世界最大的黄土沉积区，大致北起长城，南至秦岭，西抵乌鞘岭，东到太行山，面积约 50 万千米²。在这片广阔的区域内，黄土覆盖厚度大多在 100 米以上。

(2)黄土高原的生态环境十分脆弱。黄土结构疏松，裂隙较多，缺乏植被保护，在降水集中的夏季，尤其是暴雨期间，容易遭受侵蚀。由于长期的水土流失，黄土高原呈现出如今沟壑纵横的地表形态。

(3)由于长期的流水侵蚀和搬运，黄土高原呈现出如今沟壑纵横的地表形态，形成了独特的黄土塬、黄土梁、黄土峁等地貌类型。

(4)防治黄土高原水土流失的措施有工程措施、农业技术措施和生物措施，具体措施是大力植树种草，增加植被覆盖率，合理安排生产活动，退耕还林还草，以及整修梯田、修筑挡土坝等工程。但大力发展种植业，增加耕地容易造成水土流失加剧，破坏生态环境。

(5)造成黄土高原水土流失的原因：自然原因——地势较高，起伏较大；降水集中，多暴雨；植被覆盖较差；黄土结构疏松，多裂隙；人为原因——人类不合理利用土地资源，导致植被破坏。如过度开垦、过度放牧、过度樵采、不合理开矿等。

答案：(1)太行山

(2)沟壑纵横

(3)D

(4)C

(5)土质疏松，植被稀少，夏季暴雨集中等

29. 读材料和如图，完成下列各题。■

中新社北京 2014 年 5 月 2 日电 中国国家海洋局 2 日发布消息称，当日中国海警 2401、2102、2166 船编队在钓鱼岛领海内巡航。□



- (1) 钓鱼岛自古就是中国的固有领土，它属于我国的_____省。
- (2) 从图中可以看出台湾省的城市集中分布在_____。
- (3) 台湾省隔_____与我国 A 省相望。□
- (4) 去台湾省旅游，可以观赏该省最大的湖泊_____。欣赏台湾_____（少数民族）原住民最隆重，规模最大的丰收节的节目表演，感受同根同源的文化。

解析：本题主要考查台湾省的地理位置和地域组成；台湾的主要自然资源及分布。

- (1) 钓鱼岛自古就是中国的固有领土，位于台湾岛的东北部，它属于我国的台湾省。
- (2) 台湾岛西部地形是平原，中部和东部是山地，台湾省的城市集中分布在西部平原，该地区地形平坦。
- (3) 台湾省隔台湾海峡与我国 A 省即福建省相望。
- (4) 去台湾省旅游，可以观赏该省最大的湖泊日月潭。欣赏台湾高山族原住民最隆重，规模最大的丰收节的节目表演，感受同根同源的文化。

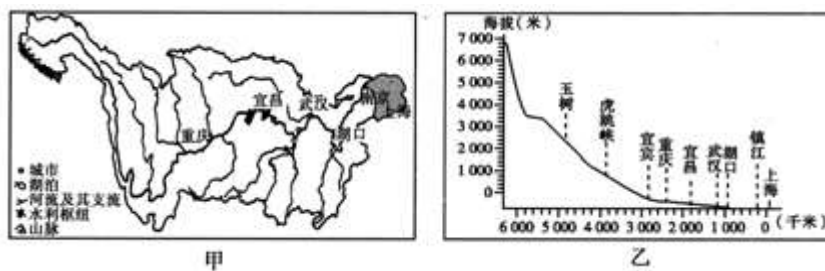
答案：(1) 台湾

(2) 西部平原

(3) 台湾海峡

(4) 日月潭 高山族

30. 读图，完成下列各题。□



- (1) 长江发源于青藏高原的_____（山脉），注入_____海，全长 6300 千米，是我国第一大河。□
- (2) 长江水能资源丰富，水能蕴藏量占全国的三分之一，主要分布在_____（上游、中游、下游）河段。在长江上建成了世界最大的_____水利枢纽。□
- (3) 图甲中阴影部分是长江三角洲地区，该地区形成了我国最大的城市群——长江三角洲城市群，其核心城市是_____，它不仅对长江三角洲地区，而且对长江流域乃至全国都有辐射带动作用。

解析：本题主要考查长江上中下游的分界点及各河段的特征。

- (1) 长江发源于青藏高原的唐古拉山，注入东海，全长 6300 千米，是我国第一大河。

(2) 长江水能资源丰富，水能蕴藏量占全国的三分之一，主要分布在上游河段，有水能宝库之称。在长江上建成了世界最大的三峡水利枢纽，该工程位于我国地势第二阶梯与第三阶梯的交界处。

(3) 图甲中阴影部分是长江三角洲地区，该地区形成了我国最大的城市群——长江三角洲城市群，其核心城市是上海，它不仅对长江三角洲地区，而且对长江流域乃至全国都有辐射带动作用。

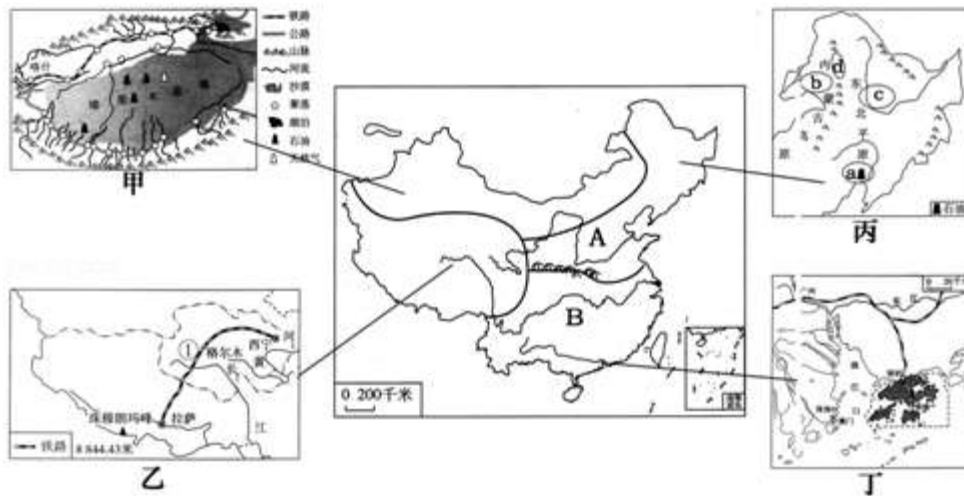
答案：

(1) 唐古拉山 东

(2) 上游 三峡

(3) 上海

31. 读图，完成下列各题。



(1) 甲图所示区域主要的自然特征是_____，形成这种自然特征的主要原因是_____。该地区蕴藏着丰富的油气资源，西气东输工程的起点是该地区的_____。

(2) 乙图所示区域位于我国地势的第_____级阶梯，铁路线①是_____铁路。

(3) A、B 两地区的分界线是_____（山脉）—淮河，造成两地植被类型差异的主要因素是_____。

(4) 丙图中的东北平原是我国重要的商品粮基地，该地区成为我国重要商品粮基地的有利条件是_____。

- A. 土壤肥沃，适宜农作物生长
- B. 地广人稀，本地粮食消费少
- C. 农业科学技术水平低
- D. 气候冷湿，沼泽广布

(5) 丙图所示地区中，工农业布局符合因地制宜思想的是_____。

- A. a 地——石油工业
- B. b 地——种植业
- C. c 地——林业
- D. d 地——渔业

(6) 丁图中港澳地区和珠江三角洲地区合作形成“前店后厂”的基本模式，其中属于珠江三角洲的优势是_____。

- A. 自然资源
- B. 资金

C. 转口贸易

D. 土地

解析：本题主要考查新疆维吾尔自治区；珠江三角洲工业基地的位置和特点。

(1)我国西北地区地处内陆，远离海洋，年降水量表现出由东向西逐渐减少的态势。甲处新疆塔里木盆地降水甚少，盆地中吐鲁番西部的托克逊年降水量仅 5.9 毫米，是全国降水最少的地方。总的来说，干旱是本区自然环境的主要特征。西气东输工程西起新疆塔里木盆地的轮南气田，往东直通南京、上海，成为横贯中国的能源大动脉。

(2)乙青藏地区的主体是有“世界屋脊”之称的青藏高原，位于我国地势的第一级阶梯。图中①青藏铁路东起西宁，经格尔木，西至拉萨，全长 1 956 千米。

(3)秦岭与淮河一线是我国 A 北方地区和 B 南方地区的地理界线。受气候的影响，在它的南北两侧，自然环境、地理景观和居民的生产生活习惯有显著差异。

(4)东北平原成为我国重要的商品粮基地的有利条件有：地形平坦，土地集中连片，适于大规模机械化耕作，农业科学技术水平；土壤肥沃，雨热同期，适宜农作物生长；地广人稀，本地粮食消费少，商品率高。

(5)各地区应根据当地的自然地理条件和经济社会状况，因地制宜地发展工农业，如图 a 地石油丰富——适宜发展石油工业，b 地草场广阔——适宜发展畜牧业，c 地地势平坦、土地肥沃——适宜发展种植业，d 地的山区是我国重要的林业基地。

(6)港澳地区为祖国内地提供资金和先进的技术、管理经验，利用海外贸易窗口优势，承接海外订单，从事新产品、新工艺的开发，控制产品质量，进行市场推广和对外销售，扮演“店”的角色；祖国内地则利用土地、自然资源和劳动力优势，进行产品的加工、制造和装配等，扮演“厂”的角色。并为香港旅游业、影视业、金融业等产业的发展提供强有力的支撑。

答案：(1)干旱 深居内陆、远离海洋 轮南气田

(2)一 青藏

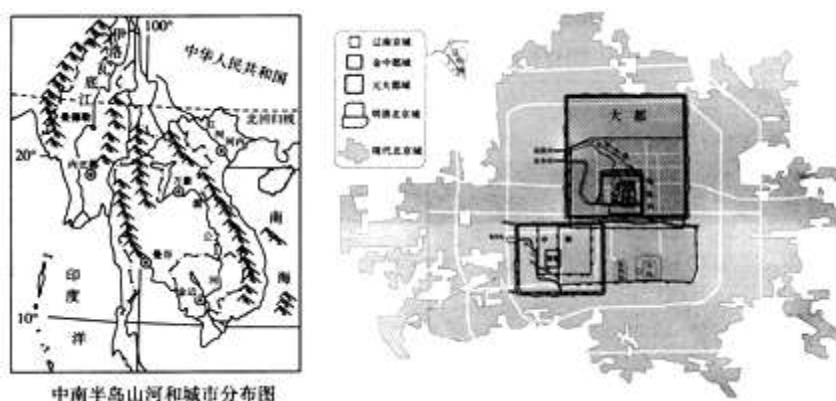
(3)秦岭 气候

(4)AB

(5)A

(6)AD

32. 读图，完成下列各题。□



(1)东南亚位于亚洲的东南部，包括中南半岛和_____两大部分。□

(2)为适应把北京建设成现代化大都市的需要，北京应积极发展_____。□

A. 旅游业

B. 高新技术产业

C. 房地产业

D. 钢铁工业

(3) 影响聚落的形成与发展，人口和城市分布的主要因素有地形、气候、河流、土壤等。从上图可以看出影响北京古城城址变迁和东南亚中南半岛城市分布的主要因素是_____。该因素对城市发展和人民生活有哪些影响？（可从有利条件和弊端等方面作答，至少两点）_____、_____。

解析：该题考查东南亚的地理特征以及影响城市和人口分布的因素。

(1) 东南亚位于亚洲的东南部，其有两部分组成：中南半岛和马来群岛。

(2) 为了成为国际大都市，增强国际竞争力和城市服务功能，北京一方面加大了基础设施建设力度，完善城市道路系统，另一方面，积极发展高新技术产业，提高城市管理效率和服务质量。

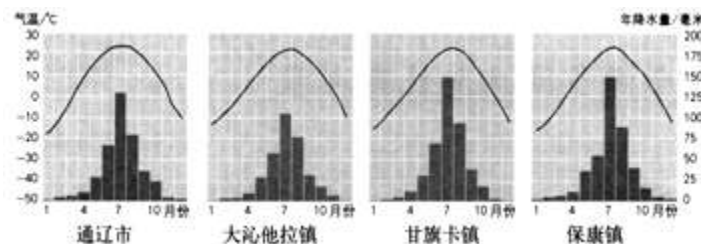
(3) 利于聚落形成和发展的主要因素有：地形平坦、土壤肥沃、水源充足、适于耕作、自然资源丰富、交通便利等。从上图可以看出影响北京古城城址变迁和东南亚中南半岛城市分布的主要因素是水源；世界上许多城市都分布在河流沿岸及三角洲，这是因为河流沿岸能够为城市发展提供有充足的水源、平坦的平原，土壤肥沃，适合农作物生长，方便灌溉和饮用，靠近河流交通便利，同时也易于发生水患灾害。

答案：(1) 马来群岛

(2) B

(3) 水源 河流沿岸能够为城市发展提供有充足的水源、平坦的平原，土壤肥沃，适合农作物生长，方便灌溉和饮用，靠近河流交通便利 易于发生水患灾害

33. 读图，完成下列各题。□



(1) 通辽市冬季多偏_____（北、南）风。□

(2) 从通辽市、大沁他拉镇、甘旗卡镇、保康镇等城市的气温曲线图和降水量柱状图可以概括出通辽地区的气候特点是_____。春季对农业生产影响最大的自然灾害是_____。□

(3) 通辽市主要的农作物有哪些？（试举两例）_____。

(4) 从通辽去北京旅游，不适宜选择的运输方式是_____。□

- A. 铁路运输
- B. 公路运输
- C. 航空运输
- D. 水路运输

解析：本题主要考查内蒙古自治区。

(1) 通辽市冬季多偏北风，来自于亚欧大陆和蒙古一带。(2) 从通辽市、大沁他拉镇、甘旗卡镇、保康镇等城市的气温曲线图和降水量柱状图可以概括出通辽地区的气候特点是冬冷夏热，降水较少且主要集中在夏季。春季降水较少，对农业生产影响最大的自然灾害是干旱。

(3) 通辽市主要的农作物有玉米、马铃薯等。(4) 从通辽去北京旅游，有公路运输、铁路运输、航空运输；这里河流较少，不适宜选择的运输方式是水运，故选项 D 符合题意。

答案：

(1) 北

(2) 冬冷夏热，降水较少且主要集中在夏季 干旱

(3) 玉米、马铃薯

(4) D