

2016 年海南省中考真题历史

一、选择题（本大题有 20 小题，每小题四个选项中只有一项正确，每小题 3 分，共 60 分）

1. 商朝是我国青铜文化的灿烂时期。下列能够代表这一时期青铜工艺成就是（ ）



A. 司母戊鼎



B. 鱼纹彩陶盆



C. 甲骨文



D. 冰裂纹瓷器

解析：司母戊鼎高 133 厘米、口长 110 厘米、口宽 78 厘米、重 832.84 千克，四足中空，用陶范铸造，鼎体浑铸，是世界上现存最大的青铜器。司母戊鼎是商朝最具代表性的青铜器，体现商朝青铜文明的灿烂。故选 A。

答案：A

2. 秦统一后，围绕着在地方采取何种统治方式的问题，君臣之间发生过激烈争论。最终，秦始皇在地方推行（ ）

- A. 分封制
- B. 郡县制
- C. 科举制
- D. 行省制

解析：根据所学知识可知：秦始皇为了加强中央集权，在地方上实行郡县制，郡下设县。分封制是西周实行的制度，科举制是隋朝创立的选拔人才的制度，行省制是元朝实行的制度。故选 B。

答案：B

3. 赤壁之战是一场以少胜多的战役，为三国鼎立局面的形成奠定了基础。这一战役的交战双方是曹军与（ ）

- A. 匈奴大军

- B. 孙刘联军
- C. 前秦军队
- D. 东晋军队

解析：208年赤壁之战是东汉末年孙刘联军抗击曹操的著名战争。曹操统一北方后。孙权和刘备共同抗曹，派周瑜在赤壁与曹操决战。孙刘联军利用曹军不善于水战，用火攻大败曹操。故选B。

答案：B

4. “开元初，四方丰稔（丰收），城镇商铺林立，客商如云。”直接反映了唐玄宗统治前期（ ）

- A. 经济发展
- B. 吏治清明
- C. 人才济济
- D. 生活奢侈

解析：“开元初，四方丰稔（丰收），城镇商铺林立，客商如云。”直接反映了唐玄宗统治前期的经济发展。唐玄宗即位后，任用姚崇等人当宰相，重视地方吏治，还注意节俭。使开元年间政治清明，经济空前繁荣，仓库充实，人口增加，唐朝进入全盛时期，唐玄宗前期的年号叫开元，史称“开元盛世”。故选A。

答案：A

5. 北宋时，为了适应大宗买卖的需要，方便商人交易，四川地区使用了纸币（ ）

- A. 圆形方孔钱
- B. 五铢钱
- C. 开元通宝
- D. 交子

解析：北宋前期，四川地区出现交子，这是世界上最早的纸币。纸币的产生有利于商业发展。故选D。

答案：D

6. 115年前，在冒着硝烟的大炮下，清政府与西方列强签订了一个丧权辱国的条约，使中国完全沦为半殖民地半封建社会。该条约是（ ）

- A. 《南京条约》
- B. 《北京条约》
- C. 《马关条约》
- D. 《辛丑条约》

解析：A.《南京条约》使中国开始沦为半殖民地半封建社会。B.《北京条约》使中国的半殖民地化程度进一步加深。C.《马关条约》使中国的半殖民地化程度大大加深。D.《辛丑条约》中国完全沦为半殖民地半封建社会。故选D。

答案：D

7. 邮票是国家的一张名片，承载着历史的记忆。如图，这组邮票纪念的是（ ）



七七战火 台儿庄大捷 百团大捷 敌后游击战

- A. 北伐战争
- B. 抗日战争
- C. 解放战争
- D. 抗美援朝战争

解析：依据邮票内容“七七战火、台儿庄大捷、百团大战、敌后游击战”得出，这是抗日战争中的史实。1937年7月7日，日军侵略军在北平西南的卢沟桥，以军事演习为名，向中国军队发动突然进攻，中国军队奋起抵抗，全国性的抗日战争从此爆发。这就是卢沟桥事变，又称七七事变。1938年日军进攻战略要地徐州，在李宗仁指挥下，双方在台儿庄地区展开激战，结果中国军队大败日军，消灭日军一万多人，台儿庄战役是抗战以来中国军队取得的重大胜利，它打击了日本侵略者的嚣张气焰，鼓舞了中国人民的抗战士气。1940年8月，八路军在彭德怀等指挥下，先后共出动100多个团约20万人，在华北2000多千米的战线上，向日军发动大规模攻击，史称“百团大战”。百团大战是抗战期间中国军队主动出击日军的一次最大规模的战役，它提高了中国共产党和八路军的威望，坚定了全国人民抗战胜利的信心。敌后游击战，更是人们熟悉的抗日战争中的史实。故选B。

答案：B

8. 张謇说：“天之生人也，与草木无异。若遗留一二有用事业，与草木同生，即不与草木同腐朽。”张謇创办的“有用事业”是（ ）

- A. 安庆内军械所
- B. 汉阳铁厂
- C. 轮船招商局
- D. 大生纱厂

解析：题目给出了19世纪末的状元张謇这个重要人物，设问考查他“遗留一二有用事业”。清末状元实业家张謇深感要挽回中国的利益，必须发展本国的工商业，于是他提出了“实业救国”的口号，主动放弃高官厚禄，回乡创办大生纱厂等一系列企业。故选D。

答案：D

9. 1956年社会主义制度在我国基本建立，其主要依据是（ ）

- A. 抗美援朝战争的胜利
- B. “一五”计划的实施
- C. 公有制经济占主导地位
- D. “大跃进”运动的开展

解析：据所学知识可知，三大改造是指新中国成立后，中国共产党领导的对农业、手工业和资本主义工商业的社会主义改造。社会主义三大改造的完成，实现了把生产资料私有制转变为社会主义公有制，使中国从新民主主义社会跨入了社会主义社会，我国初步建立起社会主义的基本制度。从此，进入社会主义的初级阶段。故选C。

答案：C

10. 《我的父亲焦裕禄》一书以女儿焦守云的视角回望了父亲的一生。书中，焦裕禄的事迹应该包括（ ）

- A. 建设大庆油田
- B. 研制原子弹
- C. 治理兰考“三害”
- D. 培育杂交水稻

解析：焦裕禄在任中共河南省兰考县县委书记时，兰考县遭受内涝、风沙、盐碱三害，粮食产量降到历史最低水平。他带领全县干部和群众，同自然灾害进行顽强斗争，使兰考贫困面貌大为改观，他身患癌症，仍然坚持工作，直到生命最后，人民称颂他是“党的好干部”。故选 C。

答案：C

11. 爱护文物，保护遗存，是为了尊重历史，传承文明。在海南现存的古城中，保存最完整、极具代表性的是（ ）

- A. 崖州古城
- B. 儋州古城
- C. 定安古城
- D. 文昌孔庙

解析：据所学知识，定安古城遭受五百年来的风雨侵蚀及战火破坏，然而经历代多次修葺，是海南现存的古城中，保存最完整、极具代表性的城池，城门洞内仍保存有当年固定门轴的门臼和门闩的洞，古城古道风貌依存。故选 C。

答案：C

12. 1931 年，一支飒爽英姿的女兵战斗连队——红色娘子军在万泉河畔建立。她们敢于奋斗，不怕牺牲，曾经参加（ ）

- A. 沙帽岭伏击战
- B. 潭口阻击战
- C. 那大战役
- D. 海南岛战役

解析：据所学知，1931 年 5 月 1 日，女子特务连的战旗，高高飘扬在中国工农红军第二独立师的行列里，赤赤乡作为女子军的诞生地永垂青史。2 个月后，娘子军投入了真正的战斗。沙帽岭伏击战，是女子军成立后第一次正面战斗，“娘子军”威名不胫而走。在这之后，女子军又在火烧文市炮楼、保卫文魁岭、阻击马鞍山战役中打出了声威。故选 A。

答案：A

13. “公民大会是最高权力机构，公民一律平等，有权参与国家管理。除十将军外，国家各级官职向所有公民开放，通过选举产生。”该材料叙述的是雅典（ ）

- A. 种姓制度
- B. 等级制度
- C. 民主政治
- D. 君主专制

解析：根据所学知识可知：公元前 5 世纪后半期是伯利克里当政时期，伯利克里在位的时候采取了一系列措施使得雅典奴隶主民主政治发展到古代世界的高峰，伯利克里扩大公民权

利，很多公民担任了政府公职，全体成年男性公民可以参加最高权力机构公民大会，决定内政、外交、和平、战争等重大问题。故选 C。

答案：C

14. 如图是麦加大清真寺，每天都有不少穆斯林面朝寺中克尔白神庙的方向朝拜，他们信仰的是（ ）



- A. 佛教
- B. 道教
- C. 伊斯兰教
- D. 基督教

解析：解题时紧扣“麦加清真寺”可知，麦加大清真寺是伊斯兰教的代表性建筑，是伊斯兰教的第一大圣寺。故选 C。

答案：C

15. 近期，意大利政府展示了大航海家哥伦布写于 1493 年的一封信件的原件，里面详述了发现“新大陆”的细节。“新大陆”指（ ）

- A. 非洲
- B. 美洲
- C. 亚洲
- D. 欧洲

解析：依据题干内容：意大利政府展示了大航海家哥伦布写于 1493 年的一封信件的原件，里面详述了发现“新大陆”的细节。可是对发现美洲大陆的进一步阐述。结合所学可知哥伦布在西班牙的天主教君主的赞助下，他在 1492 年横渡大西洋，并且成功到达美洲。他使得普通欧洲人也知道了美洲。故选 B。

答案：B

16. 海南西环高铁于去年底正式开通运营，全球首条环岛高速铁路诞生了。铁路最早出现在（ ）

- A. 蒸汽时代
- B. 电气时代
- C. 信息时代

D. 知识经济时代

解析：工业革命中史蒂芬孙发明了火车机车，铁路出现，瓦特完成了对蒸汽机的改进，蒸汽机的发明和普遍应用彻底改变了人类生产和生活的面貌，开创了一个崭新的时代——蒸汽时代。故选 A。

答案：A

17. 今年 5 月底，法德两国领导人共同纪念凡尔登战役爆发 100 周年，缅怀当年阵亡的将士，呼吁欧洲团结。凡尔登战役发生于（ ）

- A. 1914 年
- B. 1915 年
- C. 1916 年
- D. 1917 年

解析：凡尔登战役从 1916 年 2 月 21 日延续到 12 月 19 日，德、法两国投入 100 多个师兵力，军队死亡超过 25 万人，50 多万人受伤，被称为“凡尔登绞肉机”。故选 C。

答案：C

18. 如图所示，框内的一系列事件反映的主题是（ ）

1952 年，埃及爆发反帝反封建革命

1960 年，非洲有 17 个国家获得独立

1990 年，纳米比亚独立

- A. 亚洲独立与振兴
- B. 欧洲复兴之路
- C. 非洲独立浪潮
- D. 拉美独立运动

解析：据所学知识，“二战”后，非洲的独立浪潮首先在北非兴起，标志着欧洲殖民者奴役非洲几百年的历史结束的是 1990 年，纳米比亚赢得了独立，这标志着欧洲殖民者入侵和奴役非洲长达五个世纪历史的结束，帝国主义在非洲的殖民体系最终崩溃。故选 C。

答案：C

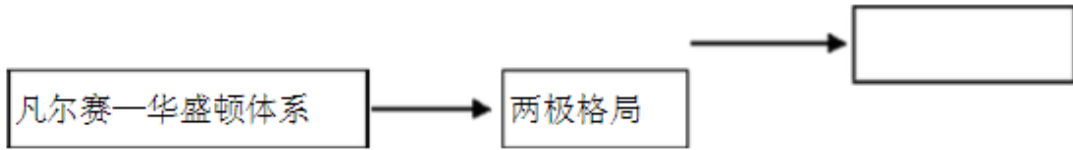
19. 二战后，日本教育经费在政府财政预算中所占比重超过 20%，名列资本主义世界各国之首。90 年代有 1/3 以上的成年人受过大学教育。这说明日本（ ）

- A. 大力扶植私人企业
- B. 引进先进的生产技术
- C. 接受美国的经济援助
- D. 十分重视教育

解析：由材料“二战后，日本教育经费在政府财政预算中所占比重超过 20%，名列资本主义世界各国之首。90 年代 1/3 以上的成年人受过大学教育”可知，材料主要围绕的核心问题就是日本对教育的投入和日本人受教育的程度等。这充分体现了日本对教育的重视，ABC 三项与材料内容不符，可排除。故选 D。

答案：D

20. 某同学正在制作 20 世纪以来国际政治格局演变示意图，图中空格处应填写的演变趋势是（ ）



- A. 集团化
- B. 区域化
- C. 全球化
- D. 多极化

解析：据所学知，1991 年苏联解体，标志着两极格局瓦解，美国成为了唯一的超级大国，同时还存在几个重要的力量中心，欧盟、中国、俄罗斯、日本，在这此力量中心的推动下，世界格局正朝着多极化方向发展。故选 D。

答案：D

二、材料解析题（本大题有 2 小题，21 小题 12 分，22 小题 15 分，共 27 分）

21. （12 分）阅读下列材料：

材料一

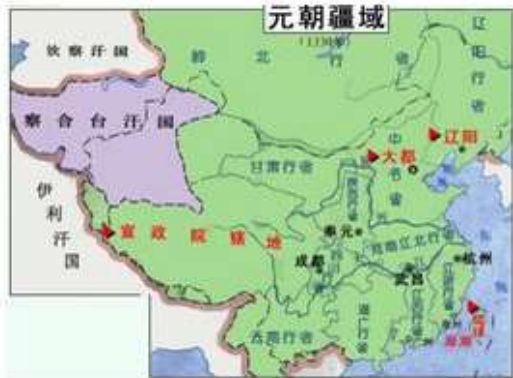


图 1 元朝疆域图

1727 年，清朝开始设立驻藏大臣，作为中央政府的代表长驻西藏，同达赖、班禅共同管理西藏。乾隆皇帝制定“金瓶掣签”制度，规定活佛转世的人选，必须用中央颁发的金奔巴瓶抽签决定。
——北师大版《中国历史》七年级下册教材

图 2

材料二：1951 年 5 月 23 日，中央人民政府和西藏地方人民政府签订了《关于和平解放西藏办法的协议》，西藏获得和平解放。1959 年春，中央人民政府果断平叛，并领导西藏人民进行民主改革，被解放了的百万农奴迸发出无比的生产热情。1965 年 9 月，西藏自治区及其人民政府正式宣告成立。此后，西藏的经济发展和社会进步日新月异。2015 年底，西藏自治区全区生产总值达到 1026.39 亿元，增长 11%，增速位居全国前列。

——中国网

请回答：

- (1) 观察图 1，“宣政院辖地”指的是今天哪个地区？根据图 2，概括清朝管辖西藏的措施。
- (2) 今年是西藏和平解放多少周年？依据材料二，归纳西藏经济发展和社会进步的原因。
- (3) 以上两则材料共同说明了什么？

解析：

(1) 元朝仿效中原王朝的政治体制建立行省制度，并将西藏、云南、辽阳、岭北等边陲地区都置于中央政府的管辖之下。其中设澎湖巡检司管理台湾，设宣政院管理西藏，这也是西藏

正式归属中央管辖的开始。故答案为西藏。清朝前期，顺治帝册封五世达赖，康熙帝册封五世班禅，建立了金瓶掣签制度；1727年，清朝开始设置驻藏大臣；清朝颁布法令，明确规定驻藏大臣代表中央政府，同达赖、班禅共同管理西藏事务；达赖和班禅的继承，必须经请中央政府批准。

(2) 西藏于1951年和平解放，2016年是和平解放65周年。65年的风雨历程，65年的沧桑巨变，材料“1951年5月23日，中央人民政府和西藏地方人民政府签订了《关于和平解放西藏办法的协议》，西藏获得和平解放”结论是西藏获得和平解放；材料“1959年春，中央人民政府果断平叛”，结论是平叛；处理“中央人民政府领导西藏人民进行民主改革”，结论是进行民主改革；材料“被解放了的百万农奴迸发出无比的生产热情”，结论是农奴的生产热情高；材料“1965年9月，西藏自治区及其人民政府正式宣告成立”，结论是实行民族区域自治制度，以此回答即可。

(3) 主观性问题，符合题意即可，如西藏自古以来就是中国的领土，历代中央政府都重视对西藏的管辖等。

答案：

(1) 西藏地区；措施：设立驻藏大臣；制定金瓶掣签制度。

(2) 65周年。原因：①西藏获得和平解放；②平叛；③进行民主改革（或废除农奴制）；④人民的努力（或农奴的生产热情）；⑤建立西藏自治区（或实行民族区域自治制度）。

(3) ①西藏自古以来就是中国的领土；②历代中央政府都重视对西藏的管辖。

22. (15分) 阅读下列材料：

材料一：人人生而平等，造物者赋予他们若干不可剥夺的权利，其中包括生命权、自由权和追求幸福的权利。为了保障这些权利，人类才在他们之间建立政府，而政府之正当权力，是经被治理者的同意而产生的……这些联合一致的殖民地从此是自由独立的国家……它们和大不列颠国家之间的一切政治关系从此全部断绝。

——《独立宣言》（摘自钱满素《美国文明读本》）

材料二：在上述各州及区域内（叛乱地区），所有被视作奴隶的人立获自由并于以后永保自由；合众国政府包括陆海军当局将承认和维护他们的自由。

——《解放黑人奴隶宣言》（摘自钱满素《美国文明读本》）

材料三：（1933年，罗斯福政府颁布某法案）根据这个法案，各工业企业制定本行业的公平经营规章，确定各企业的生产规模、价格水平、市场分配。还规定了工人的一些基本权利，如规定了每周的最高工作时数和最低工资额，工人有权组织工会等。

——中华书局版《世界历史》九年级下册教材

请回答：

(1) 《独立宣言》颁布于哪一年？根据材料一，简要概括《独立宣言》的内容。

(2) 结合材料二与所学知识，判断下列说法是否正确。正确的打（√），错误的打（×）。

① 林肯政府颁布了《解放黑人奴隶宣言》。

② 自1863年元旦起，美国所有的黑人奴隶获得自由和解放。

③ 《解放黑人奴隶宣言》的颁布，表明美国联邦政府终止奴隶制的决心。

(3) 材料三中的“法案”指的是哪一法律文献？该文献起了什么作用？

(4) 根据上述材料，你认为推动美国发展的因素有哪些？

解析：

(1) 依据教材内容以及所学知识，可知材料一中提到的《独立宣言》发表是1776年，《独立宣言》是美国独立战争时期，为了摆脱英国的殖民统治而发表的，该宣言的发表标志着美国的诞生。《独立宣言》的内容，根据材料“造物者赋予他们若干不可剥夺的权利，其中包括

生命权、自由权和追求幸福的权利”，体现了天赋人权；材料“为了保障这些权利，人类才在他们之间建立政府”，体现了政府的权力是人民赋予的；材料“而政府之正当权力，是经被治理者的同意而产生的”体现了政府要保护人民享有的各种权利；材料“这些联合一致的殖民地从此是自由独立的国家…它们和大不列颠国家之间的一切政治关系从此全部断绝”，体现了宣告北美 13 个殖民地脱离英国而独立，以此回答即可。

(2) 主要考查学生对《解放黑人奴隶宣言》颁布相关史实的准确识记，回顾已学知识可知《解放黑人奴隶宣言》是 1862 年林肯政府颁布的。根据所学知识可知，本题考查了《解放黑人奴隶宣言》。1861 年美国内战爆发，1862 年林肯政府颁布《解放黑人奴隶宣言》规定从 1863 年元旦起，废除叛乱各州的奴隶制，并允许奴隶作为自由人参加北方军队。此后，黑人奴隶制被废除，他们永远获得自由，题干描述“美国所有的黑人奴隶获得自由和解放”太绝对，是错误的观点。1861 年美国内战爆发，1863 年林肯颁布《解放黑人奴隶宣言》规定从 1863 年元旦起，废除叛乱各州的奴隶制，并允许奴隶作为自由人参加北方军队。此后，黑人奴隶制被废除，所以《解放黑人奴隶宣言》的颁布，表明美国联邦政府终止奴隶制的决心。

(3) 本题考查罗斯福新政的特点。罗斯福新政最主要的特点是在不改变资本主义制度的前提下，加强国家对经济的干预和指导，这也是“新”的表现，在整个新政的内容中，《国家工业复兴法》是中心措施，加强了政府对资本主义工业生产的控制和调节。积极作用：一定程度上减轻了经济危机对美国经济的严重破坏，使美国缓和了经济危机，促进了社会生产力的恢复，为二战的胜利准备了物质基础。缓和了社会矛盾，遏制了美国的法西斯势力，巩固了资本主义统治，保证了美国的民主。开创了国家干预经济的新模式，对美国以及许多资本主义国家经济政策的发展产生了重要影响，有利于美国经济的复苏；有利于保障工人的权利等。

(4) 推动美国发展的因素有：实现民族独立、改革社会经济（调整经济政策）、重视科教，加强国家对经济的宏观调、发展高新技术、改造传统产业、杰出人物的推动等。

答案：

(1) 1776 年。内容：天赋人权；政府的权力是人民赋予的；政府要保护人民享有的各种权利；宣告北美 13 个殖民地脱离英国而独立等。

(2) ①√；②×；③√

(3) 《国家工业复兴法》或《国家产业复兴法》。作用：有利于防止盲目竞争引起的生产过剩；加强了政府对资本主义工业生产的控制与调节；缓和了阶级矛盾，有利于社会稳定；缓和了经济危机，有利于美国经济的复苏；有利于保障工人的权利等。

(4) 实现民族独立；追求民主、自由、平等；适时调整政策，加强国家对经济的宏观调控；杰出人物的推动等。

三、简答题（本大题有 1 小题，共 13 分）

23.（13 分）中国共产党成立 95 年以来，为求得民族独立、国家富强和人民幸福，披荆斩棘，开拓创新，取得了辉煌成就。结合所学知识，回答下列问题：

【独立篇】



中共“一大”会址

开国大典

(1)1921年7月，中共“一大”在_____召开（后转移到浙江嘉兴南湖的一艘游船上），标志着中国共产党的诞生。经过28年的艰苦奋斗，党领导人民取得了新民主主义革命的胜利。1949年10月1日，开国大典的举行标志着_____，中国人民从此站起来了。

【成就篇】




图1《乔的笑》 图2东方红1号卫星 图3尼克松访华



图4中国第一颗原子弹爆炸成功 图5鞍山大型轧钢厂

(2)在中国共产党领导下，新中国取得了巨大成就。仿照下表示例，对图片进行归类。

类别	成就
经济	图5
科技	图2、图4
	图1、图3

【思考篇】

材料一 俄罗斯科学院远东研究所所长米哈伊尔·季塔连科说：“中国成功的根本原因在于中国共产党能够按照变化了的时代条件，及时平稳地调整党和国家的发展政策，用不断创新的中国化的马克思主义指导实践。”

——新华网

材料二



崛起的深圳

凤阳县农业生产三年三大步

1980 年产粮	5.02 亿千克
1981 年产粮	6.70 亿千克
1982 年产粮	7.15 亿千克

(3)请结合材料二与所学知识，证明材料一中的观点。

解析：

(1)本题考查了中国共产党的诞生和新中国的成立的相关知识点。中国共产党第一次全国代表大会于 1921 年 7 月在上海召开，标志着中国共产党的诞生。经过 28 年的艰苦奋斗，党领导人民取得了新民主主义革命的胜利。开国大典 1949 年 10 月 1 日在北京天安门举行，新中国成立标志新民主主义革命的胜利。

(2)本题考查了新中国取得了巨大成就，包括经济、科技和外交，仔细阅读图片，分别找出对应的内容即可，如图 5，是鞍山企业的发展，是经济建设的成就；图 4 是中国第一颗氢弹爆炸的图片，是科技的成就；图 1 乔的笑，中国重返联合国，当时中国代表团的团长是乔冠华，照片上他在笑，所以是外交的成就，以此回答即可。

(3)材料二的内容是深圳经济特区的巨大成就和农村实行家庭联产承包责任制后凤阳县农业生产三年三大步，结合材料一的内容，体现了当今时代的主题是和平与发展；我国与发达国家间的差距拉大。文革给中国社会带来灾难；粉碎“四人帮”后，百废待兴等，十一届三中全会召开，我国实行改革开放，在农村实行家庭联产承包责任制，建立深圳等经济特区，找到了适合自己的道路中国特色社会主义道路，据此回答。

答案：

(1)上海；中华人民共和国的诞生或新中国的成立。

(2)

类 别	成 就
	图 5
	图 4
外交	图 1

(3)答案要点：①和平与发展成为时代的主题；第三次科技革命蓬勃发展；我国与发达国家间的差距拉大。文革给中国社会带来灾难；粉碎“四人帮”后，百废待兴等。②十一届三中全会召开，中国实行改革开放，在农村实行家庭联产承包责任制，建立深圳等经济特区。③探索出中国特色社会主义道路（或形成了邓小平理论）。