

2018年湖北省孝感市孝南区中考一模试卷地理

一、单项选择题：（每题给出的选项中，只有一项符合要求，每小题2分，共14分）

1. 小明同学在学习完世界地理后，对东南亚和中东的地理知识进行了对比分析，正确的是（ ）

- A. 均全部位于亚洲，地理位置均很重要
- B. 均被北回归线穿过，以热带气候类型为主
- C. 均大量生产热带经济作物，种植业发达
- D. 均人口稀疏，居民多信仰宗教

解析：本题考查东南亚和中东地区的特点。中东地区主要包括西亚和北非的大部分地区，不全部位于亚洲，故A错误；东南亚和中东地区都被北回归线穿过，都以热带气候为主，故B正确；中东地区水资源缺乏，种植业不发达，故C错误；东南亚人口比较稠密，故D错误。

答案：B

科考队员小张于2016年11月初，随中国科考船“雪龙号”从天津出发，远赴南极中山站、长城站进行科学考察。如图是南极考察路线图，读图完成下列问题。



2. 小张随科考船从天津到长城站，经过的大洋依次是（ ）

- A. 大西洋、印度洋、太平洋
- B. 太平洋、印度洋、大西洋
- C. 太平洋、大西洋、印度洋
- D. 大西洋、太平洋、印度洋

解析：本题考查世界四大洋的分布。从图所示航线可以看出，小张随科考队从天津到长城站，经过的大洋依次是太平洋、印度洋、大西洋。

答案：B

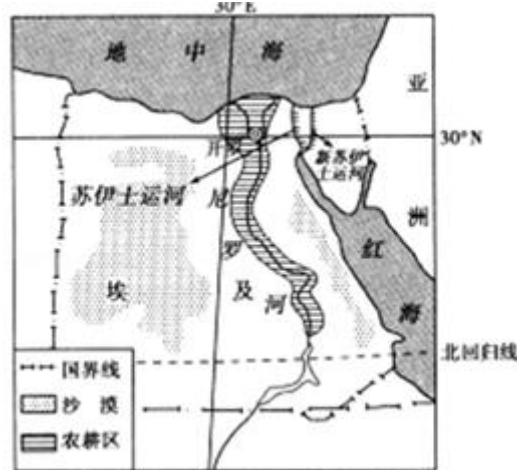
3. 小张在南极大陆实地考察后，对南极有以下印象，其中合理的是（ ）

- ①气温极其寒冷，降水少
 - ②矿产资源丰富
 - ③人类活动影响小，科研价值高
 - ④南极科考站都有极昼极夜现象
- A. ①②③
 - B. ②③④
 - C. ①③④
 - D. ①②④

解析：本题考查南极地区的特点。南极地区气温极其寒冷，降水少，该地区矿产资源丰富，该地区人类活动影响小，科研价值高，南极科考站大都有极昼极夜现象，但我国的长城站无极昼极夜现象。

答案：A

苏伊士运河通行税是埃及重要的外汇来源之一。8月6日“新苏伊士运河”正式通航，与老运河相比通过性更强，通过时间更短。读“新苏伊士运河位置图”，回答下列问两题。



4. 苏伊士运河沟通了（ ）

- A. 太平洋和大西洋
- B. 太平洋和北冰洋
- C. 北冰洋和大西洋
- D. 大西洋和印度洋

解析：本题考查各大洲之间的界线。大洲之间往往以山脉、河流、湖泊、运河、海峡等地理事物为分界线。苏伊士运河是亚洲与非洲的分界线，该运河沟通了红海和地中海，缩短了印度洋与大西洋之间的航程。

答案：D


5. 当地“尼罗河上午干涸，埃及下午死亡”的说法反映了埃及（ ）

- A. 气候干旱
- B. 植被稀少
- C. 地形平坦
- D. 光照充足

解析：本题考查埃及的气候及特征。当地“尼罗河上午干涸，埃及下午死亡”的说法反映了埃及降水稀少，气候干旱，该国家主要属于热带沙漠气候，有沙漠之国之称。

答案：A

6. 小阳同学在学校地理探究式找到一组残缺的气候资料图，分别是1月、7月等温线图、1月、7月以及年等降水量线图，五幅图上均只有甲地相关资料显示比较完整，据图分析并完成问题。判断甲地气候类型是（ ）



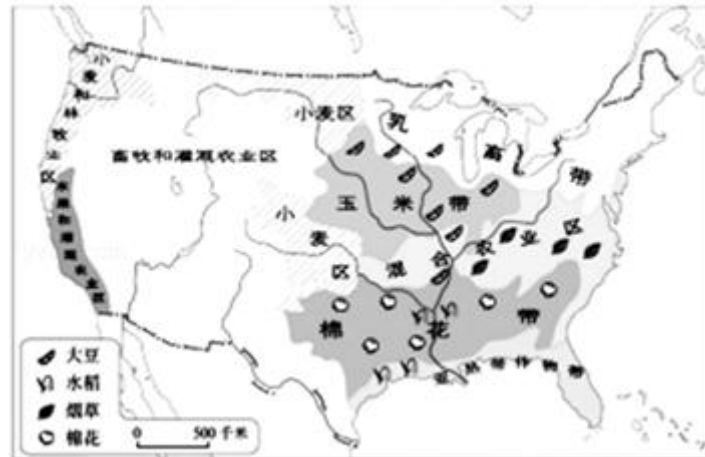
- A. 温带海洋性候
- B. 温带季风气候
- C. 地中海式气候

D. 亚热带季风气候

解析：本题考查了气温和降水图的判读。读图可知，甲地的气候特点为夏季高温少雨，雨热同期，冬季温和少雨，全年降水量在 800mm 以上，该地为亚热带季风气候。故选项 D 符合题意。

答案：D

7. 美国是农业生产充分利用不同地区的自然条件，实现了地区生产的专业化，形成了一些农业带（如图所示），据此分析，以下说法正确的是（ ）



- A. 亚热带作物带主要分布在纬度位置比较高的地区
- B. 玉米带主要分布在沿海地区
- C. 乳畜带分布在东北地区主要原因是当地销售市场广阔和气候冷湿有利于牧草生长
- D. 水果和灌溉农业区主要分布在气候比较温湿润的亚热带季风气候区

解析：本题考查美国的农业带及分布。读图可得，美国亚热带作物带主要分布在纬度位置比较低的地区，故 A 错误；美国的玉米带分布在中部平原地区，故 B 错误；美国乳畜带分布在东北地区主要原因是当地销售市场广阔和气候冷湿有利于牧草生长，故 C 正确；美国水果和灌溉农业区主要分布在地中海气候区，故 D 错误。

答案：C

二、综合题（共 16 分）

8. （9 分）按要求完成下列各小题。近年来，越来越多中国人赴东南亚、中东等地区旅游度假。根据以下材料，完成各小题。

材料一：东南亚某地气象部门统计当地的月平均气温和月降水量资料以及当地建筑景观图（如图 1）。



图 1

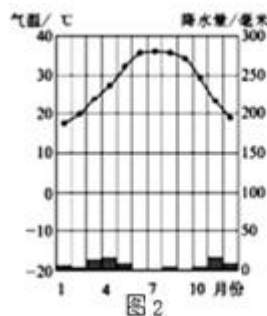


图 2



图 3

月份	1	2	3	4	5	6	7	8	9	11	12
月均温度	22	23	19	22	21	22	24	23	21	20	19
月降水量	135	140	100	80	160	130	140	120	90	110	105

材料二：中东某地区气温曲线与降水柱状图以及当地建筑景观（如图 2、如图 3）。

(1) 分析上述材料，通过比较发现，中东地区的年降水量较_____（多/少）。东南亚地区年温差较_____（大/小）。

解析：读图分析可知：分析上述材料，通过比较发现，中东地区的年降水量较少，东南亚地区年温差较小。

答案：少 小

(2) 如表所反映的气候类型是_____，该气候分布的典型地区有_____、_____等，这些地区都位于赤道附近。

解析：如表所反映的气候类型是热带雨林气候，该气候分布的典型地区有亚马孙平原、刚果盆地等，这些地区都位于赤道附近。

答案：热带雨林气候 亚马孙平原 刚果盆地

(3) 比较两地建筑形态特征_____，发现屋顶坡度大的是_____地区，形成此差异的主要原因是_____。

解析：比较两地建筑形态特征：图 1 屋脊坡度大，图 3 平顶；屋顶坡度大的是东南亚地区，形成此差异的主要原因是降水。

答案：图 1 屋脊坡度大，图 3 平顶 东南亚 降水

(4) 东南亚和中东地区均有许多著名的传统聚落，试从地形、气候、河流等角度分析有利于聚落形成的有利条件。

解析：东南亚和中东地区均有许多著名的传统聚落，聚落多形成于地形平坦、土壤肥沃、水源充足、资源丰富、气候适宜、交通便利、经济发达的地区。

答案：地形平坦、水源充足、气候适宜。

9. (7 分) 日本陆地面积 37.7 万平方千米，其中山地、丘陵占 75%. 人口约 1.27 亿 (2016 年)，其这农业人口约 200 万. 日本农业规模较小，2010 年以来粮食自给率连续 6 年为 39%，粮食大量进口. 读日本位置图 (图 1) 和 2010 年日本主要工业原料对外依赖程度图 (图 2)、日本主要产品出口量占其总产量的比重图 (图 3)，完成下列问题。

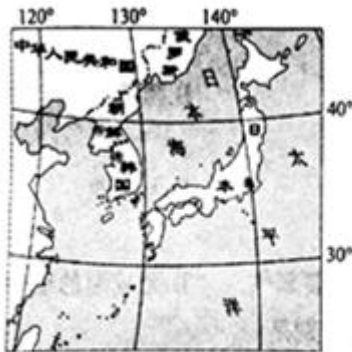


图 1

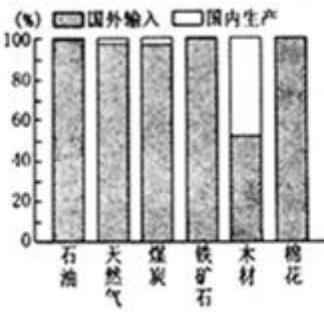


图 2

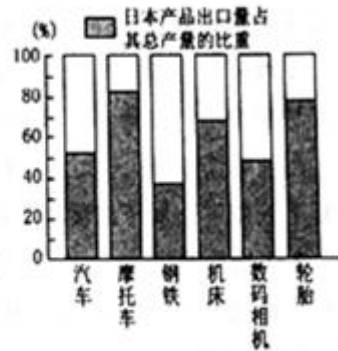


图 3

(1) 从海陆位置看，日本位于_____。

解析：读图分析可知：从海陆位置看，日本位于亚洲东部、太平洋西北部。

答案：亚洲东部、太平洋西北部

(2) 日本季风气候显著，夏季盛行偏_____ (南、北) 风；海洋性特征明显，与亚洲同纬度地区相比，冬季气温较_____ (高、低)。

解析：日本季风气候显著，夏季盛行偏南风；海洋性特征明显，与亚洲同纬度地区相比，冬季气温较高。

答案：南 高

(3) 日本粮食自给率低，原因是_____。

解析：日本粮食自给率低，原因是日本地形以山地为主，耕地少。

答案：日本地形以山地为主，耕地少

(4) 图 2 和图 3 反映日本工业生产的特点是_____，原因是_____。

解析：图 2 和图 3 反映日本工业生产的特点是对外依赖性强，进口原料，出口工业产品，原因是日本工业原料（或矿产资源）贫乏，国内市场狭小。

答案：对外依赖性强，进口原料，出口工业产品；日本工业原料（或矿产资源）贫乏，国内市场狭小