

2017 年江苏省徐州市中考真题历史

一、选择题（共 13 小题，每小题 0 分，满分 3 分）

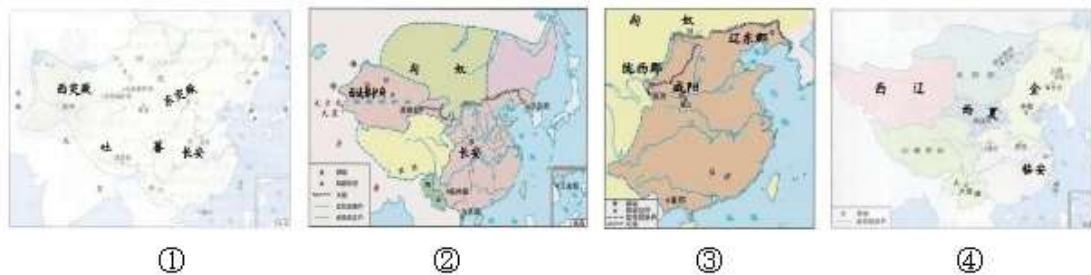
1. 春秋时期，一位思想家鼓励他的弟子以较高的道德规范要求自我，强调对人要和善、仁慈，这位思想家是（ ）

- A. 老子
- B. 孔子
- C. 墨子
- D. 韩非子

解析：由“春秋时期”“强调对人要和善、仁慈”结合所学，孔子是我国春秋时期著名的思想家，儒家学派创始人。他的思想核心是“仁”和“礼”，可知，这位思想家是孔子。

答案：B

2. 疆域的变化从一个侧面反映历史发展的进程，下列中国古代疆域图按时序排列正确的是（ ）



- A. ②③①④
- B. ③④②①
- C. ④③②①
- D. ③②①④

解析：据地图关键信息“东突厥”“西突厥”“吐蕃”可知，①是唐朝疆域图；据地图关键信息“西域都护”“匈奴”可知，②是汉朝疆域图；据地图关键信息“龙西郡”“辽东郡”“咸阳”可知，③是秦朝疆域图；据地图关键信息“金”“西夏”“临安”可知，④是南宋时期，南宋和金对峙图。我国古代朝代更替先后顺序的口诀为三皇五帝始，尧舜禹相传；夏商与西周，东周分两段；春秋和战国，一统秦两汉（西汉和东汉）；三分魏蜀吴，二晋（西晋和东晋）前后沿；南北朝并立，隋唐五代传；宋（北宋和南宋）元明清后，皇朝至此完。因而疆域图按时序排列正确的是 D。

答案：D

3. 19 世纪以来，中国近代工业在半殖民地半封建社会的夹缝中萌发。关于下列企业的相同点，表述正确的是（ ）



图一 汉阳铁厂

图二 上海福新面粉公司

图三 江南制造总局

- A. 皆由洋务派官员创办
- B. 都一定程度上抵制外来侵略
- C. 均体现轻工业的发展
- D. 都在“自强”的口号下兴办

解析：题目给出的汉阳铁厂是在求富口号下创办的，属于重工业；江南制造总局是在自强口号下创办的；上海福新面粉公司不是洋务派官员创办的，它们都在一定程度上抵制外来侵略。

答案：B

4. 金冲及认为：“以白话文代替文言文，有助于使文字的表达能适应现代生活的需要，并且明白易懂……这是初期新文化运动的又一大功绩。”开创这一“功绩”的是（ ）

- A. 胡适
- B. 李大钊
- C. 陈独秀
- D. 蔡元培

解析：据“以白话文代替文言文，有助于使文字的表达能适应现代生活的需要，并且明白易懂……这是初期新文化运动的又一大功绩。”可知，开创这一“功绩”的是胡适。1917年，胡适在《新青年》上发表《文学改良刍议》一文，主张用白话文代替文言文，提出写文章“不作无病之呻吟”“须言之有物”等主张。

答案：A

5. “在南京各省代表会上，孙中山提议废除跪拜礼，提倡普通见面时为一鞠躬，最尊敬之礼为三鞠躬。他身体力行，弯腰鞠躬。众人皆感新鲜，纷纷跟着仿效。鞠躬之礼逐渐风行开来。”对该材料理解正确的是（ ）

- A. 辛亥革命推动礼节的变化
- B. 鞠躬礼体现等级观念
- C. 礼节变化未受到西方影响
- D. 传统礼节被彻底废除

解析：“在南京各省代表会上，孙中山提议废除跪拜礼，提倡普通见面时为一鞠躬，最尊敬之礼为三鞠躬。他身体力行，弯腰鞠躬。众人皆感新鲜，纷纷跟着仿效。鞠躬之礼逐渐风行开来。”这反映的是孙中山提倡并身体力行的改跪拜为鞠躬之礼，对该材料理解正确的是辛亥革命推动礼节的变化。

答案：A

6. 学习历史要求我们思考原因与结果的关系，以获得合理的历史解释。下列因果关系对应正确的是（ ）

选项	因	果
A	南昌起义爆发	清王朝土崩瓦解
B	日本制造“卢沟桥事变”	东北三省完全沦陷
C	刘邓大军挺进大别山	人民解放军转入战略进攻
D	第一次世界大战爆发	中国民族工业处于崩溃边缘

- A. 选项 A
- B. 选项 B
- C. 选项 C

D.选项 D

解析：1947 年夏，刘伯承、邓小平率领晋冀鲁豫解放军主力，在山东西南强渡黄河，挺进大别山地区，揭开了人民解放军战略进攻的序幕。1947 年夏，刘伯承、邓小平率领晋冀鲁豫解放军主力，在山东西南强渡黄河，向国民党统治区发动大规模进攻，直插敌人兵力空虚的大别山地区，刘邓大军开辟了大别山根据地，严重地威胁了国民党统治中心南京和湖北重镇武汉，揭开了人民解放军全国性战略进攻的序幕。“刘邓大军挺进大别山”对应“人民解放军转入战略进攻”因果关系正确。ABD 对应不正确。

答案：C

7.照片能够形象的再现历史场景。对图中的历史场景解读正确的是（ ）



- A.出现在现代化建设新时期
- B.带来生产资料所有制转变
- C.成立了手工业生产合作社
- D.奠定了工业化的初步基础

解析：观察题干图片“公私合营信大祥绸布商店”可知，这是三大改造中对资本主义工商业的改造所带来生产资料所有制转变。1953 年开始，我国对农业、手工业、资本主义工商业进行社会主义改造。1954 年起，国家对资本主义工商业的社会主义改造，逐步发展企业的公私合营，公私双方共同经营企业。1956 年初出现了全行业公私合营的高潮。在改造过程中，国家对资本家占有的生产资料，实行赎买政策。党对民族资本家采取团结和改造的政策，取得较好的效果。

答案：B.

8.1979 年至 1988 年，徐州粮食产量年均增长 6.0%，累计生产 3391.15 万吨，相当于前 30 年粮食产量的总和。昔日贫穷落后、缺粮少吃的徐州农村变成苏北粮仓。这一变化主要得益于（ ）

- A.联产承包责任制的推行
- B.乡镇企业的蓬勃发展
- C.农民土地所有权的获得
- D.南方谈话的正式发表

解析：1958 年的大跃进运动（以大炼钢铁为中心）和人民公社化运动（以“一大二公”为特点），最终造成生产混乱、生产力水平下降，破坏了国民经济，人民生活十分困苦；十一届三中全会设经济特区是对城市进行的开放；对农村实行家庭联产承包责任制，并作为我国农业生产责任制的基本形式。调动了农民的生产积极性，使生产力大大提高，出现了上述变化。

答案：A

9. “城邦公职人员由抽签方式选出，每个公民都有同等机会出任城邦公职，行使作为城邦主人的职权。”材料中这一现象出现在（ ）

- A.古巴比伦
- B.古代印度
- C.古代希腊
- D.古代罗马

解析：根据题干信息“城邦公职人员由抽签方式选出，每个公民都有同等机会出任城邦公职”可知，这是古代雅典的民主政治，在雅典，除十将军外，各级官职，向所有公民开放，并以抽签的方式产生；“伯利克里时期改革最高权力机关——公民大会，成年男性公民均可参加并有发言权和表决权，并且制定“公职津贴”制度，为参政公民发放工资和津贴。因此 C 符合题意。

答案：C

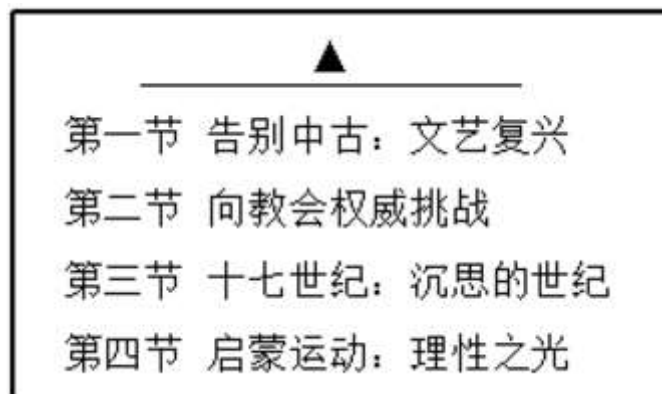
10.某史书记载：“由会议通过的《市政法案》，尽管威廉三世'厌恶至极'，最后仍然予以批准，因为不然的话，议会将拒绝通过拨款案。”该现象与下列哪一文献内容相符合（ ）

- A.《权利法案》
- B.《独立宣言》
- C.《人权宣言》
- D.《解放黑奴宣言》

解析：从“尽管威廉三世'厌恶至极'，最后仍然予以批准，因为不然的话，议会将拒绝通过拨款案。”可以得知英国国王的权力受到议会的限制，主权在议会，这是《权利法案》的影响。1689年，英国议会通过《权利法案》以限制国王权力，确定了议会高于王权的原则，君主立宪制在英国建立起来。

答案：A

11.阅读历史书籍需要关注章节标题，从而把握内容的主旨。根据图中的内容，为其选择一个最适当的标题（ ）



- A.资产阶级革命
- B.技术革新
- C.殖民扩张
- D.思想解放

解析：根据所给书籍章节标题的“文艺复兴、向教会权威挑战、十七世纪，深思的世纪和启

蒙运动：“理性之光”可知它们的都是西欧的思想解放运动。14 世纪兴起于意大利的文艺复兴，以人文主义为核心，冲击了教会的陈腐说教，文艺复兴是一场资产阶级性质的思想解放运动，推动了欧洲文化思想领域的繁荣，为欧洲资本主义社会的产生奠定了思想文化基础。哥白尼等科学家的发现发起向都会权威的挑战，解放了人们的思想。17、18 世纪兴起的启蒙运动进一步发展了文艺复兴时期的人文主义精神，是近代欧洲一次重要的资产阶级思想解放运动，其核心是“理性”。启蒙运动反对专制制度，主张建立一个“理性王国”。综上所述，这一章节的适当的标题是思想解放。

答案：D

12. 麦克莱恩在《日本史》“明治维新”一章中引用如图，用以说明（ ）



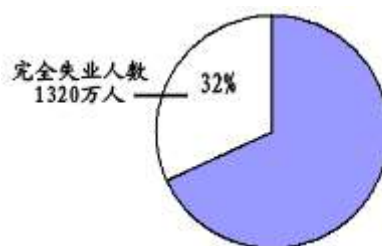
日本政府出版的关于西方生活方式的书籍

- A. 废藩置县
- B. 殖产兴业
- C. 文明开化
- D. 富国强兵

解析：日本明治维新的措施中，提倡文明开化，即向欧美等西方学习，努力发展教育。依据题干信息麦克莱恩在《日本史》“明治维新”一章中引用如图：日本政府出版的关于西方生活方式的书籍，是用以说明日本明治维新中关于文明开化的措施。

答案：C

13. 如图为 1932 年美国完全失业人数占工人总数的比重示意图。罗斯福就任总统后，为了解决这一问题，采取的主要措施是（ ）



- A. 大力整顿银行
- B. 缩减农业产量
- C. 减少政府投资
- D. 兴办公共工程

解析：1929 年—1933 年的经济危机冲击了美国的资本主义制度。罗斯福就任美国总统后实行了新政。为了解决失业工人问题，兴办公共工程。

答案：D

二、解答题（共3小题）

14. 史实与推论：科学全面地解读史实或史料，可以得出正确的历史推论。请对下面的推论作出判断，用2B铅笔在答题卡上将正确的答案涂“A”，错误的涂“B”，其他作答无效。

(1) 史实：通过“丝绸之路”，中国的铁器、丝绸和养蚕技术，以及铸铁术，穿井法，造纸术都先后西传。同时，中亚、西亚的良种马、植物等土特产，如毛织品、胡桃（核桃）、石榴、胡萝卜、胡豆（蚕豆）、大蒜、苜蓿等陆续传到中国。

——白寿彝《中国通史》

推论：古代“丝绸之路”推动东西方经济文化交流，将世界连成一个整体。（）

解析：从史实可以看出，通过丝绸之路，中西方物质、技术交流频繁，但世界连成一个整体的事件是新航路开辟。因此推论古代“丝绸之路”推动东西方经济文化交流，将世界连成一个整体是错误的。

答案：B

(2) 史实：大抵众科之目，进士尤为贵，其得人亦最为盛焉。

——《新唐书·选举志》

推论：进士科是唐代读书人做官的重要途径。（）

解析：史实的意思是在科举考试的众多科目中，进士科最重要，由进士科进而做官的人很多。因此推论：进士科是唐代读书人做官的重要途径是正确的。

答案：A

(3) 史实：新纪元以来，中华民国之名，既为世界各国所承认，主权属国民全体，载在临时约法，然而十年之间，有二次之革命，有八十日之帝制，有八日之复辟……

——沈恩孚《五十年来中国政体改革之经过》

推论：辛亥革命建立了民主共和政体，稳定了政局。（）

解析：由史实“然而十年之间，有二次之革命，有八十日之帝制，有八日之复辟”可以看出，辛亥革命虽然创建了民主共和政体，但经常遭到破坏。因此推论：辛亥革命建立了民主共和政体，稳定了政局是错误的。

答案：B

(4) 史实：中央给予经济特区的特殊政策，包括：允许经济特区大量吸收利用外资，经济活动以市场调节为主，经济成分可以让非公有制经济的比重更大些……赋予经济特区政府有较大的经济活动自主权。

——金冲及《二十世纪中国史纲》

推论：经济特区的创办为经济体制改革提供经验。（）

解析：史实的意思是中央给予经济特区的特殊政策使经济特区得到了巨大发展，为以后的改革开放积累了经验，因此推论：经济特区的创办为经济体制改革提供经验是正确的。

答案：A

(5) 史实：1921年12月，全俄中央执委会颁布的法令解除了对小企业实行的国有化，将这些曾收归国有的企业通过出租的方式交换原业主经营，实际上是大部分小企业和一部分中型企业非国有化了。

——余伟民、郑寅达《世界通史：现代文明的发展与选择》

推论：1921年苏俄推行新经济政策，探索社会主义建设道路。（）

解析：史实说明的新经济政策的措施，依据所学，新经济是苏俄对社会主义道路的探索，因此 1921 年苏俄推行新经济政策，探索社会主义建设道路是正确的。

答案：A

(6)史实：从 1948 年到 1952 年，美国共拨款 131.5 亿美元……到 1950 年，欧洲的国民生产总值达到 1250 亿美元，在马歇尔计划不到 4 年的援助时间内增加了 25%，比他的战前水平增加了 15%。

——金海《从马歇尔计划看战后初期美国对欧政策的演变》

推论：马歇尔计划复兴欧洲经济，使西欧摆脱冷战的阴影。（）

解析：由史实“在马歇尔计划不到 4 年的援助时间内增加了 25%，比他的战前水平增加了 15%”可以看出，在马歇尔计划的援助下欧洲经济计划得到发展，但马歇尔计划是冷战的组成部分，因此推论：马歇尔计划复兴欧洲经济，使西欧摆脱冷战的阴影是错误的。

答案：B

15.情境分析：分析下列情境并结合所学知识回答问题。

情境：1913 年，亨利·福特进一步发展了制造技术……福特的设计是，一个载着零部件的传送带在一个适当的高度上以一定的速度经过工人。每个工人在传送带旁边的固定位置上从事特定的工作，这样，每 93 分钟即可装配出一个汽车底盘，而从前需要 728 分钟……在 20 世纪早期，世界上半的汽车是由福特汽车公司生产的。随着生产的提高，汽车价格急转直下，成千上万的普通人也能够买得起汽车了。

——摘自杰里·本特利等《新全球史》

分析：

(1)情境中亨利·福特发展的“制造技术”是什么？它属于哪一次工业革命的成果？哪项发明为“汽车”的诞生提供了条件？

解析：据材料“1913 年，亨利·福特进一步发展了制造技术……福特的设计是，一个载着零部件的传送带在一个适当的高度上以一定的速度经过工人。每个工人在传送带旁边的固定位置上从事特定的工作，这样，每 93 分钟即可装配出一个汽车底盘，而从前需要 728 分钟……在 20 世纪早期，世界上半的汽车是由福特汽车公司生产的。随着生产的提高，汽车价格急转直下，成千上万的普通人也能够买得起汽车了”可知，情境中亨利·福特发展的“制造技术”是汽车流水装配线，它属于第二次工业革命的成果，内燃机的发明为“汽车”的诞生提供了条件。

答案：汽车流水装配线；第二次工业革命；内燃机的发明。

(2)根据情境概括“福特的设计”带来的影响。福特成功对你有何启示？

解析：据材料“1913 年，亨利·福特进一步发展了制造技术……福特的设计是，一个载着零部件的传送带在一个适当的高度上以一定的速度经过工人。每个工人在传送带旁边的固定位置上从事特定的工作，这样，每 93 分钟即可装配出一个汽车底盘，而从前需要 728 分钟……在 20 世纪早期，世界上半的汽车是由福特汽车公司生产的。随着生产的提高，汽车价格急转直下，成千上万的普通人也能够买得起汽车了”可知，“福特的设计”带来的影响是提高了劳动生产率，促进了汽车工业的迅速发展。福特成功给我们的启示是要勇于创新，创新是国家、民族发展进步的源泉。

答案：提高了劳动生产率，促进了汽车工业的迅速发展；要勇于创新，创新是国家、民族发展进步的源泉。

16.综合探究：中国和美国作为当今世界两大经济体，两国关系一直备受关注。某校九年级学生围绕这个主题查找资料，进行了系列探究，请你参与。

【20世纪初】

材料一：参加对中国出兵的有英、俄、法、美、日、德、奥等国……世界上所有帝国主义国家联合起来，共同向一个落后国家发动战争，在历史上还是第一次。

——金冲及《二十世纪中国史纲》

(1)材料一中，英、美等国发动战争的直接目的是什么？美国通过这场战争在军事上获得了什么特权？

解析：据材料一“参加对中国出兵的有英、俄、法、美、日、德、奥等国…世界上所有帝国主义国家联合起来，共同向一个落后国家发动战争，在历史上还是第一次”可知，材料一中，英、美等国发动战争是八国联军侵华战争，列强发动战争的直接目的是镇压义和团运动，美国通过这场战争在军事上获得的特权是，允许美国派兵驻扎北京到山海关铁路沿线要地，划定北京东交民巷为使馆界，允许美国驻兵保护，不准中国人居住。

答案：镇压义和团运动；允许美国派兵驻扎北京到山海关铁路沿线要地，划定北京东交民巷为使馆界，允许美国驻兵保护，不准中国人居住。

【20世纪40年代】

材料二：1943年美国的对华政策是：“对中国我们有两个目标。第一是有效的联合作战。第二是承认和树立中国为主要大国，在战时和战后与西方三大盟国俄、英、美并驾齐驱，这既是为了准备一个战后组织，也是为了在东方建立稳定和繁荣。”

——《科德尔·赫尔回忆录》

(2)哪一文件的签署推动中、美两国“联合作战”？美国承认中国为“主要大国”是基于中国对世界作出什么贡献？写出“战后组织”的名称。

解析：《联合国国家宣言》的签署推动中、美两国“联合作战”，1942年1月1日，美、英、苏、中等26国在华盛顿签署《联合国国家宣言》，保证用自己的全部人力和物力，联合起来，彻底打垮法西斯国家。国际反法西斯联盟最终形成。美国承认中国为“主要大国”是基于中国对世界反法西斯战争的胜利作出的巨大贡献；“战后组织”的名称是联合国，1945年2月，苏、美、英三国首脑斯大林、罗斯福、丘吉尔在克里木半岛雅尔塔举行会议。会议通过了一系列重大决议，包括：分区占领德国，彻底摧毁军国主义和纳粹制度，战后成立联合国；苏联在欧战的三个月内参加对日作战等。

答案：《联合国国家宣言》；中国对世界反法西斯战争的胜利作出的巨大贡献；联合国。

【20世纪50年代】

材料三：美国占据台湾和干涉中国解放沿海岛屿，造成了远东的紧张局势。这是中美之间的国际问题。中国人民行使主权解放台湾是中国内政问题，这两个问题不能混为一谈。

——《人民日报》

(3)据材料三，可以得到哪些关于中美关系的信息？

解析：据材料三“美国占据台湾和干涉中国解放沿海岛屿，造成了远东的紧张局势。这是中美之间的国际问题。中国人民行使主权解放台湾是中国内政问题，这两个问题不能混为一谈”可知，美国占据台湾和干涉中国解放沿海岛屿，美国的侵略活动严重威胁中国的安全。

答案：美国占据台湾和干涉中国解放沿海岛屿，美国的侵略活动严重威胁中国的安全。

【20世纪70、80年代】

材料四：1972—1980年大事年表（部分）

1972年2月21日至28日尼克松总统访问中国，他称这七天是“改变世界的一周”

1979年1月可口可乐公司进入中国市场

1979年7月7日中美两国签订《中美贸易关系协定》

1980年9月中美民航协定、中美海运协定和中美纺织品协议签署

(4)为什么尼克松称其访华七天为“改变世界的一周”？材料四体现出1979年之后中美两国间的交往有新的发展，出现这一发展的原因有哪些？

解析：1972年2月，美国总统尼克松访问中国，尼克松和周恩来之间的握手被称之为历史性的握手，双方在上海发表《中美联合公报》，标志着中美两国关系开始走向正常化。因而尼克松称其访华七天为“改变世界的一周”。中美两国经贸发展的原因是尼克松访华标志着中美两国关系开始走向正常化，1979年中美建交，中美两国关系实现了正常化。

答案：1972年2月，美国总统尼克松访问中国，尼克松和周恩来之间的握手被称之为历史性的握手，双方在上海发表《中美联合公报》，标志着中美两国关系开始走向正常化；尼克松访华标志着中美两国关系开始走向正常化，1979年中美建交，中美两国关系实现了正常化。

【21世纪初】

材料五：历史和现实都表明，中美两国合则两利，斗则俱伤。中美合作可以办成有利于两国和世界的大事，中美对抗两国和世界肯定是灾难。

——习近平在第六轮中美战略与经济对话和第五轮中美人文交流高层磋商联合开幕式上致辞

(5)当今世界，推动中美两国走向合作的因素有哪些？中美合作有何意义？

解析：当今世界，推动中美两国走向合作的因素有中美两国合则两利，斗则俱伤，国与国之间应该求同存异，合作共赢等。中美合作可以办成有利于两国和世界的大事，有利于世界的和平和发展。

答案：中美两国合则两利，斗则俱伤，国与国之间应该求同存异，合作共赢等；中美合作可以办成有利于两国和世界的大事，有利于世界的和平和发展。