

2010年莆田市初中学业考试试卷

地理试题

一、单项选择题（本大题共 25 小题，每小题 2 分，共 50 分。在每小题给出的四个选项中，只有一项是最符合题目要求的）

1、2004 年我国建立的第一个北极科学考察站是（ ）

- A、长城站 B、中山站 C、昆仑站 D 黄河站

2、图 1 是我市某同学在探究学习活动中绘制的正午日照图(分别选取不同季节的一天)，其中最接近冬至日的正午日照图是（ ）

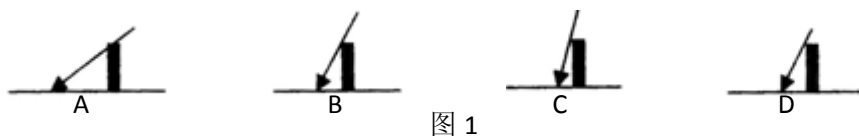


图 1

图 2 是局部经纬网图，读图回答 3~4 题。

3、图中 A 点的地理坐标是（ ）

- A、 30° S, 140° E B、 30° N, 140° W
C、 30° N, 140° E D、 30° S, 140° W

4、当太阳直射图中 B 点时，莆田市的季节是（ ）

- A、春季 B、夏季 C、秋季 D、冬季

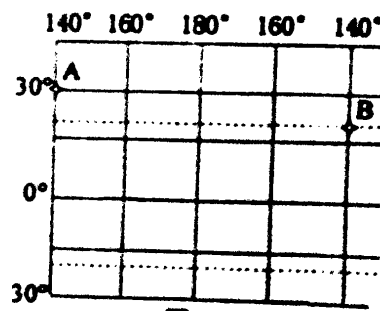


图 2

图 3 是四个大洲轮廓图，读图回答 5~6 题。

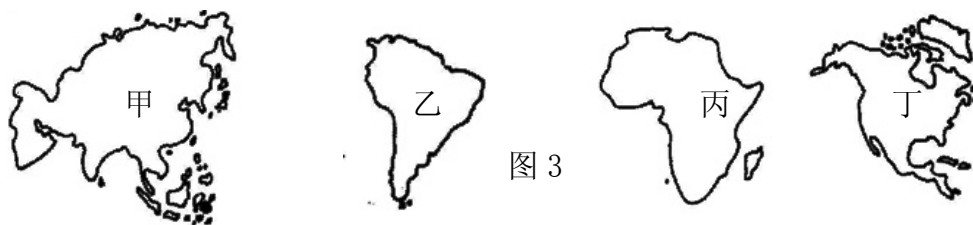


图 3

5、联合国总部所在的大洲是（ ）

- A、甲 B、乙 C、丙 D、丁

6、甲和丙两洲的分界线是（ ）

- A、巴拿马运河 B、苏伊士运河
C、白令海峡 D、土耳其海峡

7、宗教建筑是具有代表性的文化景观之一，图 4 建筑代表的宗教是（ ）

- A、伊斯兰教 B、佛教 C、基督教 D、道教



图 4

8、2010 年南非世界杯让世人聚焦非洲，下列说法与非洲相符的

是 ()

- A、“热带大陆”、“高原大陆”
- B、经济高速发展
- C、人口自然增长率最低
- D、“世界人种大熔炉”

9、下列词语描述气候的是 ()

- A、风和日丽
- B、四季如春
- C、暴风骤雨
- D、阴转多云

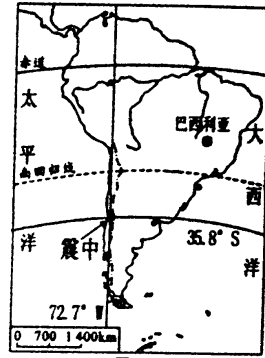
北京时间 2010 年 2 月 27 日智利发生 8.8 级地震 (震中位置: $35.8^{\circ} S$, $72.7^{\circ} W$), 造成重大损失, 读图 5 完成 10~11 题。

10、智利位于 ()

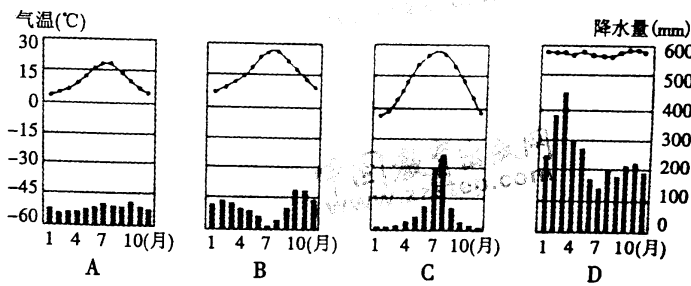
- A、北半球、东半球
- B、北半球、西半球
- C、南半球、东半球
- D、南半球、西半球

11、图示震中位于巴西利亚的 ()

- A、东北方向
- B、西北方向
- C、西南方向
- D、东南方向



12、2010 年第 30 届夏季奥运会将在英国伦敦举行, 该地气候类型对应图 6 中的 ()



13、广东的小林来到某地美食一条街, 想吃家乡菜, 他应进入的菜馆是 ()

- A、粤菜馆
- B、湘菜馆
- C、鲁菜馆
- D、川菜馆

14、我国建立的第一个国家级高新技术产业开发区——中关村所在的城市是 ()

- A、上海
- B、广州
- C、北京
- D、天津

15、下列关于我国疆域的述, 正确的是 ()

- A、地跨寒、温、热三带
- B、东西跨 8 个时区
- C、渤海和黄海是我国的内海
- D、领土最东端和最北端均位于黑龙江省

16、新疆维吾尔自治区的地形特点可概括为“三山夹两盆”, 其中“两盆”指的是 ()

- A、准噶尔盆地、柴达木盆地
- B、准噶尔盆地、塔里木盆地
- C、塔里木盆地、四川盆地
- D、四川盆地、柴达木盆地

17、2009 年 11 月发生在北京、河北等地的暴雪天气, 对下列产业影响较小的是 ()

- ①工业
- ②农业
- ③交通运输业
- ④高技术产业


- A、①④ B、②③ C、①② D、③④

18、面对全球日益严重的环境问题，应倡导（ ）

- A、少开采本国资源，多从国外进口 B、社会、经济和生态的可持续发展
B、大力发展经济，不考虑环境问题 D、不开发资源，保护环境

19、暑假，玲玲乘船从天津到海南岛旅游，沿途所见景象不可信的是（ ）

- A、海上耸立着石油钻井平台 B、渔船出海捕鱼
C、沿岸有许多盐场 D、海上漂浮着冰山



同一季节不同衣着
图 7

20、从气候角度看，造成图 7 现象的主要影响因素是（ ）

- A、地形因素 B、海陆因素
C、纬度因素 D、人类活动

21、下列与我国国情相符的是（ ）

- A、自然资源——人均占有量大 B、人口分布——东多西少
C、经济发展水平——发达国家 D、民族分布——大聚居、小杂居

图 8 是“黄河水系图”，读图回答 22——23 题。

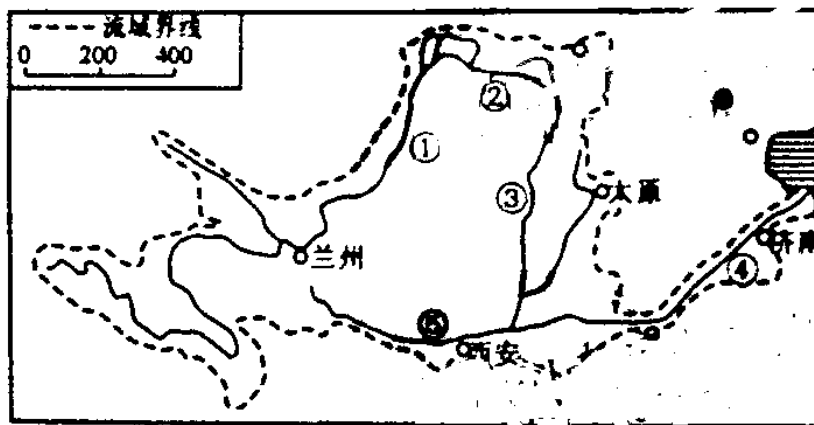


图 8

22、图中黄河主要支流⑤为（ ）

- A、渭河 B、汉江 C、湟水 D、汾河


23、黄河常发生凌汛的河段是（ ）

- A、①和② B、②和③ C、①和④ D、③和④

24、2010 年 4 月 26 日，莆田人民终于能在自己家乡坐上火车，这条铁路线是（ ）

- A、鹰厦铁路 B、横南铁路 C、向莆铁路 D、福厦铁路

25、莆田西北地区迎风坡多地形雨，其对应的示意图是图 9 中的（ ）



A

B

图 9

C

D

二、综合题（本大题共 6 小题，共 50 分）

26、图 10 是某地等高线地形图，读图回答问题。（7 分）

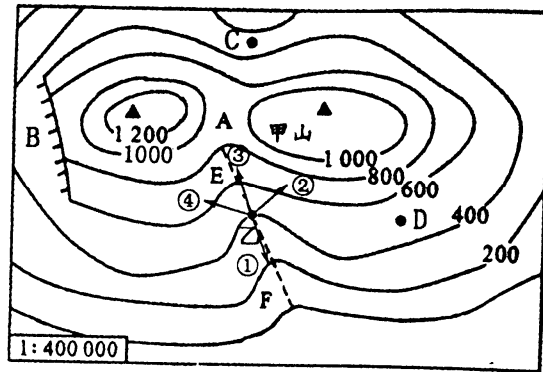


图 10

(1) 该图所示的地形类型主要是_____。

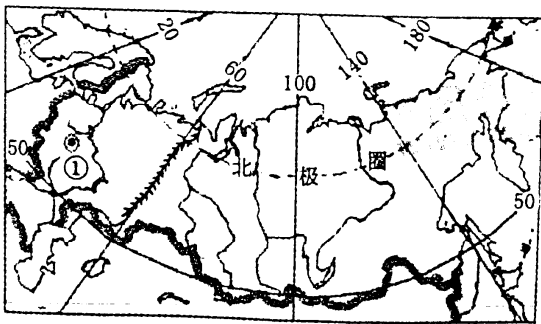
(2) 写出图中字母代表的地形部位名称：

A _____； B _____。

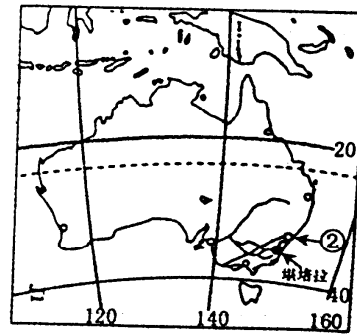
(3) 甲山峰的海拔不超过_____米；C 地与 D 地相比，坡度较缓的是_____。

(4) 若 EF 附近发生泥石流时，小东正处于图中中乙处，他选择的正确逃生路线是 _____和_____。

27、图 11 是两个国家轮廓图，读图回答问题（9 分）



A



B

图 11

(1) 国家名称：A _____； B _____，城市：①是_____； ②是_____

(2) 地跨两洲的国家是_____，独占一个大陆的国家是_____

(3) A 国气候类型以_____气候为主，森林资源丰富，分布有世界面积最大的_____林。B 国自然条件很适宜发展农牧业，是世界上重要的小麦、_____输出国。

28、图 12 是中国四大区域图，读图并结合材料回答问题。（10 分）

材料：截止 2010 年 3 月，西南五省区市（广西、云南、贵州、四川和重庆）遭受了百年一遇的旱灾，受旱耕地面积大，人畜饮水困难。

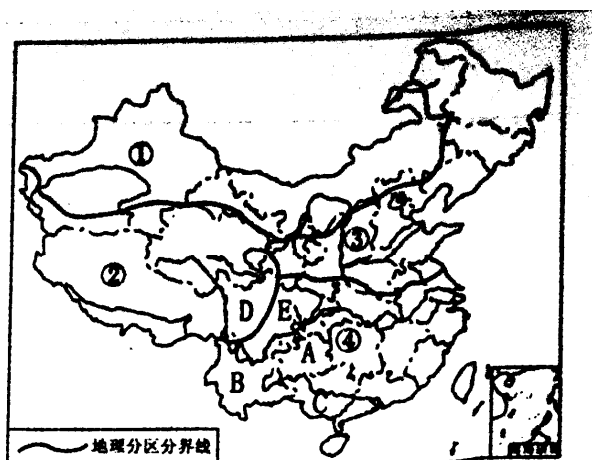


图 12

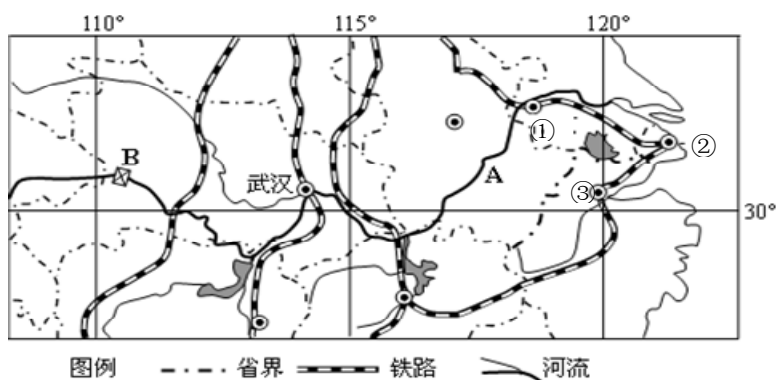
(1) 西南五省区市中 A 所在的省级行政区是_____，少数民族最多的省级行政区是_____（填字母）

(2) 图中区域①自然环境的主要特征是_____，该区域的土地利用类型以_____为主；区域②是_____地区。

(3) 区域③的 1 月平均气温在_____°C 以下，区域④的年平均降水量在_____毫米以上。

(4) 西南五省区市主要处于我国地势的第_____级阶梯，导致本地区遭受百年一遇旱灾的原因之一是季风气候降水具有_____的特点。

29、图 13 是我国部分区域略图，读图回答问题。（8 分）



(1) 2010 年上海世博会于 5 月 1 日开园，图中表示上海的序号是_____，该日上海市的昼夜长短状况是昼_____夜_____。世博会期间（主要在夏季），上海盛行_____季

风。

(2) 图中河流 A 为_____。小锋从广州去 B 地游览，他可乘火车经_____铁路到达武汉，转乘轮船沿河流 A_____（填“顺”或“逆”）流而行，最终到达 B_____（该河最大的水利枢纽工程）。

30、图 14 是海峡西岸经济区略图，读图并结合材料回答问题。（10 分）

材料 海峡西岸经济区以福建为主体，涵盖台湾海峡西岸，包括浙江南部、广东东部和江西部分地区，北承长江三角洲，南接珠江三角洲，是我国沿海经济带的重要组成部分。

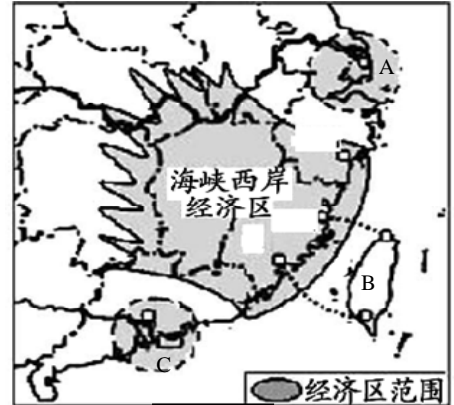


图 14

(1) 写出图中字母所代表的地理事物名称：

A_____三角洲； B_____省； C_____三角洲。

(2) 闽西是客家人的主要聚居地之一，当地的特色民居是_____。

(3) B 省东临_____洋，该省工业以_____为主。

(4) C 以外向型经济为主，对_____市场依赖程度较高，区内有特别行政区_____和_____，其中以博彩业、旅游业为重要支柱产业的是_____。

31、图 15 是莆田市略图，读图回答问题。（6 分）

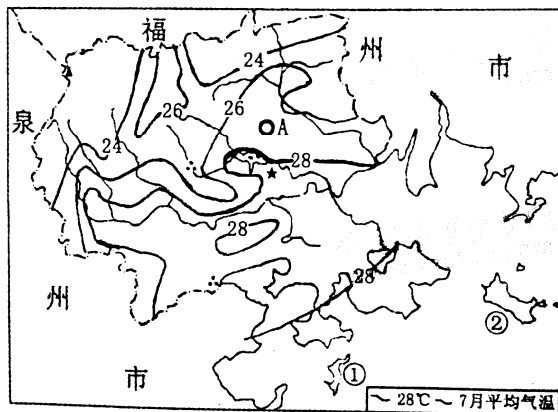


图 15

(1) 我市每年接待境外游客最多的地方是_____岛，它在图中序号是_____。

(2) 图中 A 地 7 月平均气温在_____ °C 与_____ °C 之间，全市气温分布大致由东南沿海向西北内陆山区逐渐_____（“升高”或“降低”）。

(3) 从图中河流流向看出，莆田市的地势特点是_____。

参考答案：

序号	1	2	3	4	5	6	7	8	9	10
答案	D	A	C	B	D	B	C	A	B	D
序号	11	12	13	14	15	16	17	18	19	20
答案	C	A	A	C	D	B	A	B	D	C
序号	21	22	23	24	25					
答案	B	A	C	D	B					

26 (1) 山地

(2) A 鞍部 B 陡崖

(3) 1200 D

(4) 2 和 4

27、(1) A 俄罗斯 B 澳大利亚 , 1 莫斯科 2 悉尼

(2) A 或俄罗斯 B 或澳大利亚

(3) 温带大陆性气候 亚寒带针叶林 羊毛。

28、(1) 贵州省, B

(2) 干旱, 草地 青藏。

(3) 0° C 800 ,

(4) 二 年内、年际变化大

29、(1) 2, 长 短, 东南。

(2) 长江, 京广 逆 长江三峡

30 (1) 长江 台湾 珠江

(2) 土楼

(3) 太平 加工制造业

(4) 国际 香港和澳门, 澳门。

31 (1) 湄洲 1。

(2) 26 28 降低。

(3) 西北高、东南低。