

## 2017 年山东省威海市中考真题历史

一、选择题：本大题共 20 小题，每小题 1.5 分，共 30 分。在每小题列出的四个选项中，只有一项是符合题目要求的。

1.威海市初中乡土教育读本《威海历史》中写到：“秦始皇统一中国后……今威海市区域属于胶东郡腓县。”这说明秦始皇统一中国后，在地方上推行

- A.禅让制
- B.分封制
- C.郡县制
- D.行省制

解析：由“今威海市区域属于胶东郡腓县”结合所学，秦始皇统一全国后，推行中央集权制，在地方实行郡县制。

答案：C

2.汉武帝、明太祖是我国历史上著名的帝王。他们两人都

- A.加强思想控制，巩固统治
- B.采取措施削弱诸侯王或藩王的势力
- C.通过科举制度选拔人才
- D.是开国皇帝

解析：汉武帝在位时，采取了一系列巩固和发展大一统和加强中央集权的措施，在思想上，实行“罢黜百家，独尊儒术”，使儒家思想成为中国封建社会的正统思想。明太祖朱元璋从元朝灭亡中看到，除了统治者本身的素质以外，整个社会失于教化也是一个原因。因此，登基后，就采取措施，兴建学校，选拔学官，并坚持把“教育工作”作为衡量地方官政绩的重要指标。为了选拔能听命于皇帝的官吏，明朝政府规定科举考试只许在四书五经范围内命题，考生只能根据指定的观点答卷，不准发挥自己的见解。答卷的文体，必须分成八个部分称为“八股文”。所以 A 选项符合题意。

答案：A

3.在下图所示的两部史学名著中，下列人物的有关活动都有可能查阅到的是



- A.黄帝
- B.汉高祖
- C.隋炀帝
- D.唐太宗

解析：本题主要考查学生运用所学知识解决问题的能力，图中的著作分别是《史记》和《资治通鉴》，结合所学知识可知，《史记》是由司马迁撰写的中国第一部纪传体通史，记载了我国从传说中的黄帝到汉武帝太初四年长达 3000 年左右的历史。因此这一著作不能查到 CD 选项，《资治通鉴》是由北宋司马光主编的一部多卷本编年体史书，从周威烈王二十三年（公

元前 403 年)写起,到五代后周世宗显德六年(公元 959 年)征淮南停笔,涵盖 16 朝 1362 年的历史。这一著作不鞫查到 A,两本著作都能查到的只能是汉高祖。所以答案选 B  
答案: B

4.邓小平同志说:“西藏是中国领土的一部分,中国对西藏的主权不容否定,西藏独立不行,半独立不行,变相独立也不行。”下列史实中能证明西藏正式成为“中国领土的一部分”的是

- A.西汉时设置西域都护
- B.唐朝时文成公主入吐蕃
- C.元朝时加强对西藏的管辖
- D.清朝时设置驻藏大臣

解析:能证明西藏正式成为“中国领土的一部分”的是元朝时加强对西藏的管辖。元朝设置宣政院管理西藏地区军政要务,宣政院是元朝掌管全国佛教事宜和藏族地区军政事务的中央机关。从此,西藏地区正式成为我国中央政府直接管辖的一个地方行政区域。

答案: C

5.“今大皇帝(道光帝)准将香港一岛给予大英国君主暨后世袭主位者常远据守主掌,任便立法治理。”这段史料反映的史实与下列哪个条约有关?

- A.《尼布楚条约》
- B.《南京条约》
- C.《北京条约》
- D.《辛丑条约》

解析:本题主要考查学生运用所学知识解决问题的能力,结合所学知识可知,1842 年中英《南京条约》的内容,规定清政府将香港岛割让给英国。ACD 不符合题意。所以答案选 B。

答案: B

6.“这个伟大的事件,以打响武装反抗国民党反动派第一枪的英雄壮举,以党独立领导的新型人民军队诞生的重要标志,载入了中国革命史册。”这里的“这个伟大的事件”距 2017 年多少周年?

- A.68
- B.80
- C.90
- D.96

解析:本题主要考查学生运用所学知识解决问题的能力,根据题干的“打响武装反抗国民党反动派第一枪”的信息,结合所学知识可知,1927 年的南昌起义打响了武装反抗国民党反动派第一枪,2017-1927=90。所以答案选 C。

答案: C

7.为进行革命传统教育,某中学暑期组织“红色记忆”考察团,分赴延安、吴起镇、井冈山、遵义四地实地考察。其中,贵州遵义考察团考察的主题最恰当的是

- A.长征会师 伟大胜利
- B.生死攸关 历史转折
- C.革命圣地 战略后方
- D.星星之火 可以燎原

解析：1935年1月，党中央在遵义召开会议，会议解决了博古等人在军事上和组织上的错误，取消了博古在军事上的指挥权，肯定毛泽东的正确主张。确定了以毛泽东为核心的党中央的正确领导。这次会议挽救了党、挽救了红军、挽救了革命，是党的历史上生死攸关的转折点。故贵州遵义考察团考察的主题最恰当的是生死攸关，历史转折。

答案：B

8.下图是为纪念“中国人民抗日战争暨世界反法西斯战争胜利70周年”发行的，以百团大战纪念馆为背景的邮票。“百团大战”是

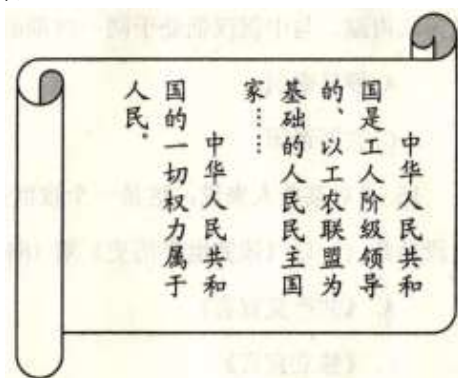


- A.中国军队主动出击日军的规模最大战役
- B.抗战以来的第一次大捷
- C.人民解放军转入战略进攻的标志
- D.抗战以来的重大胜利

解析：本题主要考查学生运用所学知识解决问题的能力，结合所学知识可知，百团大战是八路军与日军在华北地区的战役，是中国军队主动出击日军的规模最大战役，BCD不符合百团大战的特点。所以答案选A。

答案：A

9.新中国成立后，我国的民主政治不断发展完善。下图内容出自第一届全国人民代表大会制定的法律文件，该法律文件是



- A.《中国人民政治协商会议共同纲领》
- B.《中华人民共和国土地改革法》
- C.《中华人民共和国宪法》
- D.《中华人民共和国刑法》

解析：1954年9月，第一届全国人民代表大会在北京召开，大会制定了《中华人民共和国宪法》。这是我国第一部社会主义类型的宪法，也是我国有史以来真正反映人民利益的宪法。据“出自第一届全国人民代表大会制定的法律文件”可知，该法律文件是《中华人民共和国

宪法》。

答案：C

10. “紫荆开后白莲开，喜事翩跹接踵来。神州大地齐欢庆，一国两制谱新篇。”这首诗歌中的“喜事”是指

- A. 第一届中国人民政治协商会议召开、新中国成立
- B. 西藏和平解放、抗美援朝战争胜利
- C. 川藏、新藏公路通车
- D. 香港、澳门回归

解析：本题主要考查学生运用所学知识解决问题的能力，考查的是香港、澳门回归。“紫荆”、“白莲”分别是香港、澳门特别行政区区旗的标志性花朵，香港、澳门回归是一国两制的成功实践。ABC 不符合题意。所以答案选 D。

答案：D


11. 2017 年 4 月 1 日，中共中央、国务院决定设立雄安新区，这是千年大计、国家大事。改革开放后，成为经济特区的代表，对外开放“窗口”的是

- A. 上海浦东开发区
- B. 海南经济特区
- C. 厦门经济特区
- D. 深圳经济特区

解析：本题主要考查学生运用所学知识解决问题的能力，结合所学知识可知，深圳经济特区，1980 年 8 月正式成立，成立后取得了巨大的成绩，经济飞速发展，成为对外开放的窗口。所以答案选 D。

答案：D

12. 下图是 1972 年 2 月 6 日的《时代周刊》封面，标题是：Nixon's China odyssey（尼克松的中国之旅）。“尼克松的中国之旅”取得的重大成果是



- A. 恢复中华人民共和国在联合国的合法权利
- B. 签署《中美联合公报》
- C. 中美正式建立外交关系

D.中国加入世界贸易组织

解析：1972年尼克松访华，双方签订《中美联合公报》，标志着中美两国二十多年的对抗结束了，两国关系开始走上正常化。1979年，中美正式建交。

答案：B

13.古希腊历史悠久，文明灿烂。下列不属于古希腊文明的是

A.伯利克里改革

B.《荷马史诗》

C.阿基米德发现杠杆和浮力定律

D.《天方夜谭》

解析：本题主要考查学生运用所学知识解决问题的能力，结合所学知识可知，《天方夜谭》是阿拉伯民间故事集，是阿拉伯帝国创建后阿拉伯民族精神形成和确立时期的产物，不属于古希腊文明。所以答案选D。

答案：D

14.世界古代历史上曾经出现过许多帝国。其中，地跨欧、亚、非三洲，地中海一度成为其内湖，与中国汉朝处于同一时期的是

A.罗马帝国

B.亚历山大帝国

C.波斯帝国

D.拜占庭帝国

解析：题干材料中给出了“地中海一度成为其内湖”这个提示信息可知这个帝国是罗马帝国。公元前27年以后，罗马帝国在屋大维统治下，发动多次侵略战争，疆域不断扩大，到2世纪达到最大规模，成为地跨欧亚非三洲的大帝国，广袤的地中海成为它的内湖。罗马帝国与中国汉朝处于同一时期。

答案：A

15.“对某些人来说，这是一个救世福音，对另外一些人，它则是一个魔鬼学说。”这段话是《一口气读完世历史》对1848年发表的某一文献的评价，该文献是

A.《共产党宣言》

B.《人权宣言》

C.《独立宣言》

D.《解放黑人奴隶宣言》

解析：据“对某些人来说，这是一个救世福音，对另外一些人，它则是一个魔鬼学说”可知，该文献是《共产党宣言》。1848年，马克思和恩格斯为共产主义者同盟起草了纲领性文件《共产党宣言》。《共产党宣言》分析了阶级斗争在阶级社会历史发展中的作用，揭示资本主义必然要被社会主义代替的客观规律，号召全世界无产者联合起来，为获得自己的解放而斗争。

《共产党宣言》的发表，标志着马克思主义的诞生，使无产阶级的斗争有了科学的理论指导，国际工人运动进入一个新的历史时期，

答案：A

16.一位科学家认为电是人类迄今为止所能找到的妙不可言的、极为能干的新仆人。这位“极为能干的新仆人”被广泛地应用于生活领域开始于

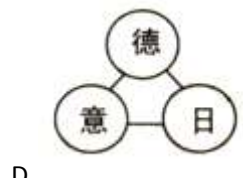
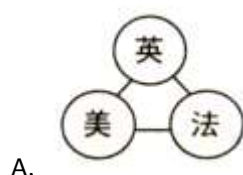
A.工业革命

- B.第二次工业革命
- C.第三次科技革命
- D.第一次世界大战

解析：本题主要考查学生运用所学知识解决问题的能力，题干“妙不可言的极为能干的新仆人”中的新仆人表明电力发展已经进入了人们的日常生活中，能够代替人们去做一些日常的事务，这是第二次科技革命的成果，被称为电气时代。所以答案选 B。

答案：B

17.19 世纪末 20 世纪初，为重新分割世界形成了三国同盟和三国协约两大敌对的帝国主义侵略集团。下列示意图中属于三国同盟的是



解析：本题主要考查学生运用所学知识解决问题的能力，结合所学知识可知，第二次科技革命以后，各国经济迅速发展，政治经济的发展不平衡导致各国之间矛盾加剧，形成了英法俄的三国协约集团和德意奥的三国同盟集团。所以答案选 C。

答案：C

18.马克思说：“在科学上没有平坦的大道，只有不畏劳苦沿着陡峭山路攀登的人，才有希望达到光辉的顶点。”牛顿在科学上取得的巨大成就是

- ①创建微积分
- ②提出进化论思想
- ③建立完整的力学理论体系
- ④发现万有引力定律
- ⑤创立相对论

- A.①③④
- B.①②④

C.②③⑤

D.③④⑤

解析：英国科学家牛顿在天文学领域发现了万有引力定律；在数学领域创建微积分；在力学领域建立了完整的力学体系，其中“牛顿三定律”，对自然科学的发展影响最大。提出进化论思想的是达尔文，爱因斯坦创立了相对论。

答案：A

19.巴黎和会后，一位代表说：“我们初来巴黎时，对即将建立新秩序满怀信心，离开时，则感到新秩序比旧秩序更加纠缠不清。”他之所以这样说，是因为巴黎和会后建立的“新秩序”

- A.没有改变第一次世界大战前的世界秩序
- B.彻底消除了战胜国和战败国之间的矛盾
- C.重新确立了帝国主义在东亚、太平洋地区的统治
- D.没有从根本上消除帝国主义列强之间的矛盾

解析：依据题干信息：“我们初来巴黎时，对即将建立新秩序满怀信心；离开时，则感到新秩序比旧秩序更加纠缠不清”结合所学知识：巴黎和会，不仅没有消除帝国主义国家之间的矛盾，反而加剧了战胜国与战败国之间的矛盾、战胜国与弱小国家之间的矛盾。

答案：D

20.二十世纪四十年代，美苏两国开始了长达几十年的冷战。下列不是在冷战时期发生的事件是

- A.越南战争
- B.古巴导弹危机
- C.苏联入侵阿富汗
- D.科索沃战争

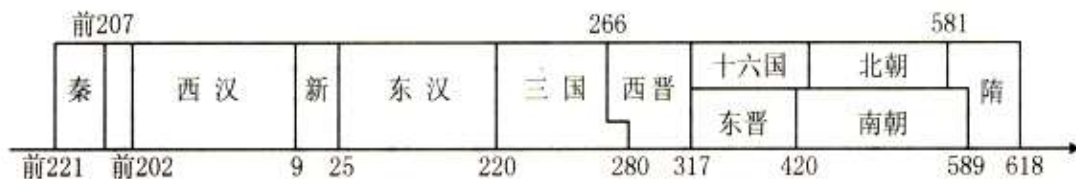
解析：1947年3月，杜鲁门主义的出台，标志着冷战开始，1991年，苏联解体，冷战结束。1999年，以美国为首的北约打着维护人权的旗号，发动的对南联盟的战争，科索沃战争爆发。科索沃战争是美国对世界多极化的挑战。1999年科索沃战争之后，科索沃最终宣布独立，这是世界政治格局多极化趋势的体现，美国已不能独霸世界。因而科索沃战争不在冷战时期。

答案：D

二、材料解析题：本大题共4小题，第21题10分，第22题10分，第23题9分，第24题11分，共40分。

21.在中国和美国的历史发展进程中，都曾面临着统一与分裂的问题。阅读下列材料，回答问题。

材料一：《中国历史纪年示意图》（局部）



(1)材料一中，你能找出哪些结束国家分裂、完成统一的朝代？结合所学知识，说出三国两

晋南北朝时期的阶段特征。北朝时期，鲜卑族建立的什么政权统一了黄河流域？(3分)

解析：材料一是《中国历史纪年示意图》，读图可知：秦朝、西晋和隋朝是我国历史上结束国家分裂、完成统一的朝代。结合所学知识可知：三国两晋南北朝时期时期，我国民族政权分立，民族融合不断加强。北朝时期，鲜卑族建立的北魏政权。439年，北魏统一了黄河流域。

答案：秦、西晋、隋(1分)政权分立与民族融合。(意思对即可)(1分)北魏(1分)

材料二：台湾大事记

元朝	加强对琉球（今台湾）的管辖
1662年	①（人物）收复台湾
1895年	②（条约）割台湾给日本
1945年	台湾回到祖国怀抱
1992年	海协会和海基会就“③”达成共识

(2)材料二空白处应填写：①\_\_\_\_；②\_\_\_\_；③\_\_\_\_。(3分)

解析：1662年，郑成功收复台湾。1895年，《马关条约》割台湾、澎湖列岛等给日本。1992年，海基会和海协会就“海峡两岸均坚持一个中国的原则”达成共识。

答案：郑成功《马关条约》海峡两岸均坚持一个中国原则(一个中国原则)(3分)

材料三：美国内战是两种不同制度之间矛盾与冲突的结果，也是一场维护国家主权完整的战争。如果主权完整得不到维护，领土得不到统一，资本主义制度就难以一统美国天下，工业化就会推迟。如果美国分裂成了两个或者更多的国家，或者北方没有赢得胜利，美国就不可能成为20世纪世界第一强国。

——《大国崛起解说词》

(3)说出材料三中“两种不同制度”分别指什么？依据材料三，说出美国内战在美国历史发展中的作用。(3分)

解析：由材料“美国内战是两种不同制度之间矛盾与冲突的结果，也是一场维护国家主权完整的战争…领土得不到统一，资本主义制度就难以一统美国天下，工业化就会推迟…美国就不可能成为20世纪世界第一强国”可知材料三中的“两种不同制度”分别指的是北方资本主义制度和南方奴隶制度。美国内战在美国历史发展中的作用是：维护了国家主权和领土的完整；维护了国家统一；使资本主义制度得到巩固；有利于美国工业化的发展；为美国成为世界第一强国奠定了基础等。

答案：北方资本主义和南方种植园经济(奴隶制)(1分)维护了国家主权和领土完整；维护了国家统一；使资本主义制度一统美国；有利于美国工业化；为美国成为世界第一强国奠定基础。等等。(答对两条即可)(2分)

(4)结合以上材料和所学知识，请谈谈你对国家统一与分裂的认识。(1分)

解析：本题开放型的题目，考查的是学生开放性思维的能力。只要符合题意，言之有理即可。例如：国家统一是历史发展的必然趋势；统一有利于国家的发展、强盛；我们要维护国家的统一等。



答案：国家统一是历史发展的必然规律；统一有利于国家的发展、强盛；我们要维护国家的统一。等等。(观点正确即可)(1分)

22.改革与开放是社会发展的动力。阅读下列材料，回答问题。

材料一：商鞅变法是战国时期一次重要的改革。通过这次变法，旧制度废除，新制度建立。国家富裕，军力增强，秦国成为战国后期最强大的国家，为统一六国奠定了基础。

——川教版《中国历史》七年级上册

(1)依据材料一并结合所学知识，指出“新制度”是指什么？商鞅变法中的哪些措施使秦国“国家富裕，军力增强”？(2分)

解析：据材料并结合所学知识可知，材料中的“新制度”是指封建制度。商鞅变法的措施中，使秦国“国家富裕，军力增强”措施是国家承认土地私有，允许自由买卖；奖励耕织，调动了农民的生产积极性，从而增强了国家的经济实力。

答案：封建制度(1分)国家承认土地私有，允许自由买卖；奖励耕战，生产粮食布帛多的人，可免除徭役。根据军功大小授予爵位和田宅，废除没有军功的旧贵族的特权。(答对一条即可)(1分)

材料二：过去，日本以“日本精神、中国知识”为口号，适应了经过挑选的中国文化的某些方面。现在(19世纪)，日本又以“东方道德、西方技艺”为口号，向西方借用了它所盼望的东西。

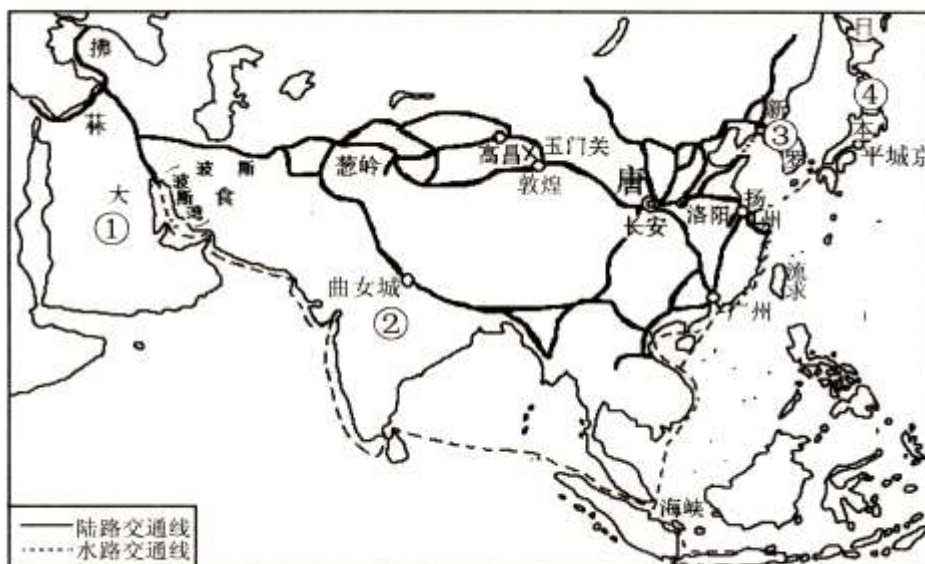
——《全球通史》

(2)材料二中日本以“中国知识”和“西方技艺”为口号分别进行了哪两次改革？(2分)

解析：材料二中日本以“中国知识”和“西方技艺”为口号分别进行了大化改新和明治维新两次改革。

答案：大化改新明治维新(2分)

材料三



唐朝对外主要交通路线图

(3)结合所学知识分析材料三反映了唐朝的什么现象？玄奘到佛教发源地\_\_\_\_\_ (填序号)游学；鉴真东渡的国家是\_\_\_\_\_ (填序号)。(3分)

解析：材料三反映了唐朝的对外交通发达，对外交往范围广，对外交往活跃的现象。玄奘西游天竺和鉴真东渡日本就反映了唐朝的对外交通发达，对外交往范围广，对外交往活跃的现象。

答案：对外交通发达；对外交往范围广；对外交往活跃。等等。(答对一条即可)(1分)；②④(2分)

材料四：“实现中国梦必须走中国道路……这条道路来之不易，它是在改革开放 30 多年的伟大实践中走出来的，是在中华人民共和国成立 60 多年的持续探索中走出来的，是在对近代以来 170 多年中华民族发展历程 的深刻总结中走出来的……”

——习近平在十二届人大一次会议闭幕会上的讲话

(4)材料四中的“改革开放 30 多年的伟大实践中走出来”的“中国道路”是指什么道路？

“近代以来 170 多年”中，开辟了中国近代化道路的事件是什么？高举“民主”“科学”两面大旗的思想解放运动是什么？(3分)

解析：材料四中的“改革开放 30 多年的伟大实践中走出来”的“中国道路”是指中国特色的社会主义道路；“近代以来 170 多年”中，开辟了中国近代化道路的事件是洋务运动；高举“民主”“科学”两面大旗的思想解放运动是新文化运动。

答案：中国特色社会主义道路 洋务运动 新文化运动(3分)

23.历史上的大国都经历过曲折探索的发展历程。阅读下列材料，回答问题。

材料一：1929 年，美国的国民生产总值是 1040 亿美元，到 1932 年只剩下 580 亿美元了，美国损失了一半的财富……富兰克林·罗斯福的“新政”开创了市场经济的新模式。在这种模式中，市场规律这只“看不见的手”和政府干预这只“看得见的手”联合起来，共同影响经济，市场的作用和政府的作用同时得以发挥。

——《大国崛起解说词》

(1)依据材料一并结合所学知识指出，使“美国损失了一半的财富”的事件是什么？“新政”的“新”表现在哪里？20 世纪 90 年代后，美国经济进入了什么时代？(3分)

解析：据材料一“1929 年，美国的国民生产总值是 1040 亿美元，到 1932 年只剩下 580 亿美元了，美国损失了一半的财富……”并结合所学知识可知，使“美国损失了一半财富”的事件是 1929-1933 年的经济大危机。据“富兰克林·罗斯福的新政开创了市场经济的新模式。在这种模式中，市场规律这只看不见的手和政府干预这只看得见的手联合起来，共同影响经济，市场的作用和政府的作用同时得以发挥”可知，“新政”的“新”表现在加强国家对经济的干预和指导；市场的作用和政府的作用同时得以发挥。20 世纪 90 年代后，美国经济稳定增长，进入新经济时代。新经济的主要特征是信息化和全球化。

答案：1929~1933 年的经济大危机(经济大危机)(1分)加强国家对经济的干预和指导；市场的作用和政府的作用同时得以发挥。(答对一条，意思对即可)(1分)新经济(1分)

材料二：在全国基本实现社会主义工业化和农业集体化的基础上，苏联在 1936 年通过新宪法，宣布苏联是“工农社会主义国家”。新宪法的制定，标志着苏联高度集中的经济政治体制的形成。

——鲁教版《世界历史》八年级下册

(2)材料二中苏联“在全国基本实现社会主义工业化”的标志性事件是什么？“高度集中的经济政治体制”被称为什么？20 世纪 50 年代，针对这一经济政治体制的弊端，苏联哪位领导人进行了改革？(3分)

解析：据所学知识可知，材料二中苏联“在全国基本实现社会主义工业化”的标志性事件是

两个五年计划的完成：1928-1937年，苏联先后完成了第一、第二个五年计划，重点发展重工业。这两个五年计划完成后，苏联由传统的农业国变成强盛的工业国，工业总产值跃居欧洲第一、世界第二，国防力量也大为加强。与此同时，苏联加快了实现农业集体化的步伐。在全国基本实现社会主义工业化和农业集体化的基础上，苏联在1936年通过新宪法，宣布苏联是“工农社会主义国家”。新宪法的制定，标志着苏联社会主义制度确立，标志着苏联高度集中的经济政治体制的形成。这一体制也被称为“斯大林模式”。20世纪50年代，针对这一经济政治体制的弊端，苏联赫鲁晓夫进行了改革，赫鲁晓改革虽取得一定的成效，但从总体上讲，却只是对斯大林模式的小修小补，并没有取得实质性的突破。在一定程度冲击了斯大林模式，但没有彻底改变该模式。

答案：两个五年计划的完成 “斯大林模式” 赫鲁晓夫 (3分)

材料三：1956年，第一个“五年计划”提前完成。“一五”期间，我国工业建设和生产所取得的成就远远超过了旧中国的一百年，也就是在这一年社会主义改造基本完成……社会主义制度的全面确立为中国的发展和进步奠定了根本基础，中国开始转入全面的大规模的社会主义建设。

——《复兴之路解说词》

(3)材料三中“第一个五年计划”集中力量发展哪一行业？“社会主义改造”是对哪三方面的改造？“中国开始转入全面的大规模的社会主义建设”后出现了一些失误，请试举一例。(3分)

解析：据所学知识可知，材料三中“第一个五年计划”集中力量发展重工业；1953-1956年的“社会主义改造”是对农业、手工业、资本主义工商业的三大改造；“中国开始转入全面的大规模的社会主义建设”后出现了“大跃进”、人民公社化运动等失误。1958年的“大跃进”和人民公社化运动是社会主义探索时期的重大失误，我国的工农业生产遭到严重破坏，国家和人民遇到了建国后未曾有过的经济困难，是社会主义经济建设的重大失误与挫折。

答案：重工业 (1分)农业、手工业、资本主义工商业 (1分)“大跃进”、人民公社化运动等。(答对一个即可)(1分)

24.学习历史的方法多种多样。阅读下列材料，回答问题。

【史料实证】

材料一：见下图



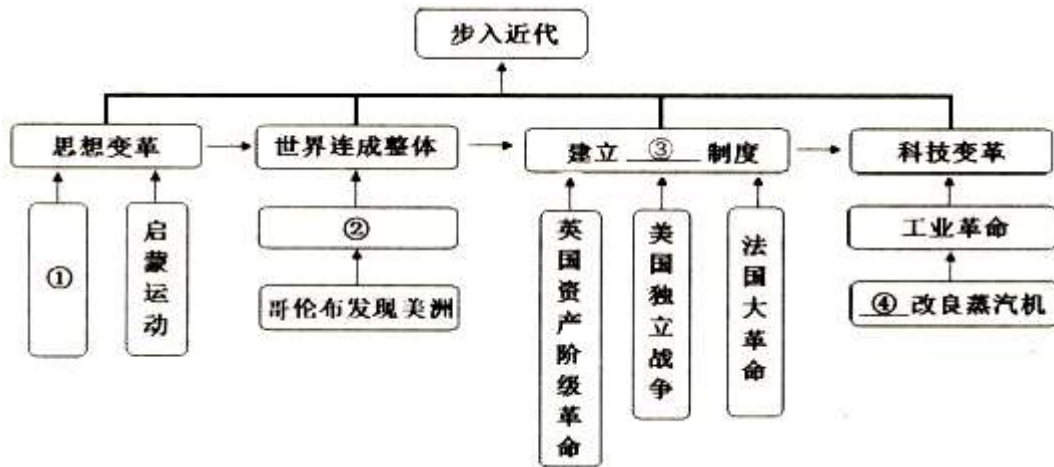
(1)材料一中的这张旧纸币是小明同学家中收藏的，该纸币上印有“中华民国三十四年印”的字样，他认为该纸币是在抗日战争胜利那一年发行的，你认为他的判断是否正确？结合所学知识说明理由。请你再判断该纸币上的人物是谁？(3分)

解析：小明判断是正确的；中华民国成立于1912年，因而中华民国三十四年是1945年，也是抗日战争胜利那年。纸币上的人物是孙中山。

答案：正确 (1分)因为中华民国三十四年是公元1945年，也是抗日战争胜利那年。(意思表达清楚即可)(1分)孙中山(1分)

【梳理归纳】

材料二：某同学为复习“步入近代”专题，制作了如下思维导图。



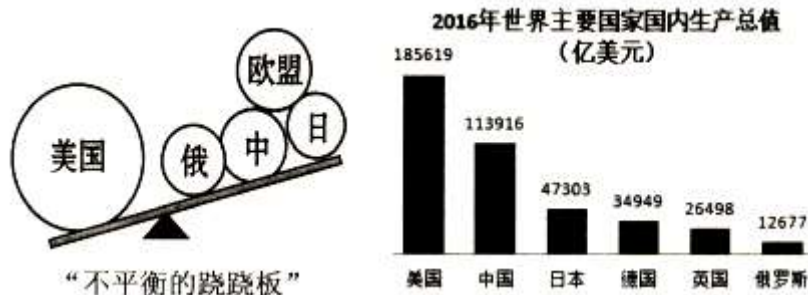
(2)依据材料二并结合所学知识，为该同学完善思维导图中的内容。①\_\_\_\_；②\_\_\_\_；③\_\_\_\_；④\_\_\_\_（人物）。（4分）

解析：依据材料二并结合所学知识可知，14世纪兴起于意大利的文艺复兴为欧洲资本主义的产生和发展奠定了思想基础。15世纪末欧洲人开始开辟新航路，新航路的开辟把世界各个地区连在一起，拓展了人类的活动空间和范围。英国资产阶级革命、美国独立战争和法国大革命分别使英国、美国和法国走上了资本主义道路，建立了资本主义制度；第一次工业革命，瓦特改良蒸汽机，把人类带入了“蒸汽时代”。

答案：文艺复兴 新航路开辟 资本主义 瓦特（4分）

【识图明史】

材料三：见下图



(3)通过观察分析材料三图片中的有关信息，可以看出当今世界呈现了怎样的政治格局？在新的世界格局形成的过程中，起决定性作用的因素是什么？（2分）

解析：通过“不平衡的跷跷板”可知，当今世界政治格局呈现多极化趋势；在新的世界格局形成的过程中，起决定性作用的因素是经济实力。随着东欧剧变、苏联解体，美苏对立的两极格局不复存在了，世界暂时形成了“一超多强”的局面，世界政治格局朝着多极化方向发展，但是一个新的相对稳定的世界格局至今还没有定型。

答案：“一超多强”（或多极化趋势）(1分)经济实力(1分)

【关注热点】

材料四：2017年5月14日至15日，中国在北京主办“一带一路”（“一带”是指丝绸之路经济带，“一路”是指21世纪海上丝绸之路）国际合作高峰论坛。这是各方共商、共建“一

带一路”，共享互利合作成果的国际盛会，也是加强国际合作，对接彼此发展战略的重要合作平台。

——摘编自新华网

(4)现实是历史的延续。为开辟丝绸之路做出突出贡献的历史人物是谁？结合材料四，说出我国提出的“一带一路”战略顺应了当今世界经济发展的什么趋势？(2分)

解析：现实是历史的延续。为开辟丝绸之路做出突出贡献的历史人物是张骞：张骞出使西域后，汉朝和西域的使者、商人把中国的丝和丝织品，从长安通过河西走廊、今新疆地区，运往西亚，再转运到欧洲，又把西域各国的奇珍异宝输入中国内地。这条沟通中西交通的陆上要道，就是历史上著名的丝绸之路。结合材料四“这是各方共商、共建一带一路，共享互利合作成果的国际盛会，也是加强国际合作，对接彼此发展战略的重要合作平台”可知，我国提出的“一带一路”战略顺应了当今世界经济发展的全球化趋势。

答案：张骞 全球化 (2分)