

2012 年福建莆田市初中学业考试试卷地理试题

一、单项选择题（本大题共 25 小题，每小题 2 分，共计 50 分。在每小题给出的四个选项中，只有一项是最符合题目要求的）

1、人类对地球形状的认识经历了漫长的过程，下列能证明地球是个球体的是（ ）

- A、斯科特南极探险 B、魏格纳大陆漂移假说
C、麦哲伦环球航行 D、板块构造学说

2、在野外考察时不能用来辨别方向的是（ ）

- A、树干年轮 B、流星 C、北极星 D、指南针

2012 年 5 月 28 日，河北唐山发生 4.8 级地震（震中：118.5° E，39.7° N）。图 1 是局部经纬网图，读图回答 3—5 题。

3、图中四地离震中最近的是（ ）

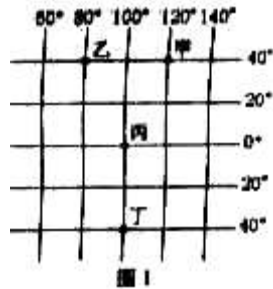
- A、甲 B、乙 C、丙 D、丁

4、图中四地有太阳光线直射的是（ ）

- A、甲 B、乙 C、丙 D、丁

5、图中四地位于东半球、南半球的是（ ）

- A、甲 B、乙 C、丙 D、丁



2011 年 11 月 3 日，中国南极科考队踏上了中国第 28 次南极科考征程，并于 2012 年 4 月 8 日凯旋归来。结合材料回答 6—7 题。

6、科考队在南极考察时，可遇到的动物是（ ）



7、科考队在南极考察期间的 1 月份，我国所处的季节是（ ）

- A、春季 B、夏季 C、秋季 D、冬季

8、下列等高线地形图中，表示盆地的是（ ）

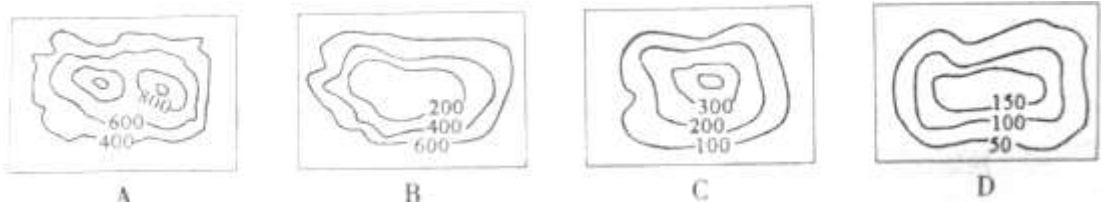


图 2 是世界局部区域略图，读图回答 9—11 题。

9、①②两地的气候类型是（ ）

- A、热带雨林气候
B、温带海洋性气候
C、热带沙漠气候
D、温带季风气候

10、③地以南地区所在半岛的名称是（ ）

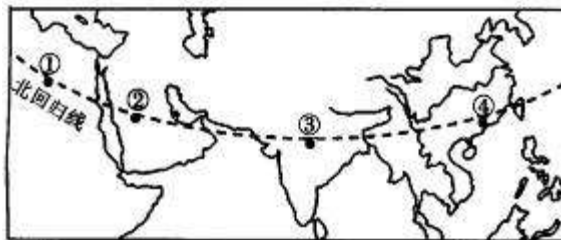


图 2

- A、阿拉伯半岛 B、中南半岛
- C、印度半岛 D、索马里半岛

11、④地的主要人种是（ ）

- A、混血种人 B、黑种人 C、白种人 D、黄种人

图3是我国局部区域略图，读图回答12——14题。

12、青藏铁路连接的两个省级行政区是（ ）

- A、青海、西藏
- B、青海、新疆
- C、西藏、四川
- D、四川、新疆

13、拉萨市所在地区最主要的少数民族是（ ）

- A、回族 B、藏族
- C、壮族 D、蒙古族

14、拉萨市所在地区主要的农作物是

- A、棉花、玉米 B、水稻、花生
- C、青稞、小麦 D、大豆、甘蔗



图3

族是

（ ）

图4是一幅漫画图，读图回答15——16题。

15、该漫画反映的环境问题是（ ）

- A、水土流失 B、气候变暖
- C、资源短缺 D、草原退化

16、该漫画反映的环境问题产生的主要原因是

- A、围湖造田 B、滥砍滥伐
- C、过度放牧 D、过度开采地下水



图4

（ ）

图5是我国局部区域示意图，读图回答17——19题。

17、我国800mm年平均等降水量线大致通过图中山脉是（ ）

- A、昆仑山 B、天山
- C、武夷山 D、秦岭

18、图中①所在的地形区是（ ）

- A、华北平原 B、东北平原
- C、云贵高原 D、内蒙古高原

19、下列传统民居中位于山脉甲以南的是（ ）

- A、北京四合院 B、陕北窑洞
- C、福建土楼 D、内蒙古蒙古包



图5

甲，该山

图6是亚洲夏季风示意图，读图回答20——21题

20、图中影响我国的夏季风①是（ ）

- A、西南季风 B、东南季风
- C、西北季风 D、东北季风

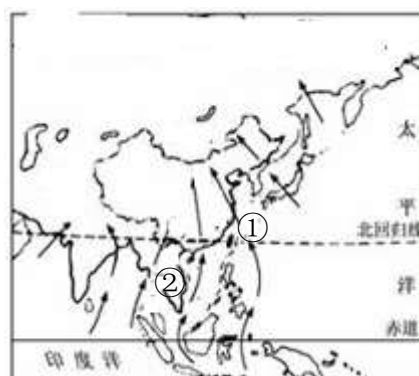
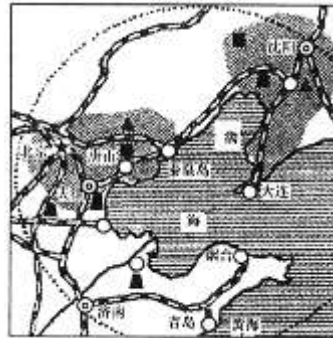


图6

- 21、图中夏季风②主要来自（ ）
 A、太平洋 B、大西洋
 C、北冰洋 D、印度洋

图 7 是环渤海经济圈局部图，读图回答 22——23 题。

- 22、图中属于北方沿海航线中心的港口是（ ）
 A、烟台 B、秦始皇岛
 C、大连 D、青岛



- 23、图中京津唐地区发展工业的不利条件是（ ）
 A、煤铁资源缺乏
 B、淡水资源短缺
 C、技术力量薄弱
 D、水陆交通不便

- 24、莆田夏秋季节多台风，其对应的天气符号是（ ）

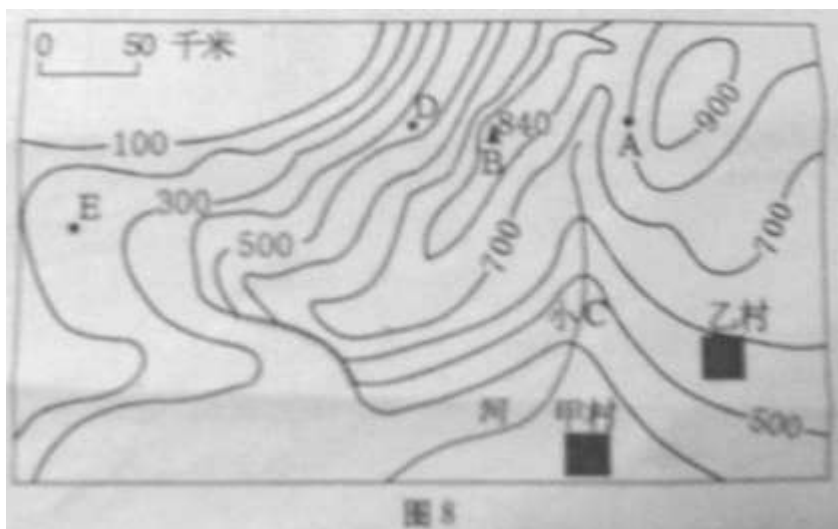
图 7



- 25、假如你是一名导游，你会向台湾游客推荐具有莆田特色的农产品是（ ）
 A、菠萝蜜、金枪鱼 B、火龙果、大黄鱼
 C、芭乐、带鱼 D、枇杷、鲍鱼

二、综合题（本大题共 6 小题，共 50 分）

26、（7 分）图 8 是某地等高线地形图（单位：米），读图回答问题。



（1）从图中可以看出该图的比例尺是图上 1 厘米代表实地距离_____千米。图中甲村位于乙村的_____方向。A 地的海拔高度是_____米，该地形图的等高距是_____米。

（2）写出图中字母所在的地形部位名称：B _____，C _____；D 与 E 所在地相比，坡度较陡的是_____。

27、(8分) 图9是世界局部区域图，读图结合材料回答问题。



材料一：一直以来西亚、北非都是世界关注的焦点。近年来，利比亚、埃及等国家的局势动荡不安，造成了许多社会问题。

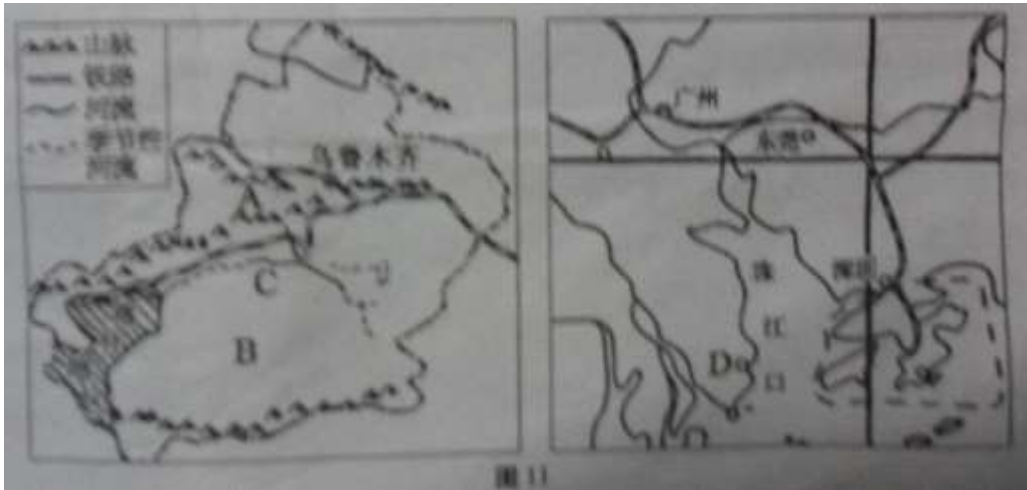
- (1) 图中A国的名称是_____，该国最大港口亚历山大的气候类型是_____气候。位于该国境内的①_____运河沟通了地中海与_____海，同时又是_____洲与_____洲的分界线。
- (2) ②是_____湾，该海湾及其沿岸地区最丰富的矿产资源是_____。

28、(8分) 图10是某国略图，读图回答问题。



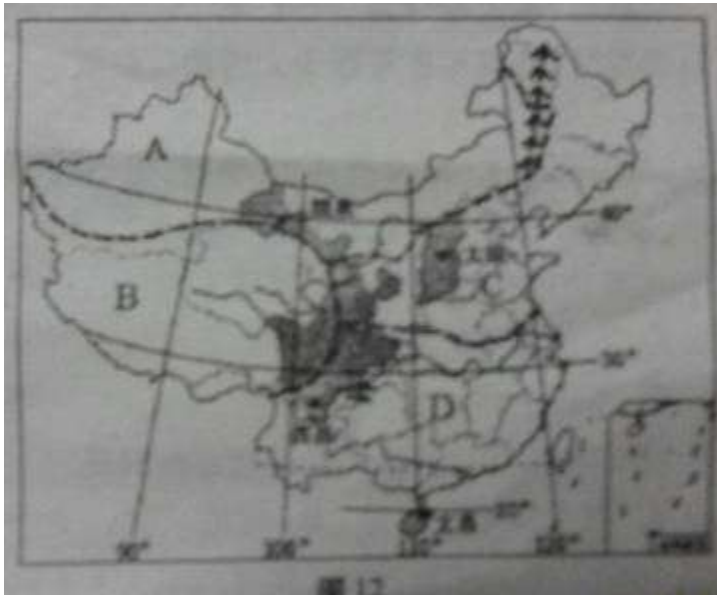
- (1) 图示国家的名称是_____，其首都是_____，位于_____（地形区），该地形区的主要气候类型是_____气候。
- (2) 根据纬度位置判断，该国大部分位于五带中的_____带。该国最大的城市位于该国的_____。
- (3) 从经济发展水平看，该国属于_____（“发达”或“发展中”）国家，我国与该国的互助合作称为“_____”。

29、(10分) 图 11 是我国经济特区喀什和深圳所在地区简图，读图回答问题。



- (1) 写出图中字母所代表的地理事物名称：A 是 _____ 山脉，B 是 _____ 盆地，C 是 _____ 河，D 是 _____ 经济特区。
- (2) 喀什所在的新疆气候干旱，_____ 资源短缺，居民长期使用古老的引水工程“_____”，在有地下水出露的地方，发展了富有特色的 _____ (“河谷”或“绿洲”) 农业。
- (3) 深圳位于珠江口 _____ 侧，南邻 _____ 特别行政区，该特别行政区的主导产业是 _____。

30、(10分) 图 12 是我国四大卫星发射基地及四大地理区域示意图，读图结合材料回答问题。



材料：

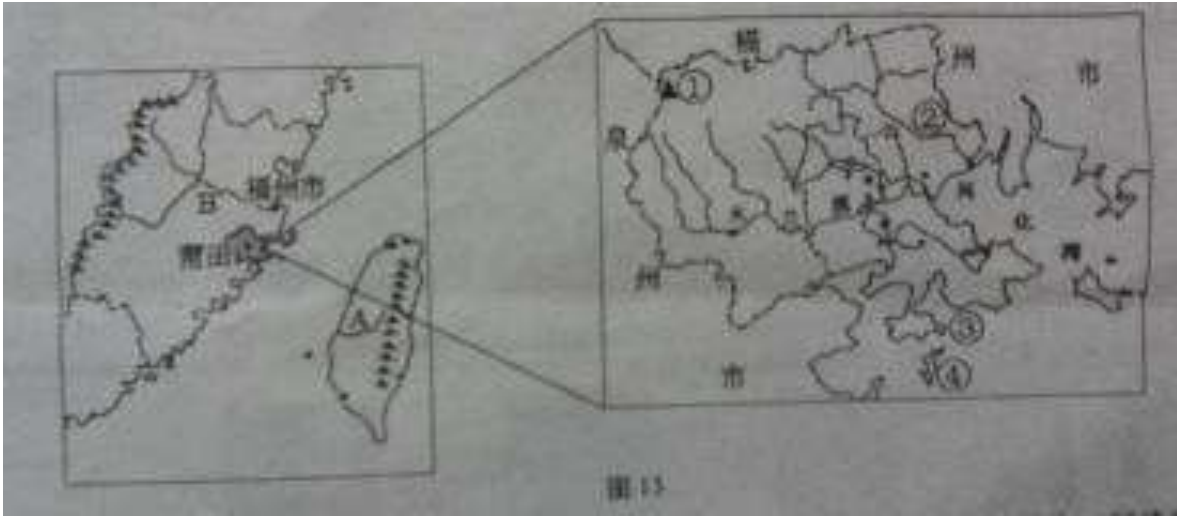
地点	1月		7月		年降水量 (mm)
	气温(°C)	降水(mm)	气温(°C)	降水(mm)	
①	9.4	6.3	22.6	210	1000
②	-6.0	2.9	23.3	120	500
③	-9.3	1.6	21.4	19.5	125
④	17.5	56	28.2	385	2361

(1)在四大地理区域中,土地的主要利用类型不同,草地主要分布在 A 地区和__地区;耕地主要分布在 C 地区和__地区。

(2)酒泉卫星发射基地位于四大地理区域中的_____地区;文昌所在的省级行政区全称是省,该省北隔_____ (内海)与雷州半岛相望;太原所在省级行政区的简称是_____。

(3)材料中的①②③④是我国四大卫星发射基地的气候资料,其中属于文昌的是____,属于西昌的是____,属于太原的是____,属于酒泉的是_____。

31、(7分)图 13 是我国沿海局部区域示意图和莆田市略图,读图回答问题。



(1)台湾最大的河流 A 是_____,其附近日月潭是大陆游客向往的地方。福建的最大河流 B 是_____, A、B 两条河流都注入我国四大海域中的_____。

(2)莆田市位于福建中部沿海,境内最高峰①是_____,河流②是_____,③是湾,著名的旅游景点④是_____岛。

2012 年莆田市初中业考试试卷

地理参考答案及评分标准

一、单项选择题 (本大题共 25 小题,每小题 2 分,共计 50 分。在每小题给出的四个选项中,只有一项是最符合题目要求的)

题号	1	2	3	4	5	6	7	8	9	10	11	12	13
答案	C	B	A	C	D	A	D	B	C	C	D	A	B
题号	14	15	16	17	18	19	20	21	22	23	24	25	
答案	C	A	B	D	A	C	B	D	C	B	A	D	

二、综合题 (本大题共 6 小题,每格 1 分,共 50 分)

26、(7 分)

(1) 50 西南 800 100

(2) 山顶或山峰 山谷 D

27、(8 分)

- (1) 埃及 地中海 苏伊士 红 亚 非 (顺序可对调)
- (2) 波斯 石油
- 28、(8分)
- (1) 巴西 巴西利亚 巴西高原 热带草原
- (2) 热 东南沿海或东南部
- (3) 发展中 南南合作
- 29、(10分)
- (1) 天山 塔里木 塔里木 珠海
- (2) 水或淡水 坎儿井 绿洲
- (3) 东 香港 对外贸易 (外贸) 或国际贸易
- 30、(10分)
- (1) B 或青藏 D 或南方
- (2) 西北或 A 海南 琼州海峡 晋
- (3) ④ ① ② ③
- 31、(7分)
- (1) 浊水溪 闽江 东海
- (2) 石谷解 萩芦溪 平海 湄洲