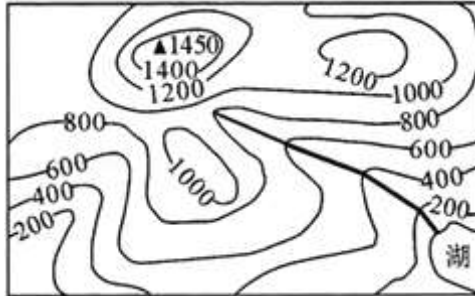


2015 年湖南省永州市中考真题地理

一、选择题（本大题共 25 小题，每小题 2 分，共 50 分，每小题只有一个正确答案。）

读某地区等高线示意图，回答 1 - 2 题。



1. 该地区的主要地形类型是（ ）

- A. 高原
- B. 平原
- C. 山地
- D. 盆地

解析：本题考查等高线地形图的判读。从等高线地形图可以看出，该地地形崎岖，海拔大多在 500 米以上，因此可判断图中所示地区的地形类型主要是山地。

答案：C

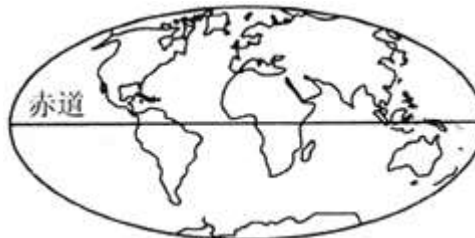
2. 从湖泊到山峰的相对高度约为（ ）

- A. 900 米
- B. 1000 米
- C. 1200 米
- D. 1300 米

解析：本题考查等高线地形图的判读。读图可知，湖泊的海拔高度为 0 - 200 米之间，最高山峰的海拔高度为 1450 米，两地的相对高度：最小值 $1450 \text{ 米} - 200 \text{ 米} = 1250 \text{ 米}$ ，最大值 $1450 - 0 = 1450 \text{ 米}$ ，即从湖泊到山峰的相对高度约为 1250 - 1450 米，选项 D 符合题意。

答案：D

读“世界海陆分布图”，回答 3 - 4 题。



3. 有关世界海陆分布的叙述，正确的是（ ）

- A. 三分陆地七分海洋
- B. 陆地相互连接成一块大陆
- C. 北半球陆地面积大于海洋面积
- D. 南半球陆地面积大于海洋面积

解析：本题考查了海陆分布概况。我们生活的地球，从太空看是个蔚蓝色的美丽星球，它看上去更像“水球”。根据人们的计算，地球上陆地面积占 29%，海洋面积 71%。概括地说，地球上三分是陆地，七分是海洋；地球表面陆地被分割成几大块和若干小块，海洋相互连接成一片；集中于北半球、东半球；海洋集中于南半球、西半球；将地球分为水半球和陆半球，陆半球上依然是海洋多于陆地；所以，无论怎样划分半球，都是海洋多于陆地。

答案：A

4. 下列地理现象或事实，能够说明地球表面海陆处于不断运动变化的是（ ）

- ①地中海的面积不断缩小
- ②昼夜的更替
- ③喜马拉雅山区发现大量古老的海洋生物化石
- ④北京周口店的山洞里发现远古人类头盖骨化石

- A. ①②
- B. ②③
- C. ①③
- D. ②④

解析：本题考查海陆变迁的实例。地中海的面积不断缩小，是由于板块碰撞挤压造成的海洋变成陆地；喜马拉雅山区发现大量古老的海洋生物化石说明喜马拉雅山区曾经是海洋，后来由于板块碰撞挤压地壳隆起而成为现在的山脉，属于海陆变迁现象；昼夜的更替，是地球自转造成的，北京周口店的山洞里发现远古人类头盖骨化石，是原始人类活动的遗迹，都与海陆变迁无关；选项 C 符合题意。

答案：C

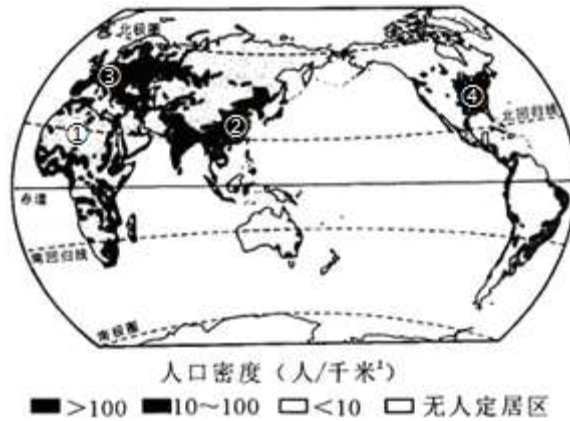
5. 2015 年“6.5”世界环境日中国区的主题是“践行绿色生活”。下列行为有利于保护环境的是（ ）

- A. 使用一次性木筷
- B. 将垃圾分类处理
- C. 单面使用草稿纸
- D. 购买象牙制品

解析：本题考查爱护环境与保护自然资源的重要性。A. 树木可以通过光合作用吸收二氧化碳，使用一次性木筷，增大了森林的砍伐、二氧化碳的排放，故选项不符合““践行绿色生活”这一主题。B. 分类回收垃圾，实现资源化利用，能减少环境污染、二氧化碳的排放，故选项符合““践行绿色生活”这一主题。C. 单面使用草稿纸会造成资源的浪费，故选项不符合“践行绿色生活”这一主题。D. 象牙制品来自野生动物，购买象牙制品会导致人类对野生动物资源的破坏；故选项不符合“践行绿色生活”这一主题。

答案：B

人口的分布与地理环境关系密切，读“世界人口分布图”，回答 6 - 7 题。



6. 在①②③④地中，人口分布较为稀疏的是（ ）

- A. ①
- B. ②
- C. ③
- D. ④

解析：本题主要考查了世界人口的分布特点。世界上绝大多数人居住在中低纬度地区，而在气候温和、降水较多的平原和盆地地区，人口更为集中。读图可知，图中①地是非洲北部的撒哈拉沙漠，气候干旱，人口稀疏；②地是亚洲东部，③地是欧洲西部，④地是北美洲的东部，三地自然条件优越，气候温暖湿润，地形平坦，土壤肥沃，水源充足，是世界人口稠密区。

答案：A

7. ②地居民使用的语言主要是（ ）

- A. 英语
- B. 俄语
- C. 汉语
- D. 阿拉伯语

解析：本题考查世界的语言分布。世界联合国的工作语言有汉语、英语、俄语、法语、西班牙语、阿拉伯语，其中汉语是世界上使用人数最多的语言，英语是世界上分布最广泛的语言。读图可得，②地是中国，使用的语言主要是汉语。

答案：C

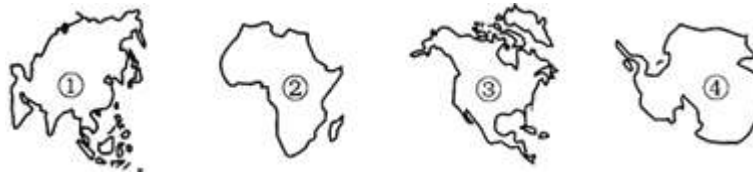
8. 下列传统民居于其所在的地理区域匹配正确的是（ ）

- A. 窑洞——黄土高原
- B. 蒙古包——西双版纳
- C. 竹楼——山东渔村
- D. 海草房——内蒙古高原

解析：本题考查人民生活与地理环境的关系。黄土高原土层深厚，直立性强，人们开凿窑洞居住，冬暖夏凉；海草房应为山东渔村的民居；内蒙古高原民居为蒙古包便于拆迁，适合游牧；西双版纳为竹楼，这种房屋屋顶坡度很大，便于雨水流泻，底层架空，堆放柴草杂物，或放牲畜，二层住人，适应当地气候湿热的特点。

答案：A

读下列大洲轮廓图，回答 9 - 10 题。



9. 代表南极洲的是 ()

- A. ①
- B. ②
- C. ③
- D. ④

解析：本题考查七大洲的地理分布和概况。全世界共有七大洲，按面积由大到小排列分别为：亚洲、非洲、北美洲、南美洲、南极洲、欧洲和大洋洲。根据各大洲的轮廓可判断，图中①是亚洲，②是非洲，③是北美洲，④是南极洲。

答案：D

10. 有关四个大洲的叙述，错误的是 ()

- A. ①是世界上面积最大的大洲
- B. ②是世界上最湿润的大洲
- C. ③大洲的地形分为三个南北纵列带
- D. ④是世界上位置最南的大洲

解析：本题考查七大洲的地理分布和概况。读图分析可知，①为亚洲，②为非洲，③为北美洲，④为南极洲；亚洲是世界上面积最大的大洲，大洋洲是面积最小的大洲；故 A 正确；南美洲是世界上最湿润的大洲，非洲是干旱区面积最广的大洲；故 B 错误；北美洲分为三大南北纵列带，西部是高大的山系，中部是大平原，东部是低缓的高地；故 C 正确；南极洲是世界上位置最南的大洲，也是平均海拔最高的大洲；故 D 正确。

答案：B

11. 天然橡胶、椰子、棕油等产量及出口量均居世界前列的地区是 ()

- A. 东南亚
- B. 南亚
- C. 西亚
- D. 欧洲西部

解析：本题考查东南亚的热带经济作物。东南亚绝大部分位于热带，湿热的气候条件，使其成为世界上重要的热带作物生产基地之一，是世界上天然橡胶、油棕、椰子和蕉麻的最大产地。

答案：A

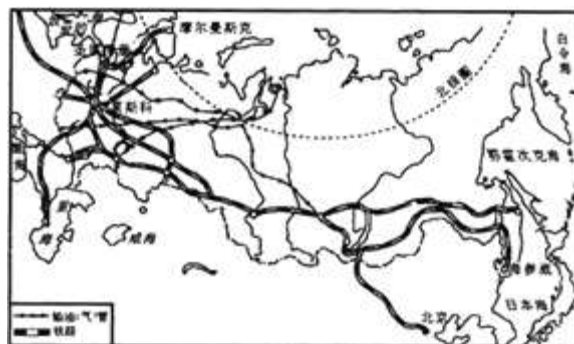
12. 我国已在南极建立了 4 个科学考察站。南极考察一般选择在 ()

- A. 3 - 5 月
- B. 6 - 8 月
- C. 9 - 11 月
- D. 12 - 次年 2 月

解析：本题考查南极地区的考察时间。我国在南极地区已经建成的科学考察站有长城站、中山站、昆仑站和泰山站，在北极地区的科学考察站有黄河站。由于南北半球季节相反，所以去南极考察一般选择在12月-次年的2月，此时是南极地区的暖季且有极昼现象。

答案：D

读“俄罗斯交通分布图”，回答13-14题。



13. 下列有关俄罗斯的叙述，正确的是（ ）

- A. 俄罗斯是地跨亚、非两洲的国家
- B. 俄罗斯是世界上陆地面积最大的国家
- C. 俄罗斯的首都是圣彼得堡
- D. 俄罗斯大多数的河流自北往南流

解析：本题主要考查了俄罗斯的地理概况。俄罗斯是地跨亚欧两洲的欧洲国家；它是世界上面积最大的国家；其首都是莫斯科，俄罗斯大多数河流自南向北流。故选项B符合题意。

答案：B

14. 俄罗斯交通分布的主要特点是（ ）

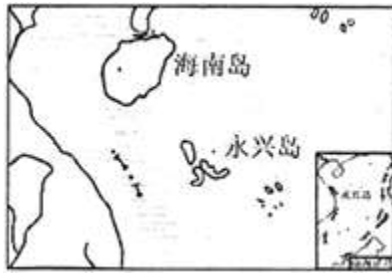
- ①在欧洲部分主要以莫斯科为中心，呈放射状分布
- ②在亚洲部分主要分布在南部地区
- ③输油（气）管线主要呈南北分布
- ④摩尔曼斯克港位于太平洋沿岸。

- A. ①②
- B. ②③
- C. ③④
- D. ①④

解析：考查俄罗斯的交通。俄罗斯交通主要分布在欧洲部分，以莫斯科为中心，呈放射状分布；在亚洲部分主要分布在南部地区；输油（气）管线主要呈东西分布；摩尔曼斯克港位于北冰洋沿岸。故选项A符合题意。

答案：A

海南省三沙市是我国纬度最低的地级市，驻地在永兴岛。读图，完成15-16题。



15. 海南省的简称是（ ）

- A. 粤
- B. 台
- C. 琼
- D. 闽

解析：本题考查我国不同省区的简称。粤是广东省的简称，台是台湾省的简称，琼是海南省的简称，闽是福建省的简称。

答案：C

16. 永兴岛所属的海域是（ ）

- A. 渤海
- B. 黄海
- C. 东海
- D. 南海

解析：本题考查我国的邻国和濒临的海洋。三沙市辖西沙群岛、中沙群岛、南沙群岛的岛礁及海域，政府驻地位于西沙永兴岛。所辖地区所属的海域是南海。

答案：D

17. 下列自然资源中，属于非可再生资源的是（ ）

- A. 森林资源
- B. 土地资源
- C. 矿产资源
- D. 气候资源

解析：考查自然资源的分类。自然资源是存在于自然界、能为人类提供福利的物质与能量，主要包括气候资源、水资源、土地资源、生物资源、矿产资源、海洋资源等。非可再生资源是指经人类开发利用后蕴藏量不断减少，在相当长的时间内不可能再生的自然资源，主要是指自然界的各种矿物、岩石和化石燃料，例如金属矿产、非金属矿产、煤炭、石油、天然气等矿产资源。

答案：C

18. 有“黑土地”、“白山黑水”之称的是（ ）


- A. 东北地区
- B. 黄土高原
- C. 长江三角洲
- D. 珠江三角洲

解析：东北地区，包括黑龙江省、吉林省和辽宁省，简称“东北三省”。东北地区土地面积78.8万平方千米²，占中国陆地总面积的8.2%。长白山位于东北地区东南部，是松花江、图们

江、鸭绿江等河流的发源地；黑龙江流经黑龙江省北侧，是中国与俄罗斯之间重要的界河，因此东北三省有“白山黑水”之称；素有黑土地之称的平原是东北平原，该平原是我国最大的平原。

答案：A

读“沿 32° N 线中国地形剖面图”，完成 19 - 20 题。



19. 我国地势的特征是 ()

- A. 东高西低，呈阶梯状分布
- B. 西高东低，呈阶梯状分布
- C. 中部高，四周低
- D. 东、西高，中部低

解析：本题考查我国的地势特点。读图可知，中国地势西高东低，大致呈阶梯状分布，并且向海洋倾斜，有利于海洋湿润气流深入内地，形成降水。这种地势，使许多大河滚滚东流，沟通了东西交通，加强了沿海与内地的联系；还使许多河流在从高一级阶梯流入低一级阶梯的地段，水流湍急，产生巨大的水能。

答案：B

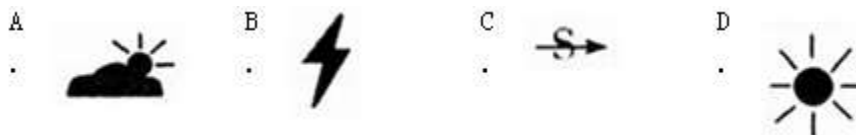
20. ①代表的地形区是 ()

- A. 青藏高原
- B. 四川盆地
- C. 长江中下游平原
- D. 黄土高原

解析：本题考查我国地势的划分。我国的地势西高东低，呈三级阶梯状分布。沿北纬 32° 纬线所作的我国地形剖面图，自西向东的地形依次是青藏高原、横断山脉、①四川盆地、长江中下游平原、黄海。

答案：B

21. 夏季，永州常常出现雷雨天气。表示雷雨的天气符号是 ()



解析：本题考查的是常用的天气符号。在天气预报图上，我们可以看到一些符号，这些符号都是用来表示天气状况的，他们都有特定的含义。读图可知，A 图表示多云，B 图表示雷雨，C 图表示沙尘暴，D 图表示晴。

答案：B

2014 年 11 月北京召开“APEC 峰会”期间，采取了一系列措施治理空气污染，并取得了显著成效，人们将北京美丽的蓝天称为“APEC 蓝”，据此回答 22 - 23 题。

22. 下列有利于形成“APEC 蓝”的治理措施是（ ）

- ①减少工业废气的排放
- ②减少工业废水的排放
- ③减少汽车尾气的排放
- ④提高公交车票价

- A. ①②
- B. ①③
- C. ②④
- D. ②③

解析：考查北京大气环境的治理。“APEC 蓝”是 2014 年新的网络词汇，形容 2014 年 APEC 会议期间北京蓝蓝的天空，说明京津冀实施道路限行和污染企业停工等措施，对减轻雾霾、保证空气质量是有效的。题干中①减少工业废气的排放和③减少汽车尾气的排放减少了一氧化碳等有害气体的排放，有利于“APEC 蓝”的保持。

答案：B

23. 下列世界文化遗产，位于北京的是（ ）

- A. 丽江古城
- B. 安阳殷墟
- C. 龙门石窟
- D. 明清故宫

解析：考查北京的旅游资源。北京是著名古都，更是享誉世界的历史文化名城，有 3000 多年的建城史和 800 多年的建都史，荟萃了众多的名胜古迹和人文景观，是世界上拥有世界文化遗产最多的城市。目前，北京共有故宫、长城、周口店“北京人”遗址、天坛、颐和园和十三陵等 6 处世界文化遗产。云南的丽江古城、河南的安阳殷墟和洛阳龙门石窟也是我国著名的旅游景点。

答案：D

24. 有关港澳台的叙述，正确的是（ ）

- A. 香港的经济以博彩业为主
- B. 澳门的经济以对外贸易为主
- C. 台湾岛隔台湾海峡与福建省相望
- D. 台湾的地形以平原为主

解析：本题考查香港、澳门、台湾的经济发展状况。博彩业是澳门的支柱产业。香港的经济以对外贸易为主，故 AB 不符合题意。台湾与福建省隔海相望，自古以来就是我国神圣不可分割的领土。故 C 符合题意；台湾岛是我国第一大岛，地形以山地为主。故 D 不符合题意。

答案：C

25. 有关新疆的叙述，正确的是（ ）

- A. 新疆的地形以高原为主
- B. 新疆自然环境的突出特征是高寒
- C. 新疆的河流季节变化小
- D. 新疆的环境问题主要表现为荒漠化和水土流失等

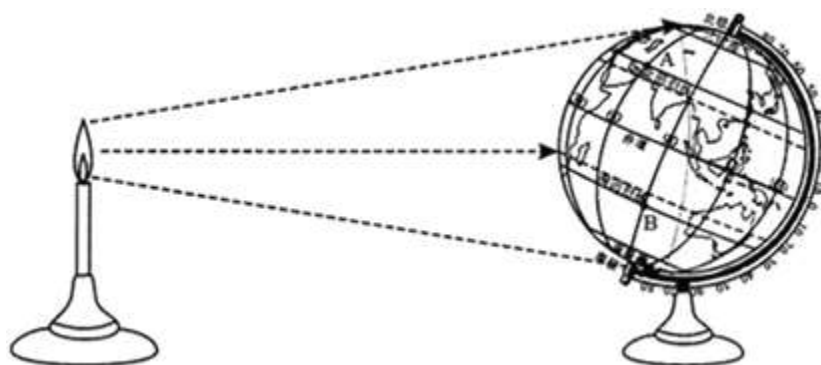
解析：考查新疆的概况。A. 新疆地形以山地和盆地为主，自北向南依次是阿尔泰山脉、准噶尔盆地、天山山脉、塔里木盆地和昆仑山脉，构成“三山夹两盆”的地形特点。故 A 不符合

题意：B. 西北地区由于深居内陆、远离海洋，年降水量表现出由东向西逐渐减少的态势。新疆的东部和南部降水甚少，总的来说，干旱是本区自然环境的主要特征。故 B 不符合题意；C. 新疆地处西北内陆。这里降水稀少，气候干旱，河水主要来自高山冰雪融水。夏季，随着冰雪融化，内流河水量增多；夏季过后，河流水量逐渐减少，甚至断流，季节变化大。所以，内流河大部分属于季节性河流。故 C 不符合题意；D. 新疆干旱区面积广大，沙漠、戈壁等难以利用的土地比重较大，生态环境脆弱。随着经济开发力度的加大，新疆一部分地区的生态环境问题日益突出，主要表现在荒漠化和水土流失加剧、河流和湖泊干涸、耕地和草场退化、自然灾害频发等方面。故 D 符合题意。

答案：D

二、综合题（共 50 分）

26. 读地球运动的演示实验示意图，回答有关问题



- (1) 地球自转的方向是_____，自转一周所需要的时间是_____。
- (2) 图中示意太阳直射在_____（纬线），此时是北半球的_____（节气）。
- (3) A 点的经度是_____；A 点位于 B 点的_____方向。

解析：本题考查地球自转及其方向和周期；用经纬网确定方向和任意地点的位置。

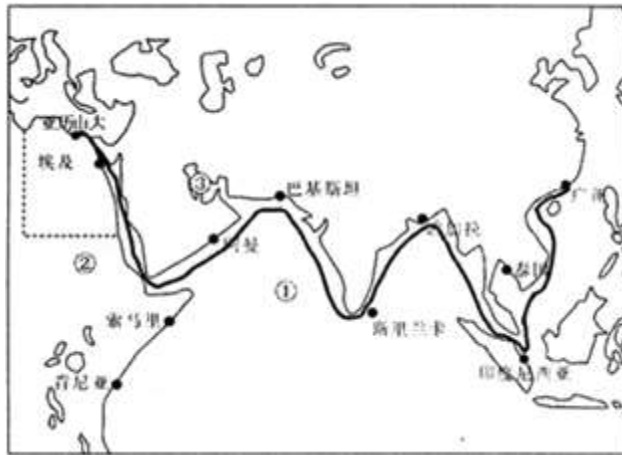
(1) 地球自转是地球绕地轴自西向东转动的运动方式，其周期为一天。我们每天经历的昼夜更替，看到日月星辰的东升西落，时区的差异（东部的时刻早于西部），主要是由于地球自转运动所产生的地理现象。(2) 图中示意太阳直射在南回归线，北极圈内全部出现极夜现象，此时是北半球的冬至日。(3) 东西经度的判定方法为：经度度数向东变大为东经，经度度数向西变大为西经；南北纬度的判定：纬度度数向北变大为北纬，纬度度数向南变大为南纬。可判定 A 点的经度是 30° N， 60° E。同时根据经线指示南北方向，纬线指示东西方向，可判定 A 点位于 B 点的西北方向。

答案：(1) 自西向东 一天

(2) 南回归线 冬至日

(3) 30° N， 60° E 西北

27. 一艘中远集运公司的货轮，从广州出发沿“海上丝绸之路”前往埃及亚历山大港。读图，回答问题。



- (1) 货轮途经的大洋①是_____。
- (2) 货轮到达的大洲②是_____。
- (3) 货轮在①大洋与从③地区驶来的万吨巨轮相遇。该巨轮最有可能装载的货物是_____。
- (4) 长绒棉是埃及著名的出口商品，该国种植长绒棉的有利条件有哪些？

解析：本题主要考查了大洲与大洋的分布情况以及西亚、埃及的物产。

(1) 根据大洲轮廓可判断，大洲②是非洲；读图可知，图中大洋①位于亚洲以南，非洲以东，因此可判断①是印度洋。(2) 根据大洲轮廓可判断，大洲②是非洲。(3) 读图可知，图中③是波斯湾，位于西亚地区，西亚是世界上石油储量最为丰富、石油产量和输出量最多的地区。西亚石油的探明储量约占世界石油总探明储量的一半以上，主要分布在波斯湾及其沿岸地区，因此从西亚地区驶来的万吨巨轮最有可能装载的货物是石油。(4) 埃及种植长绒棉得益于尼罗河三角洲肥沃的土壤、尼罗河的灌溉水源，属于地中海气候夏季阳光充足。

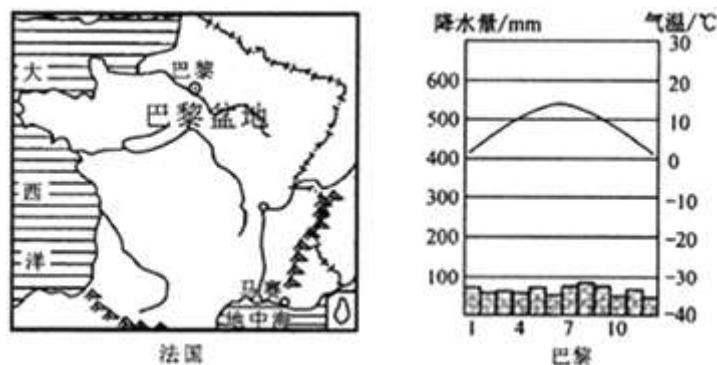
答案：(1) 印度洋

(2) 非洲

(3) 石油

(4) 尼罗河三角洲土壤肥沃、灌溉水源充足、属于地中海气候夏季阳光充足。

28. 法国是欧洲西部工农业均发达的国家。读图，完成下列要求



- (1) 法国的地势特点是_____。
- (2) 巴黎的降水特点是_____。
- (3) 马赛属于_____气候。
- (4) 巴黎盆地的主要农作物是_____。

解析：本题考查的是法国的地形地势特点和主要气候类型。

(1) 根据河流流向可知，法国的地势特点是东南高西北低。

(2)法国属于温带海洋性气候，气温变化小，全年降水均匀，基本没有旱涝灾害，对农业发展非常有利。

(3)马赛位于地中海沿岸，这里有典型的地中海气候。

(4)法国是欧洲重要的小麦产区，小麦种植区主要分布在巴黎盆地、卢瓦尔平原和阿基坦盆地等大西洋沿岸地区，地中海沿岸地区盛产优质葡萄，非常有利于葡萄的生长。

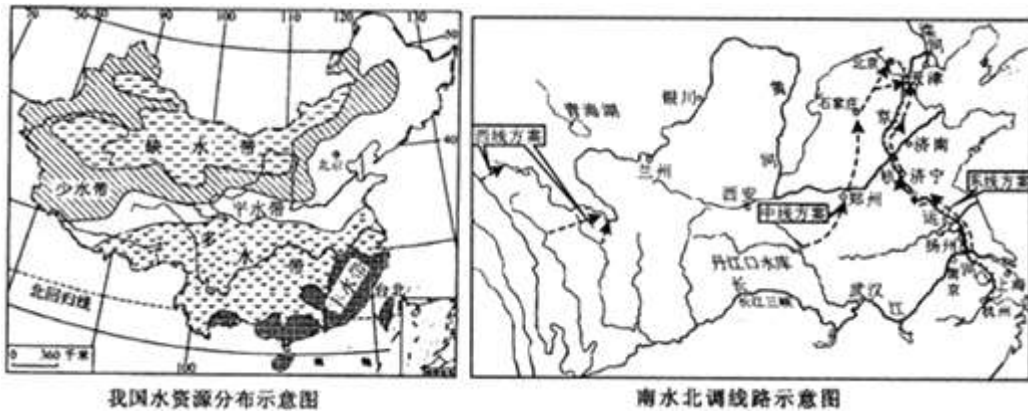
答案：(1)东南高西北低

(2)全年降水均匀

(3)地中海

(4)小麦

29. “水是生命之源”。读图，回答下列问题。



(1)北京、台北两城市，处于丰水带的是_____。

(2)我国水资源的地区分布特点是_____。

(3)南水北调中线工程从湖北丹江口水库取水，经过河南、_____（省）到达北京、天津。

(4)华北地区水资源短缺的主要原因是什么？

(5)生活中我们应当怎样节约和保护水资源？（至少列举两条）

解析：考查我国水资源的开发与利用。

(1)如图，北京位于平水带，台北位于丰水带。(2)我国水资源在地区分布上具有显著的不均衡性，具体表现为“东多西少，南多北少”的特点。(3)中线方案由汉江上游的丹江口水库引水，跨长江、淮河、黄河、海河四大流域，经河南、河北，一直流向北京、天津。

(4)华北地区的耕地占全国耕地的38%以上，且人口稠密，工业发达，需水量大，而水资源约占全国的6%，用水十分紧张，水土资源配合不协调。(5)节约生活用水的方法有用淘米水浇花；及时关闭水龙头或装节水龙头；用洗衣服水冲厕所；水龙头坏了及时修理等。故填：用淘米水浇花；及时关闭水龙头等。

答案：(1)台北

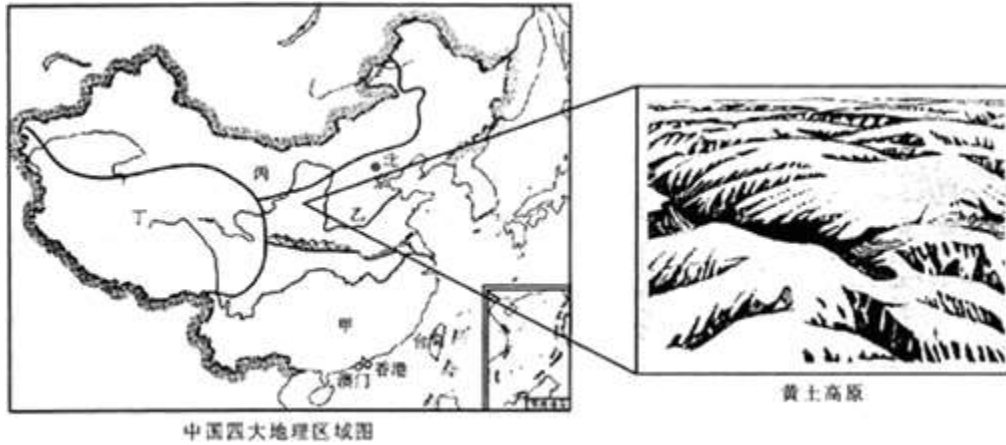
(2)东多西少，南多北少

(3)河北

(4)耕地多，人口稠密，工业发达，需水量大，而水资源少

(5)用淘米水浇花、及时关闭水龙头或装节水龙头。

30. 区域环境和区域发展影响人们的生活方式和生活质量。读图，回答下列问题。



- (1) 甲、乙两地区的地理分界线是_____。
- (2) 京剧、秦腔、信天游等传统文化主要分布在甲、乙、丙、丁中的_____地区。
- (3) 黄土高原地表形态的主要特征是_____。
- (4) 治理黄土高原水土流失的有效措施有哪些？

解析：本题考查我国四大地理区域的划分及特点。

读图可知，图中甲是南方地区，乙是北方地区，丙是西北地区，丁是青藏地区。(1)甲、乙两地区的地理分界线是秦岭—淮河；(2)京剧、秦腔、信天游等传统文化主要分布在乙北方地区；(3)黄土高原土质疏松，植被稀少，在夏季暴雨的冲刷下，水土流失严重；长期的水土流失，形成了高原黄土高原沟壑纵横的地表形态；(4)黄土高原水土流失严重，可采取的措施有：A. 植树种草等生物措施和建梯田、修挡土坝等工程措施相结合。(陡坡种草、缓坡建梯田) B. 除保留少量口粮田外，大量的退耕还林、还草、过度放牧的地方减少牲畜数量。

答案：(1) 秦岭—淮河

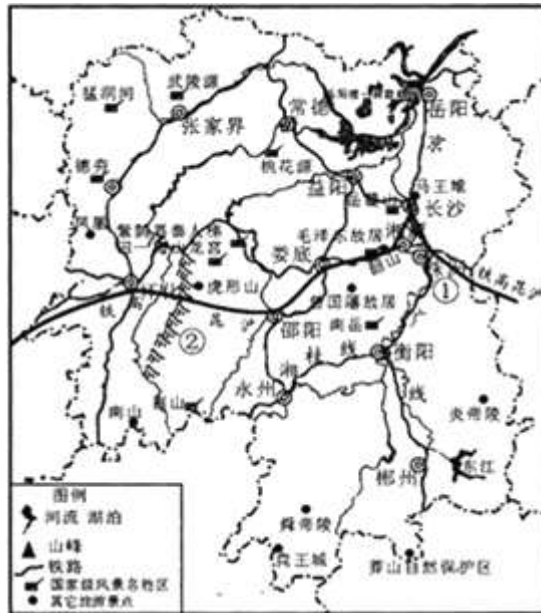
(2) 乙

(3) 沟壑纵横

(4) 植树种草等生物措施和建梯田、修挡土坝等工程措施相结合(陡坡种草、缓坡建梯田)；除保留少量口粮田外，大量的退耕还林、还草、过度放牧的地方减少牲畜数量。

31. 材料一 湖南历史悠久，文物古迹甚多，自然风光优美，民族风情独特，是国内外游人向往和流连之地，2014年，全省接待国内外旅游者4.12亿人次，实现旅游总收入3046.19亿元人民币，约占全省GDP的11%，2015年，湖南将大力推进以“美丽乡村”建设为重点的旅游富民工程。

材料二 湖南省旅游资源分布



(1) 湖南的 5A 级旅游区有_____。

- A. 崀山、岳麓山
- B. 凤凰古城、盘王城
- C. 岳阳楼、洞庭湖
- D. 武陵源、南岳

(2) 长沙—株洲（炎帝陵）—南岳—永州（舜帝陵）旅游线路属于_____。

- A. 名人故里旅游线
- B. 山水风光旅游线
- C. 寻根祭祖旅游线
- D. 民族风情旅游线

(3) 家住株洲的小明暑假乘坐沪昆高铁取怀化，参观芷江抗日受降纪念坊。他乘坐的高铁将横跨的河流①是_____，穿越的山脉②是_____。

(4) 从永州乘火车去郴州东江旅游，请写出所经过的铁路干线名称：

永州 线 线 衡阳 线 线 郴州

(5) 请你为建设“美丽乡村”提出两条合理化建设。

解析：本题考查湖南省。

(1) 湖南省国家 5A 级景区名录（7 家，截至 2014 年 12 月 18 日）：张家界武陵源旅游区、衡阳南岳衡山旅游区、湘潭韶山旅游区、岳阳（岳阳楼 - 君山岛）景区、长沙（岳麓山—橘子洲）旅游区、张家界天门山旅游区、宁乡花明楼刘少奇故里。(2) 炎帝和舜帝都是中华民族的始祖，长沙—株洲（炎帝陵）—南岳—永州（舜帝陵）旅游线路属于寻根祭祖旅游线。(3) 家住株洲的小明暑假乘坐沪昆高铁取怀化，参观芷江抗日受降纪念坊，他乘坐的高铁将横跨的河流①是湘江，穿越的山脉②是雪峰山。(4) 从永州乘火车去郴州东江旅游，经过的铁路干线名称：永州→衡阳——湘桂线，衡阳→郴州——京广线。(5) 建设美丽乡村的建议：①全民参与，让村民置身其中，只有这样，才会感到幸福的来之不易；②加快农业机械化建设，减轻农民的劳动负担，增强幸福感；③提高农副产品的价格，增加乡村劳动者的收入，让农民富裕起来；④加强福利保障，提高农民对未来的憧憬；⑤多建些游乐健身设施，多建几个公园，让农民也过上城市人的生活。

答案：(1)D

(2)C

(3)湘江 雪峰山

(4)永州→衡阳——湘桂线，衡阳→郴州——京广线

(5)①全民参与，让村民置身其中，只有这样，才会感到幸福的来之不易；②加快农业机械化建设，减轻农民的劳动负担，增强幸福感。