

2017年海南省中考真题地理

一、选择题（共 35 题，每题 2 分，共 70 分）在每题给出的四个选项中，选出一项最符合题目要求的选项。

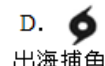
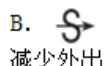

1. 2017 年 1 月 28 日（除夕）22 时，全球华人同步参与央视春晚微信抢红包，法国巴黎的华人同时参与则是当地时间 14 时，造成这种时间差异的主要原因是（ ）

- A. 四季的变化
- B. 月球公转
- C. 地球公转
- D. 地球自转

解析：本题考查地球自转产生的地理意义。地球自转产生的地理意义除了昼夜交替之外，还有时间的差异。随着地球的自转（自西向东），同一纬度地区，东边的时间早于西边的时间，所以 2017 年 1 月 28 日（除夕）22 时，全球华人同步参与央视春晚微信抢红包，法国巴黎的华人同时参与则是当地时间 14 时。

答案：D

2. 如图天气符号代表的天气与我们的生产生活组合合理的是（ ）



解析：本题主要考查常用的天气预报符号的解读。读图可知：A 表示的天气是暴雨，不适合野外露营；B 表示的天气是沙尘暴，应减少外出；C 表示的天气是雷雨，不适合室外踢球；D 表示的天气是台风及其中心，不适合出海捕鱼；答案项 B 符合题意。

答案：B

2017 年 6 月 4 日，美国总统特朗普访问沙特阿拉伯。完成下列各题。

3. 随行翻译除了母语外，还应精通的语言是（ ）

- A. 英语
- B. 法语
- C. 西班牙语
- D. 阿拉伯语

解析：本题考查世界不同语言的分布。西亚的沙特阿拉伯主要的语言是阿拉伯语，随行翻译除了母语外，还应精通的语言是阿拉伯语。

答案：D

4. 随行人员看到最多的宗教建筑物是（ ）

- A. 教堂
- B. 清真寺
- C. 寺庙
- D. 佛塔

解析：本题考查世界三大宗教的分布及宗教建筑等。西亚和北非地区多为阿拉伯国家，被称为“阿拉伯的世界”，多讲阿拉伯语，多信奉伊斯兰教。沙特阿拉伯位于西亚地区，多为阿拉伯民族，普遍信仰伊斯兰教，伊斯兰教的典型宗教建筑是清真寺。

答案：B

5. 下列事实能证明海陆变迁的是（ ）

- A. 太阳东升西落
- B. 四季变化
- C. 钱塘江的潮涨潮落
- D. 台湾海峡的形成

解析：本题考查海陆变迁现象。台湾海峡在漫长的地质时期里，经历了多次的沧桑变化。大约在 7000 万年前，台湾海峡还是华夏古陆边缘的海槽。到了距今 4000 万年时，受到喜马拉雅造山运动的影响，这里便从海槽上升变成陆地，台湾岛与大陆相连。那时，海峡地区是一片平原。从这以后，海峡地区有时候升起，有时被水分开。距今约 1.5 万年时，我国正处在大理冰期，冰川扩大，海平面下降，海峡又变成陆地，生长着茂盛的野草和森林，遍地是成群的牛、马和羊群，猛犸象也跑到这里寻食。这种光景过了约 5000 年，在距今 1 万年时，气候又变暖了，冰川融化，海平面再次上升，海峡又由“风吹草低见牛羊”的草原，变为鱼虾欢游的海洋。直到今天，还是波涛汹涌。台湾海峡的形成充分证明了海陆变迁，选项 D 符合题意。太阳东升西落是地球自转产生的，四季变化是由地球公转产生的，钱塘江的潮涨潮落都不属于海陆变迁，选项 ABC 不符合题意。

答案：D

6. 快递包装产生大量的包装纸、不可降解的胶带和塑料袋，由此带来的环境污染问题日益突出，下列做法能减少该问题的是（ ）

- ①适度包装
- ②用可降解的胶带和塑料袋包装
- ③分类回收
- ④随意使用包装盒

- A. ①②③
- B. ②③④
- C. ①③④
- D. ①②④

解析：快递包装产生大量的包装纸、不可降解的胶带和塑料袋，由此带来的环境污染问题日益突出，能减少该问题的是：①适度包装，②用可降解的胶带和塑料袋包装，③分类回收；④随意使用包装盒会造成环境污染，还浪费资源；答案项 A 符合题意。

答案：A

读美国本土图（如图），完成下列各题。



7. 图中阴影部分表示的农业带是（ ）

- A. 乳畜带
- B. 小麦区
- C. 玉米带
- D. 棉花带

解析：本题考查了美国农业带的分布。美国每个地区根据自然条件和经济条件，重点发展一种和几种农产品的专门化生产，在不同地区形成了不同的农业带。读图可知，图中阴影部分是乳畜带。

答案：A

8. 从图中的信息可知（ ）

- A. 美国地势东高西低
- B. 美国平原狭小，山脉众多
- C. 美国最长的河流自北向南流

D. 五大湖全在美国境内

解析：美国地势东西高，中间低；美国中部为大平原，平原面积广阔；美国最长的河流是密西西比河，密西西比河自北向南注入墨西哥湾；五大湖中，只有密歇根湖在美国境内。

答案：C

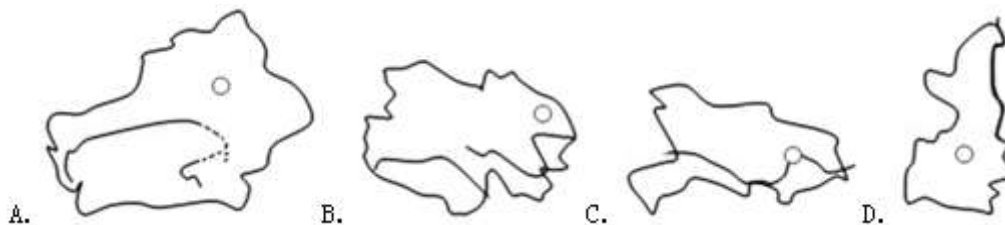
9. 假期，小玲到五指山区登山，发现山上气温比山下低，其成因是（ ）

- A. 经度差异
- B. 纬度差异
- C. 海拔差异
- D. 海陆差异

解析：考查地形地势对气候的影响。地势对气候的影响，主要表现为随着地势的增高，气温降低。一般情况下，每增高 100 米，气温约下降 0.6℃。五指山海拔高，气温低，气候出现垂直地带性规律，导致植被分布出现垂直变化。这也是形成一些高山“一山有四季”、山顶积雪终年不化的主要原因。

答案：C

10. 央视热播的《航拍中国》纪录片中展示的坎儿井、棉田、零星分布在山麓的绿洲等画面，其航拍地是（ ）



解析：本题考查我国不同省区的轮廓。读图可得，A 是新疆维吾尔自治区，B 是青海省，C 是湖北省，D 是陕西省。坎儿井是新疆维吾尔自治区古老的一种灌溉工程，故 A 正确。

答案：A

11. 2017 年，我国自主研发的“神威·太阳之光”超级计算机再次占据全球超算榜首，影响该高新技术发展的主要因素是（ ）

- A. 交通、资源
- B. 人才、技术
- C. 市场、土地
- D. 劳动力、矿产

解析：本题考查高新技术发展的影响因素。决定高新技术产业发展的主要因素是人才、技术。

答案：B

2017 年 5 月 18 日，我国在南海首次成功试采可燃冰。读图，完成下列各题。



12. 我国成功试采可燃冰的海域是图中的 ()

- A. 甲
- B. 乙
- C. 丙
- D. 丁

解析：本题考查了我国的临海。读图可知：我国自北向南濒临的海洋依次为：甲是渤海、乙是黄海、丙是东海、丁是南海；我国成功试采可燃冰的海域是图中的丁南海。答案项 D 符合题意。

答案：D

13. 下列关于我国海洋国土的说法，正确的是 ()

- A. 约有 300 万平方千米的管辖海域
- B. 四大边缘海中，面积最大的是东海
- C. 钓鱼岛是中沙群岛面积最大的岛屿
- D. 黄岩岛是三沙市的行政中心

解析：我国管辖的海域面积约是 300 万平方千米，故 A 正确。我国是世界上重要的海洋大国。大陆海岸线长达 1.8 万多千米，从北到南，濒临的海洋依次是渤海、黄海、东海和南海，其中南海是我国面积最大的边缘海，故 B 错误。中沙群岛中面积最大的岛屿是黄岩岛，故 C 错误。三沙市的行政中心设在永兴岛上，故 D 错误。

答案：A

14. 下列符合海洋渔业可持续发展举措的是 ()

- ① 季节休渔
 - ② 清除珊瑚礁
 - ③ 投放人工鱼礁
 - ④ 增殖放流
- A. ①②③
 - B. ①②④
 - C. ①③④
 - D. ②③④

解析：根据可持续发展的概念，季节休渔、投放人工鱼礁、增殖放流符合可持续发展思想，故 C 符合题意；清除珊瑚礁不符合可持续发展的思想。

答案：C

15. 海南夏季应重点防范的灾害性天气是 ()

- A. 台风
- B. 寒潮
- C. 沙尘暴
- D. 地震

解析：本题考查的是我国的特殊天气。台风是极猛烈的热带气旋。主要影响我国的东南沿海地区，如福建、广东、台湾、海南等。袭击我国的台风常发生在 5—10 月，尤以 7—8 月为多。

答案：A

16. 我国少数民族中，吃糌粑、喝酥油茶、献哈达、赛牦牛的民族是 ()

- A. 壮族
- B. 藏族
- C. 傣族
- D. 苗族

解析：本题考查了独特的民族风情。献哈达，喝青稞酒，吃糌粑、牦牛肉，跳锅庄舞是我国藏族的风土人情，藏族主要分布在青藏地区，该地区主要的自然环境特点是高寒，主要的粮食作物是青稞。

答案：B

2017年4月，中共中央、国务院决定设立雄安新区，其地处北京、天津、河北保定腹地，现有开发程度较低，能集中疏解北京非首都功能。完成下列各题。



17. 有关雄安新区开发的叙述，正确的是（ ）

- ①毗邻京津地区，交通便利
- ②缓解北京城市压力
- ③现有开发程度较低
- ④原有工业基础好

- A. ①②③
- B. ②③④
- C. ①③④
- D. ①②④

解析：雄安新区规划范围涉及河北省雄县、容城、安新3县及周边部分区域，地处北京、天津、保定腹地，区位优势明显、交通便捷通畅、生态环境优良、资源环境承载能力较强，现有开发程度较低，发展空间充裕，具备高起点高标准开发建设的基本条件。该新区建立后，将疏解分散北京的非首都功能，缓解北京城市压力，解决“大城市病”的各种问题。

答案：A

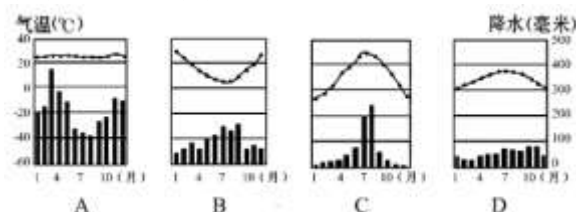
18. 制约京津冀农业生产的主要自然因素是（ ）

- A. 土壤
- B. 光照
- C. 荒漠化
- D. 水资源

解析：干旱是对我国农业生产影响最大、最常见且分布范围最广的一种气候灾害。尤其是华北地区春季，夏季风刚开始登陆我国南部地区，尚未到达华北地区，故很难形成降水。我国华北平原的耕地占全国耕地的38%以上，且人口稠密，工业发达，需水量大，而水资源约占全国的6%，用水十分紧张，水土资源配合不协调。因此，影响华北地区（京津冀）农业生产的最大问题是水资源不足，根据题意，选项D符合。

答案：D

19. 图中，能正确反映京津冀地区气候特征的是（ ）



A. A

- B. B
- C. C
- D. D

解析：本题主要考查气温曲线和降水柱状图的判读。从气温曲线和降水柱状图可以看出，C地夏季高温多雨，冬季寒冷干燥，属于温带季风气候。北京市是温带季风气候，答案项C符合题意。

答案：C

20. 假如你是一名导游，你向游客推荐具有海南特色的水果是（ ）

- A. 红枣
- B. 椰子
- C. 苹果
- D. 猕猴桃

解析：枣、苹果和猕猴桃是北方地区主要的水果，椰子是海南省主要的水果。

答案：B

2017年3月22日是第二十五届“世界水日”主题是“废水”，完成下列各题。

21. 下列关于我国水资源的叙述，正确的是（ ）

- A. 水资源丰富，无需节水
- B. 水资源分布不均，南多北少
- C. 西北地区水资源丰富
- D. 北方地区人均水资源居全国首位

解析：本题主要考查我国水资源的特点。我国水资源缺乏，节水很有必要；我国水资源的空间分布不均，具体表现为“东多西少，南多北少”；西北地区水资源缺乏；北方地区用水紧张，人均水资源居占有量很少。

答案：B

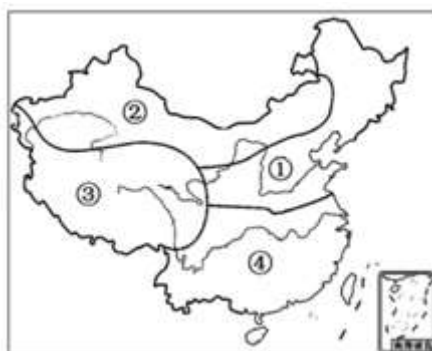
22. 在生产生活中，下列水资源利用方式可取的是（ ）

- A. 一水多用，废水利用
- B. 大水漫灌农田
- C. 直接排放废水
- D. 大量使用地下水

解析：考查水资源的开发与利用。我国水资源的时空分布也不够理想，加之一部分水资源受到污染和破坏，能够有效利用的水资源就更少。有些地区因地下水过度开采，造成地下水位下降，进而加剧了用水的困难程度。节约用水，合理用水，保护水资源，防治水污染，提高水资源的利用效率，是缓解缺水问题的有效途径。比如，在农业生产中更多地采用滴灌等节水灌溉模式替代大水漫灌，将处理过的生活污水用于浇灌绿地、冲洗厕所、浇洒道路等，做到一水多用。总之，我们要为建立“节水型社会”付出更多的努力。

答案：A

读我国四大地理区域图，完成下列各题。



23. 下列与①④两区域界线大致一致的是 ()

- A. 种植业与畜牧业的界线
- B. 湿润区与半湿润区的界线
- C. 热带与亚热带的界线
- D. 一月份 10℃等温线

解析：本题考查四大地理区域的划分及界线。图中①地区即南方地区，④地区是北方地区，南方地区与北方地区的分界线是秦岭、淮河一线，该界线是湿润地区与半湿润地区的分界线，一月份 0℃等温线通过的地方，是暖温带与亚热带的分界线；种植业与畜牧业的界线大致为 400mm 年等降水量线，选项 ACD 叙述错误，不符合题意。

答案：B

24. 下列关于四大地理区域的说法，正确的是 ()

- A. ①区耕地以水田为主
- B. ②区普遍种植油菜和玉米
- C. ③区是我国许多大河的发源地
- D. ④区沙尘暴气象灾害频发

解析：考查我国四大地理区域的概况。A、①北方地区耕地以旱地为主，主要粮食作物是小麦。故 A 不符合题意；B、②位于西北地区，广泛种植小麦、甜菜等。油菜主要分布于我国的长江流域。故 B 不符合题意；C、③青藏地区是亚洲众多大江大河的源头，长江、黄河、澜沧江、雅鲁藏布江、恒河、印度河都发源于这里。故 C 符合题意；D、④南方地区气象灾害主要是梅雨、台风、洪涝、干旱等，而沙尘暴主要发生于北方地区和西北地区。故 D 不符合题意。

答案：C

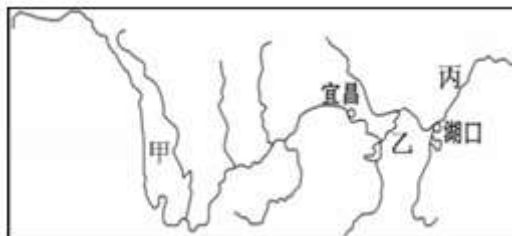
25. 我国地域经济发展各具特色，下列叙述正确的是 ()

- A. 香港经济以博彩业为主
- B. 东北地区是我国重要的重工业基地
- C. 澳门转口贸易发达
- D. 台湾工业集中分布在东部地区

解析：本题考查我国不同地区的经济发展特点。香港是著名的自由港，对外贸易一向是香港的主导产业。目前，香港是世界上第八大贸易区和重要的商品转口港。故 A 错误。东北地区矿产资源丰富，是我国重要的重工业基地，故 B 正确。澳门的主要经济支柱有博彩、旅游、工业、建筑业等，故 C 错误。台湾工业集中分布在西部地区，故 D 错误。

答案：B

读长江流域图，完成下列各题。



26. 下列关于长江各河段水文特征的叙述，正确的是 ()

- A. 甲河段水流平缓，航运发达
- B. 乙河段水量锐减，水能丰富
- C. 丙河段江阔水深，航运价值高
- D. 长江流域支流稀少

解析：本题考查长江的水文特征。甲河段位于上游，水能资源丰富，不利于航运，故 A 错误；乙河段位于中游，水量增加，故 B 错误；丙下游河段江阔水深，航运价值高，C 正确；长江流量大、流域面积广，支流多，故 D 错误。

答案：C

27. 治理长江的主要措施是（ ）

- ①修建水库
 - ②围湖造田
 - ③疏通河道
 - ④清除蓄洪区
- A. ①③
B. ②③
C. ①②
D. ②④

解析：考查长江的开发与治理。长江中下游地区是洪涝灾害较为严重的地区。下面列举了长江中下游地区洪灾频发的一些重要原因，请提出相应的防洪对策。

原因	防洪对策
上游水土流失是导致中下游地带洪涝灾害加剧的重要原因之一	①植树造林
中游围湖造田使天然湖泊面积减少，蓄洪能力降低	②退耕还湖
中下游地区降水量大且集中，多暴雨	③修建水库、疏通河道
中游河道弯曲，泥沙淤积严重，泄洪不畅	④裁弯取直

答案：A

28. 横跨我国东、西部，连接大西洋沿岸的“第二亚欧大陆桥”在我国境内的铁路是（ ）

- A. 京哈—京广线
- B. 沪昆线
- C. 陇海—兰新线
- D. 京沪线

解析：本题考查第二亚欧大陆桥在我国境内的铁路名称。第二大陆桥是一条连接太平洋和大西洋的铁路，东起中国的连云港，西到荷兰的鹿特丹，1990年9月12日，举世瞩目的第二亚欧大陆桥宣布全线贯通，在我国境内是由陇海—兰新线构成，即从连云港到兰州，再到乌鲁木齐和阿拉山口。

答案：C

读图，完成下列各题。



29. 下列关于北极地区的叙述，正确的是（ ）

- A. 居住在这里的因纽特人为白种人
- B. 从北极上空看地球自转方向是顺时针
- C. 6月22日可以看到美丽的极光
- D. 北极地区科考最佳时间是7~8月

解析：考查极地的概况。A、黄色人种主要分布在亚洲东部，美洲印第安人和北冰洋沿岸的因纽特人（过去叫爱斯基摩人）也属于黄色人种。故A不符合题意；B、地球自转的方向是自西向东。在北极上判定地球自转的方向为逆时针，在南极上判定地球自转的方向为顺时针。故B不符合题意；C、6月22日是北半球的夏至日，北极地区的极昼现象，不可能出

现极光。故 C 不符合题意；D、北极地区科考最佳时间是 7~8 月，此时是北半球的夏季，北极地区气温较高，适合科考。故 D 符合题意。

答案：D

30. 图中甲的经纬度是 ()

- A. (80° N, 120° E)
- B. (80° N, 150° E)
- C. (80° N, 150° W)
- D. (80° S, 60° W)

解析：本题考查经纬网的判读。读图分析可知，此图是以北极点为中心的经纬网图。从纬度看，甲点位于 80° N 纬线上，因此纬度为 80° N；从经度看，甲点位于 150° W 经线上，因此经度为 150° W。所以甲的经纬度是 80° N, 150° W。

答案：C

31. 有关亚洲的叙述，正确的是 ()

- A. 均位于东半球
- B. 地跨寒、温、热三带
- C. 有“高原大陆”之称
- D. 有世界最大的淡水湖

解析：本题考查亚洲的特点。亚洲主要位于东半球，故 A 错误；亚洲地跨寒温热带，故 B 正确；非洲有高原大陆之称，故 C 错误；世界上最大的淡水湖是北美洲的苏必利尔湖，故 D 错误。

答案：B

32. 海南依托碧海蓝天、滨海沙滩等发展的产业是 ()

- A. 畜牧业
- B. 钢铁工业
- C. 旅游业
- D. 采矿业

解析：此题考查了海南省的主要产业。海南省全部位于热带，是我国热带作物种植基地；海南依托天涯海角、蓝天碧海、沙滩椰林，风景秀丽发展旅游业，是我国最重要的热带风光旅游胜地，旅游业发达。

答案：C

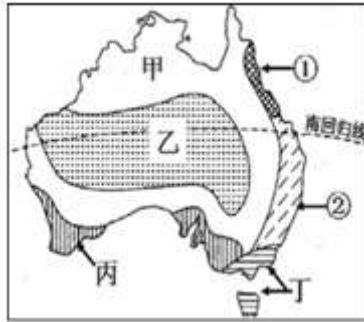
33. 2017 年世界环境日中国主题是：“绿水青山就是金山银山”，下列行为符合该主题的是 ()

- A. 砍伐森林，获取木材
- B. 焚烧垃圾，美化环境
- C. 烧山垦荒，获取粮食
- D. 植树种草，保持水土

解析：本题考查保护环境的措施。正确处理好人口、资源、环境之间的关系，使我国可持续发展能力不断增强，生态环境得到改善，经济得以发展，因此说“绿水青山就是金山银山”。植树种草，保持水土有助于保护环境；ABC 选项叙述都会破坏环境；答案项 D 符合题意。

答案：D

读澳大利亚气候类型分布图，完成下列各题。



34. 图中①②气候类型呈狭长分布的主要影响因素是 ()

- A. 纬度因素
- B. 西风的影响
- C. 地形因素
- D. 人类活动的影响

解析：该题主要考查的是澳大利亚的气候特征。澳大利亚地形分为三大部分，西部是低矮的高原，中部是平原，东部是大分水岭。由于大分水岭为南北走向，来自太平洋的湿润空气仅能到达东部沿海地区。所以图中①、②两种气候类型呈南北狭长分布的主要影响因素是（大分水岭）地形地势。

答案：C

35. 某农场主计划从英国引种多汁牧草，应选择的地点是 ()

- A. 甲
- B. 乙
- C. 丙
- D. 丁

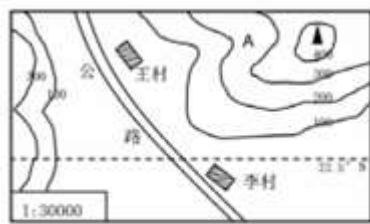
解析：考查澳大利亚的气候分布特点。多汁牧草的生长需要温和湿润的气候条件，读图可知，丁地为温带海洋性气候，适合多汁牧草的生长。

答案：D

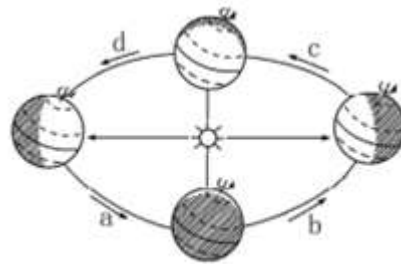
二、非选择题共 3 题，每题 10 分，共 30 分。

36. (10 分) “五一”假期，我国南方某校学生开展地理野外实践活动，实践地为图甲。

读图，完成下列要求。



甲



乙

(1) 画出甲图的线段式比例尺_____。

解析：本题考查等高线地形图的判读。读图分析可知：比例尺有数字式、线段式、文字式三种表现形式。从图中可以看出，该图的比例尺为 1: 30000。

答案：

(2) 地形部位：A 是_____；李村位于王村的_____方。

解析：依据等高线地形部位的判读，图中 A 是山谷。没有指向标与经纬网的地图，通常采用“上北下南，左西右东”的规定确定方向。可判定，李村位于王村的东南方。

答案：山谷 东南

(3)活动期间，地球运行在乙图中的位置是_____段，此时当地昼夜长短状况是_____。
王、李两村中有太阳直射现象的是_____。

解析：五一期间，地球运行在春分日与夏至日之间，位于乙图中的d段，此时当地昼夜长短状况是昼长夜短。王、李两村中，李村位于北回归线以南，位于热带，有太阳直射现象。
答案：d 昼长夜短 李村

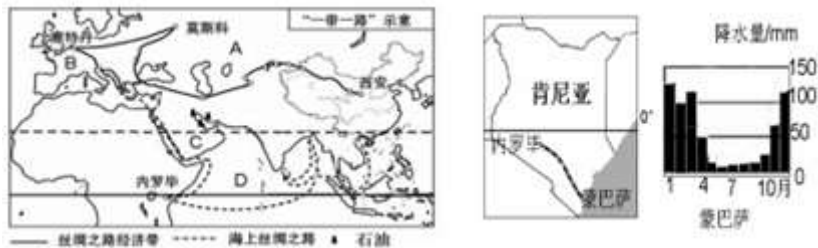
(4)同学们考查发现，当地耕地类型是_____，主要粮食作物是_____，两村落选址的共同自然条件是_____。

解析：我国南方地区的耕地类型主要是水田，主要粮食作物是水稻。从图中可以看出，甲乙两村落选址的共同自然条件是地形平坦，交通便利。

答案：水田 水稻 地形平坦，交通便利

37. (10分) 读图文材料，回答下列问题。

材料：由中国倡导的“一带一路”是指丝绸之路经济带和21世纪海上丝绸之路，此倡议提出以来，大批合作项目稳步推进。2017年5月31日，中国和肯尼亚合作的“蒙内铁路”(蒙巴萨-内罗毕)正式通车。



(1)丝绸之路经济带经过A地区的气候类型是_____，B地区的地形以_____为主，从经济发展水平看，该地大多属于_____国家。

解析：读图可得，A位于亚欧大陆内部，B是欧洲，C是阿拉伯半岛，D是印度洋。亚欧大陆南部主要属于温带大陆性气候，欧洲的地形以平原为主，从经济发展水平看，该地大多属于发达国家。

答案：温带大陆性气候 平原 发达

(2)C半岛河流稀少的主要原因是_____，本地区丰富的石油资源主要分布在_____及沿岸地区。

解析：阿拉伯半岛河流稀少的主要原因是气候干旱，降水稀少，蒸发旺盛，主要属于热带沙漠气候，本地区丰富的石油资源主要分布在波斯湾及沿岸地区。

答案：气候干旱，降水稀少，蒸发旺盛 波斯湾

(3)蒙巴萨濒临的大洋D是_____，从蒙巴萨到鹿特丹最便捷的海上运输是经_____运河的航线，蒙内铁路开通时，蒙巴萨属于_____ (填“湿季”或“干季”)，我国和肯尼亚的互助合作称为_____。

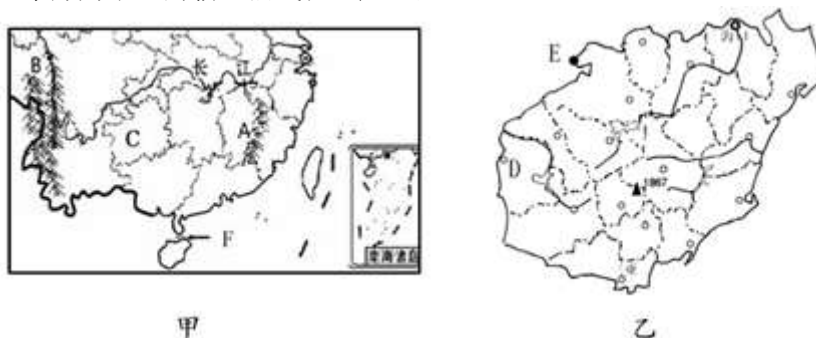
解析：D是印度洋，从蒙巴萨到鹿特丹最便捷的海上运输是经苏伊士运河的航线，蒙内铁路开通时，蒙巴萨属于干季，此时高温少雨，我国和肯尼亚都属于发展中国家，两个国家的互助合作称为南南合作。

答案：印度洋 苏伊士 干季 南南合作

38. (10分) 读图文材料，完成下列各题。

材料一：石漠化是指喀斯特山区土层薄，基岩出露浅，暴雨冲刷强，大量的水土流失后岩石逐渐凸显裸露，由于人类不合理的活动，植被破坏，水土流失，岩石逐渐裸露的演变过程。

材料二：南海不仅蕴藏着丰富的常规油气资源，而且富集非常规的可燃冰资源，开发前景十分广阔。省第七次党代会指出：“海南发展的最大潜力是要加快海洋油气产业发展，做强以洋浦、东方为中心的临港油气化工产业基地。



(1) A 是_____山脉，B 山脉以西是我国地势的第_____级阶梯。

解析：读图可知，A 是武夷山脉，B 是横断山脉，该山脉以西是我国地势的第一级阶梯青藏高原。

答案：武夷 一

(2) C 省的简称是_____，该省石漠化严重，其自然原因是_____。

解析：C 省是贵州省，其简称是贵或黔，该省由于经常遭受暴雨的冲刷，石漠化较严重。

答案：贵或黔 暴雨冲刷强烈或山区土层薄

(3) 图甲中 F 是_____海峡，乙图中 D 是_____市，E 港口是_____，海南发展油气化工产业的有利条件是_____（从资源、交通方面分析）。

解析：图甲中 F 是琼州海峡，是我国的内海；乙图中 D 是海南省东方市，E 港口是洋浦，海南油气资源丰富，海云便利，为发展油气化工产业提供了有利条件。

答案：琼州 东方 洋浦 油气资源丰富，海云便利