

2012 年普通高等学校招生全国统一考试（天津卷）

文科综合地理部分

文科综合共 300 分，考试用时 150 分钟。

地理试卷分为第 I 卷（选择题）和第 II 卷（非选择题）两部分，第 I 卷 1 至 4 页，第 II 卷 5 至 6 页，共 100 分。

答卷前，考生务必将自己的姓名、准考证号填写在答题卡上，并在规定位置粘贴考试用条形码。答卷时，考生务必将答案涂写在答题卡上，答在试卷上的无效。考试结束后，将本试卷和答题卡一并交回。

祝各位考生考试顺利！

第 1 卷

注意事项：

1. 每题选出答案后，用铅笔将答题卡上对应题目的答案标号涂黑。如需改动，用橡皮擦干净后，再选涂其他答案标号。
2. 本卷共 11 题，每题 4 分，共 44 分。在每题给出的四个选项中，只有一项是最符合题目要求的。

读城市水循环示意图（图 1），回答第 1 题。




图 1

在城镇建设中，提倡用透水材料铺设“可呼吸地面”代替不透水的硬质地面。

1. 采用“可呼吸地面”之后，图 1 中四个环节的变化符合实际的是
- A. a 增加
 - B. b 增加
 - C. c 减少
 - D. d 减少

读某区域等高线地形图（图2），回答2~3题。

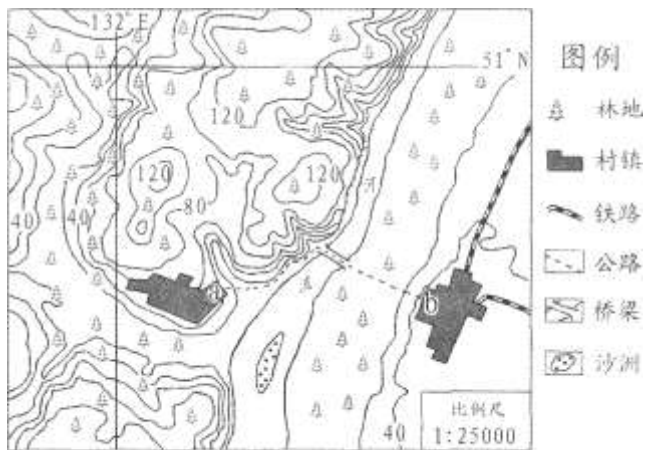


图2

2. 依据因地制宜的原则，图2所示区域最适宜发展的产业部门是
 - A. 水产品养殖
 - B. 棉花种植
 - C. 林产品加工
 - D. 水力发电
3. 在图2所示的区域中，a~b路段容易遭受自然灾害，主要是由于沿线
 - A. 山体坡度大
 - B. 地表崎岖不平
 - C. 河水流速快
 - D. 泥沙淤积严重

高雄矿产资源匮乏，工业部门主要有石化、炼油、钢铁、造船、食品等。读高雄城市空间结构示意图（图3），回答4-5题。

4. 对该城市功能区布局的评价，正确的是
 - A. 商业区高度集中，缩小了服务范围
 - B. 住宅区远离海岸，避免了海洋污染
 - C. 工业区相对集中，方便了企业联系
 - D. 文教区过于分散，降低了服务功能
5. 高雄的石化工业最适宜布局在图3中的
 - A. a地
 - B. b地
 - C. c地
 - D. d地



图3

第30届奥运会将于2012年7月27日19点12分（零时区区时）在伦敦开幕。结合图文材料，回答6-7题。

6. 各国学生若计算在本地观看奥运会开幕式现场直播的日期、时刻，可依据图4中的

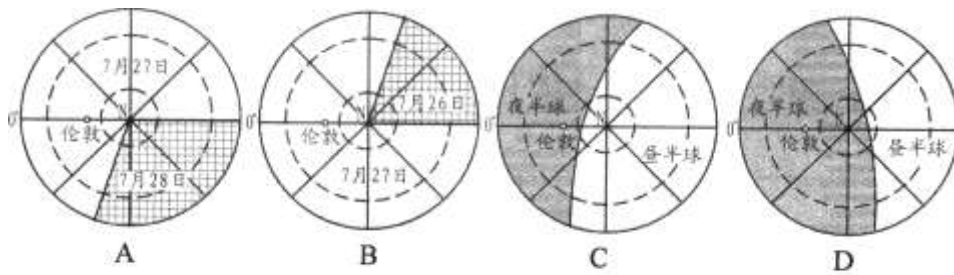


图4

7. 伦敦奥运会开幕当天, 下列国家中白昼最长的是

- A. 菲律宾
- B. 巴西
- C. 新西兰
- D. 英国

读亚洲部分地区四个季度平均气温分布图(图5), 回答8~9题。

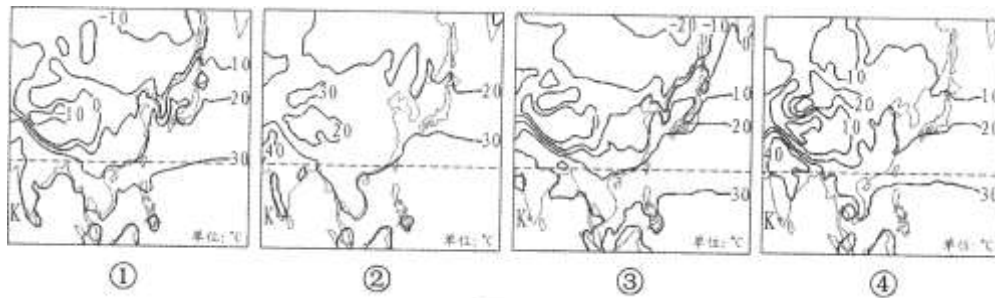


图5

8. 据图5气温分布状况判断, 四幅图由第一季度到第四季度的正确排序是

- A. ①→②→③→④
- B. ①→②→④→③
- C. ③→④→②→①
- D. ③→①→②→④

9. 下列气候统计图中, 反映了图5中K城市气候特征的是

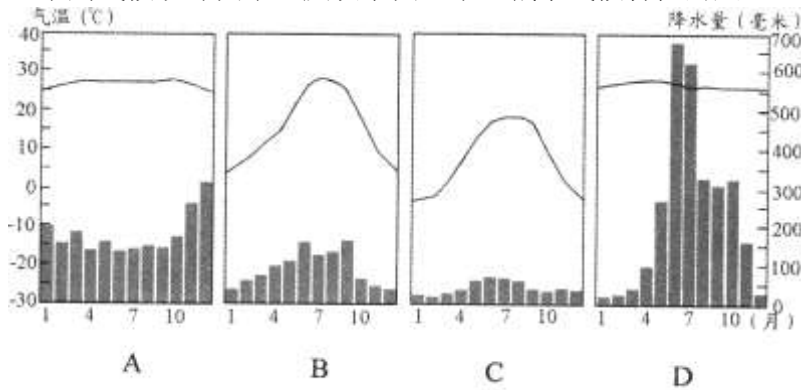


图6

读部分地理事物数量的纬度差异示意图(图7), 回答10—11题。

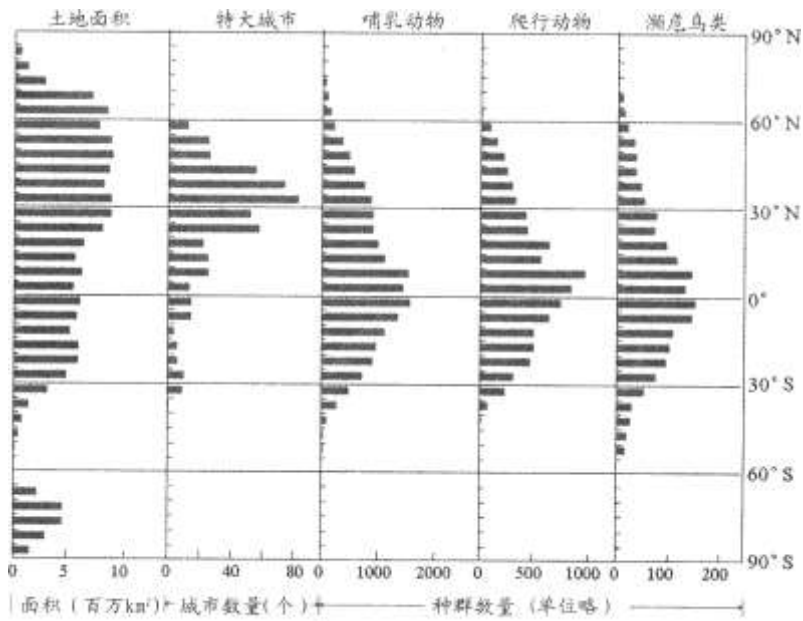


图 7

10. 下列叙述, 符合图 7 所示的动物种群数量分布规律的是
- A. 南半球的种群数量多于北半球
 - B. 信风带的种群数量多于西风带
 - C. 低纬地区的种群数量少于中纬地区
 - D. 森林地带的种群数量少于草原地带
11. 结合图 7 中的信息判断, 世界特大城市数量纬度差异的形成, 主要由于
- A. 气候、土地资源的差异
 - B. 生物、土地资源的差异
 - C. 矿产、生物资源的差异
 - D. 气候、矿产资源的差异

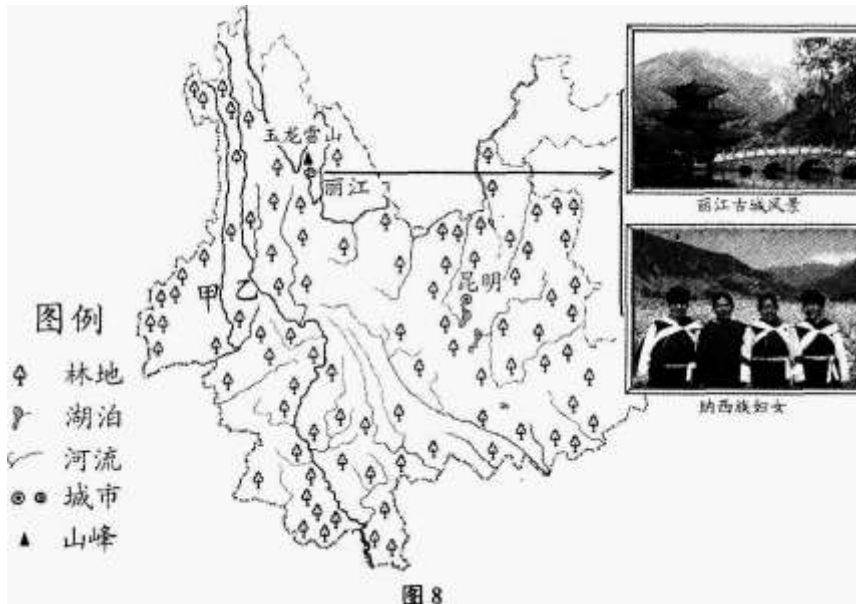
2012年普通高等学校招生全国统一考试（天津卷）
文科综合地理部分

第II卷

注意事项：

1. 用黑色墨水的钢笔或签字笔将答案写在答题卡上。
2. 本卷共2题，共56分。

12. (26分) 读图文材料，回答问题。



- (1) 云南省西北部地形分布的特点是_____。请说明判断的理由。(6分)
近三年来，云南省遭受了持续特大干旱。
- (2) 面对特大干旱，该省林区应特别重视防御的次生灾害是_____。(2分)
- (3) 应对持续干旱，该省农业持续发展应采取哪些措施？请列举两项。(6分)
甲、乙两河在云南省境内的干支流有已建、在建水电站几十座。
- (4) 当地居民对水电站的建设持有支持、反对两种观点。请你为这两种观点各找一条理由。(6分)
支持的理由：_____；
反对的理由：_____。

丽江古城是纳西族人的聚居地，纳西族文化在此已有千余年的历史。

(5) 据图 8 说明，丽江古城的纳西族文化主要体现在____等方面。古老的纳西族文化在丽江得以保存的自然条件是_____。(6分)

13. (30分) 读图文材料，回答问题。

二氧化碳排放是全社会关注的热点问题。

(1) 图 9 中甲省的单位 GDP 二氧化碳排放量高于全国平均水平，为什么？请列举两条原因。(6分)

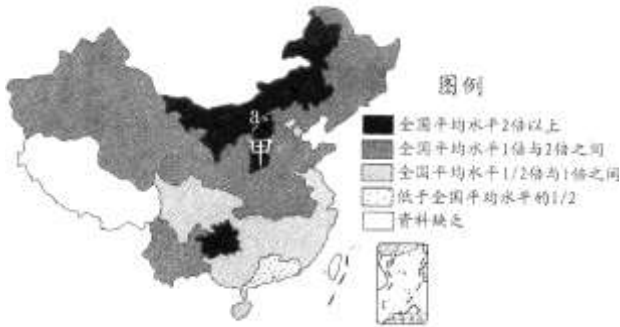
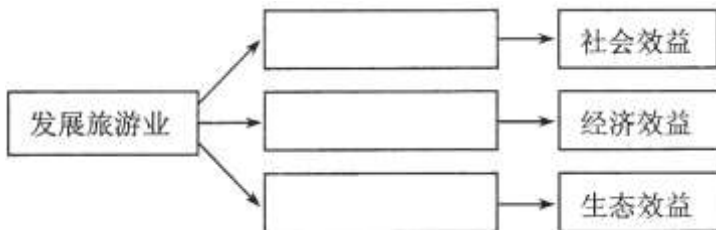


图 9 我国单位 GDP 二氧化碳排放量分布示意图

a 城市应对矿产资源枯竭问题，更加重视发展旅游业。

(2) 请填表说明，发展旅游业对促进 a 城市持续发展的作用。(9分)



某地理小组的学生考察了中国与新加坡合建的中新天津生态城。

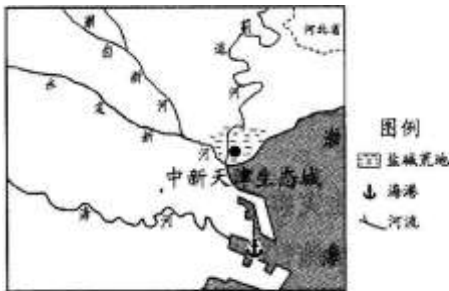


图 10 中新天津生态城位置示意图

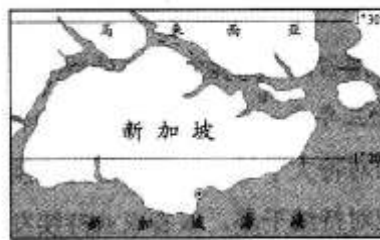


图 11 新加坡位置图

(3) 学生发现，生态城所在地有多项可利用的自然资源。请据图 10 列举三项。(9分)

(4) 有学生认为，新加坡重视环保，利用太阳能、风能发电应当很普遍。经过探究，大家认识到新加坡的太阳能、风能并不丰富。请参考图 11 说明原因。(6分)

2012年普通高等学校招生全国统一考试（天津卷）

文科综合地理部分参考答案

I 卷共 11 题，每题 4 分，共 44 分。

1. B 2. C 3. A 4. C 5. D 6. A 7. D 8. C 9. D
10. B 11. A

II 卷共 2 题，共 56 分。

12. (26 分)

(1) 山脉纵列分布（地势北高南低）。河流纵列分布（河流自北向南流）。

(2) 森林火灾（病虫害）。

(3) 修建农田水利设施；寻找地下水；采用耐旱作物品种；调整农业生产结构；发展节水农业。（答出其中两项即可）

(4) 支持的理由：获得能源（扩大就业；增加收入；提高抗旱能力）。

反对的理由：当地属于地震多发区，若水库遭破坏，可能导致洪涝灾害（水库可能诱发地质灾害；破坏当地生物资源；导致当地居民迁移）。

(5) 建筑（服饰；民俗）。地形较闭塞（周边山高谷深；当地水热条件较好）。

13. (30 分)

(1) 甲省是全国能源基地（多火电厂；重工业或耗能工业比重大；第二产业比重大），二氧化碳排放量大；甲省经济发展水平较低（以传统产业部门为主），GDP 相对较低。

(2) 社会效益：提供就业岗位（促进文化交流；促进社会文明程度的提高）。

经济效益：带动相关产业发展（增加收入；优化产业结构）。

生态效益：改善环境质量。

(3) 荒地资源；水资源；海洋资源；风能、太阳能资源。（答出其中三项即可）

(4) 新加坡终年受赤道低气压控制，盛行上升气流，云量多，光照少；终年盛行上升气流，近地面风力小。

2012年普通高等学校招生全国统一考试（天津卷）

文科综合历史部分

文科综合共 300 分，考试用时 150 分钟。

历史试卷分为第 I 卷（选择题）和第 II 卷（非选择题）两部分，第 I 卷 1 至 3 页，第 II 卷 4 至 6 页，共 100 分。

答卷前，考生务必将自己的姓名、准考证号填写在答题卡上，并在规定位置粘贴考试用条形码。答卷时，考生务必将答案涂写在答题卡上，答在试卷上的无效。考试结束后，将本试卷和答题卡一并交回。

祝各位考生考试顺利！

第 1 卷

注意事项：

1. 每题选出答案后，用铅笔将答题卡上对应题目的答案标号涂黑。如需改动，用橡皮擦干净后，再选涂其他答案标号。

2. 本卷共 11 题，每题 4 分，共 44 分。在每题给出的四个选项中，只有一项是最符合题目要求的。

1. 马可·波罗在描述中国某港口时说：“亚历山大或他港运载胡椒一船赴诸基督教国，

乃至此刺桐港者，则有船舶百余”。“刺桐”是指

- A. 泉州
- B. 广州
- C. 扬州
- D. 庆元

2. 清雍正年间，军机处设在皇宫内，与皇帝日常生活办公地毗邻。军机大臣多从“亲臣重臣”中遴选，任命谕旨通常说，命某人“在军机大臣上行走”或“在军机大臣上学习行走”。材料中未能体现出


- A. 在军机处办理要务易于保密
- B. 军机处官员便于皇帝宣召
- C. 军机处官员按才德标准遴选
- D. 军机大臣多为临时差遣性质

3. 戊戌变法期间，湖南《湘报》发表了《醒世歌》：“若把地球来参详，中国并不在中央，地球本是浑圆物，谁是中央谁四旁。”这首诗歌所表达的主要思想是

- A. 提倡维新变法
- B. 鼓励人们向西方学习
- C. 宣传科学救国
- D. 劝导国人放弃天朝观念

4. 右图介绍信内容所反映的实质是

- A. 国内粮食供应比较紧张
- B. 中国实行计划经济体制
- C. 国家实行粮食凭票供应
- D. 国家工作人员遵纪守法



5. 在中美关系的发展中，台湾问题是一大障碍。在扫除这一障碍的过程中，取得突破性进展的事件包括

- ①中国恢复联合国席位
 - ②尼克松总统访华
 - ③中美两国正式建交
 - ④邓小平访问美国
- A. ①②
 - B. ①③
 - C. ②③
 - D. ③④

6. “就在21世纪的钟声即将敲响之前，从神州大地上消除了最后一块帝国主义侵略造成的殖民地的残痕，完整而彻底地完成了民族独立的历史使命。”完成这一历史使命的根本保证是


- A. “一国两制”的提出
- B. “九二共识”的确定
- C. 中国国际威望的提高
- D. 中国国力的强大

7. 罗马法是留给人类的宝贵遗产。下列司法理念中，明显违背罗马法原则的是

- A. 被告在被确认犯罪之前是无罪的
- B. 被告有权利在法庭上同原告对质
- C. 主要按照以往的习惯和判例进行判决
- D. 主要按照法律和法学家解释进行判决

8. 右图为英国工业革命时代阿克莱特于 1771 年建立的纺纱厂遗址，现为世界文化遗产。该纺纱厂所利用的动力应该是

- A. 蒸汽动力
- B. 水力动力
- C. 水电力
- D. 机械动力



9. 1793年初，法国国王路易十六在革命高潮中被送上断头台。与这一事件相联系，下列说法正确的是

- A. 从此法国废除了君主制
- B. 这一事件标志法国大革命结束
- C. 这一事件为拿破仑上台创造了条件
- D. 君主制的幽灵并未因此在法国消失

10. 1940年12月底，罗斯福在一次广播谈话中说：“美国不能用缩进被窝、蒙头大睡能办法回避危险或对危险的害怕”，“必须成为民主国家伟大兵工厂”。随后不久，美国

- A. 通过了新的《中立法》
- B. 通过了《租借法》
- C. 与英国共同发表《大西洋宪章》
- D. 参与签署《联合国宣言》

11. 右图中，一个科威特人脚穿网球鞋，背驮电视机，穿过满是欧美消费品的街道。

图片反映了

- ①经济全球化的趋势
- ②全球性的文化渗透
- ③发展中国家是经济全球化最大受益者
- ④跨国公司是经济全球化有力的推动者

- A. ①②
- B. ①④
- C. ②④
- D. ③④



2012年普通高等学校招生全国统一考试（天津卷）

文科综合历史部分

第II卷

注意事项：

1. 用黑色墨水的钢笔或签字笔将答案写在答题卡上。
2. 本卷共3题，共56分。

12. (19分) 阅读材料，回答问题。

材料一

“行仁政而王，莫之能御也。”

“处无为之事，行不言之教。”

“明法者强，慢法者弱。”

(1) 概括材料中的三种主张。结合所学知识，分析这些主张出现的政治经济背景。(7分)

材料二

“《春秋》大一统者，天地之常经，古今之通谊也。”

“道之大原出于天，天不变，道亦不变”；“以教化为大务”；“正法度之宜”。

——《汉书·董仲舒传》

(2) 依据材料二中董仲舒的论述，指出其思想特征。结合所学知识，阐述董仲舒的思想对中国古代社会的影响。(4分)

材料三

唐代儒学较多地吸取了佛教和道教的思想。而盛行于唐代的佛教，既有本土发展起来的禅宗，也有从天竺引进的法相宗，还有中印合璧的天台宗等。唐代敦煌壁画中的飞天形象，是印度的乾达婆、希腊天使和道教羽人等多元文化因素的混合物。唐代大型歌舞剧《羽衣霓裳舞曲》，则源于印度的婆罗门曲，并含有胡旋舞等中亚歌舞元素。

——张国刚《唐代开放与兴盛的当代思考》等

(3) 依据材料三概括唐代思想文化的特点，并结合所学知识分析其形成的原因。(6分)

(4) 综上，谈谈你对思想文化发展进程的认识。(2分)

13. (19分) 阅读材料，参看地图，回答问题。

材料一

从金朝开始，随着北京成为都城，地处海河与南、北运河交汇处的三岔河口一带的天津，很快发展成为北京调运漕粮等生活物资的中转枢纽和通往北京的军事要地。“舟车攸会，聚落始繁。”

材料二

开埠前的天津是一个封建性城市。开埠通商后，天津很快发展为我国最早建立新式工业、新式采掘业和新式交通的城市之一；成为仅次于上海的全国第二大工商业和港口城市、北方最大的金融中心。

材料三

1902年清政府接管天津后，建立中国最早的警察队伍，建立市政工程局，修建公共



天津城区示意图 (1936年)

厕所、垃圾站。打击银钱投机，建立官银号、银元局，鼓励开办近代工商企业。1903年，政府开始部署建设以大经路为轴心的新城区，仅20年，新城区就成为天津新的政治、文化和工业中心。

——摘编自罗澍伟《近代天津城市史》

(1)结合材料和所学知识指出图中A、B、C三区开始形成的时间和原因。(6分)
用一例近代史实说明天津是“通往北京的军事要地”。(2分)

(2)分别举例说明材料二中天津的“新式工业、新式采掘业和新式交通”。依据材料二，分析开埠通商对天津发展的意义。(5分)

(3)结合所学知识，指出1902年清政府接管天津的背景。(2分)依据材料三，归纳20世纪初期天津发生的主要变化。(4分)

14. (18分) 阅读材料，回答问题。

材料一

化学工业的卡特尔化是按照以下途径进行的：管理的集中，以保证少数上层领导人
大权独揽来维持规定的价格标准；消除竞争，以杜绝外国竞争的保护关税来保证在市场上的稳固地位；以较少数企业、但进行大规模生产的方法，来实现生产率的提高。

1904年，六个大公司统治着德国化学工业市场，它们组成了两大卡特尔。

——周一良、吴于廑《世界通史资料选辑》近代部分

(1)材料一中的“卡特尔”是一种什么样的生产组织形式？结合材料和所学知识，列举第二次工业革命中德国处于领先地位的新兴工业部门。(5分)

材料二

1871年德国完成统一。1870至1913年，德国国民生产总值年均增长4.7%，工业生产增长了4.6倍，同期英国增长1.3倍，法国增长1.9倍。1913年，德国在世界工业总产值中的比重为16%，英国为14%；这一年，德国贸易占世界贸易总额的13%，而英国为15%。

——王珏《世界经济通史》(中卷)等

(2)依据材料二，归纳1870至1913年德国经济发展的特点，并结合所学知识分析其形成的原因。(7分)

材料三

1899年，德国外交部长皮洛夫在演讲中说：“如果英国人谈论建造大不列颠帝国，法国人谈论建造新法兰西帝国，俄国人谈论占领亚洲领土，那么，我们要求建造大德意志帝国……对我们来说，没有强大陆军，没有强大海军，而要获得幸福，那是万万办不到的。”

——王春来等《16-19世纪世界史文献选编》

(3)材料三中皮洛夫表达了什么意向？为实现这种意向德国做了哪些准备？最终导致了什么结果？(6分)

2012年普通高等学校招生全国统一考试（天津卷）

文科综合历史部分参考答案

I卷共11题，每题4分，共44分。

1. A 2. C 3. D 4. B 5. C 6. D 7. C 8. B 9. D

10. B 11. A

II卷共3题，共56分：

12.（19分）

(1) 实行仁政；无为而治；强调法治。

春秋战国时代，中国社会发生政治和经济大变动：政治上，分封制瓦解，诸侯争霸；经济上，铁犁牛耕推广，井田制破坏。

(2) 强调“大一统”；糅合各家思想，形成新儒学体系。

儒学正统地位在汉代确立，儒家思想逐渐成为中国传统文化的主流。

(3) 多元性（兼收并蓄）。

唐朝实行开放政策；政治稳定、经济繁荣、对外交往频繁等。

(4) 思想文化随着社会经济政治的变化，在吸收融合诸多文化因素中发展和丰富。

13.（19分）

(1) A区：金朝；漕运中转。B区：第二次鸦片战争后；开埠通商。C区：1903年；政府措施。

例如，第一次鸦片战争中，英军到达天津白河口，威胁北京，清政府妥协。

(2) 天津机器制造局、开平煤矿、有轨电车。

促使天津向近代城市发展。

(3) 《辛丑条约》签订后，八国联军退出天津。

城市管理开始近代化；金融和工商业进一步发展；城区扩大。

14.（18分）

(1) 垄断组织。

化学工业、电力工业、汽车工业。

(2) 经济飞速发展，增速超过英法老牌国家：1913年，在世界工业总产值中所占比重超过英国，但在世界贸易总额中所占比重低于英国。

德国统一，促进了经济发展；德国在第二次工业革命中领先；德国殖民地少，所占世界市场份额相对小。

(3) 重新瓜分世界，争夺世界市场。

扩军备战、结成军事同盟。

导致了第一次世界大战的爆发。

2012年普通高等学校招生全国统一考试（天津卷）

文科综合思想政治部分

文科综合共300分，考试用时150分钟。

思想政治试卷分为第I卷（选择题）和第II卷（非选择题）两部分，第I卷1至4页，第II卷5至6页，共100分。

答卷前，考生务必将自己的姓名、准考证号填写在答题卡上，并在规定位置粘贴考试用条形码。答卷时，考生务必将答案涂写在答题卡上，答在试卷上的无效。考试结束后，

将本试卷和答题卡一并交回。

祝各位考生考试顺利！

第 1 卷

注意事项：

- 每题选出答案后，用铅笔将答题卡上对应题目的答案标号涂黑。如需改动，用橡皮擦干净后，再选涂其他答案标号。
 - 本卷共 11 题，每题 4 分，共 44 分。在每题给出的四个选项中，只有一项是最符合题目要求的。
- “俯身接地气，用心听民意。”近来在广阔的华夏大地上，新一轮党员干部下基层活动正在蓬勃展开。群众反映干部们带来了政策和资金，改善了干群关系；干部们体会到只有“接地气”，才能“有人气”。下基层活动的良好成效体现了我们党
 - 坚持政治领导的领导方式
 - 坚持民主集中制原则
 - 坚持依法执政的执政方式
 - 坚持密切联系群众的工作方法
 - 初到台湾的大陆游客，常会因台湾民众把“花生”叫“土豆”，把“熊猫”叫“猫熊”，把“公共汽车”叫“公车”，把“窝心”解释为“温馨、贴心”，而引发一些“美丽的误会”。两岸民众对词语使用的差异反映了
 - 两岸文化同根同源
 - 中华文化底蕴厚重
 - 一方水土，一方文化
 - 汉字是中华文明的重要标志
 - 中国古人用“五行”说来解释世界。如图 1 所示，“五行”相生相克。“生”即产生、滋生、促进，“克”即战胜、排斥、克制。该学说所蕴含的唯物辩证法道理有
 - 事物之间具有多种多样的联系
 - 世界是一个普遍联系的有机整体
 - 事物的发展是周而复始的循环
 - 发展的过程是一事物否定另一事物

A. ①②	B. ①④
C. ②③	D. ③④
 - 有一种雷人的“楼盘文化”：挨着臭水沟叫水岸风光；旁边有小土包叫依山而居；周围有荒草地叫无限绿意；弄个喷水池叫英伦风情。这种现象反映了
 - 人的主观随意性
 - 实践和认识具有统一性
 - 真理的条件性
 - 思维和存在具有同一性
 - 图 2 是我国对农村人口的扶贫标准以及对应的扶贫对象数量的柱形图。对该图的正确解读是



图 1

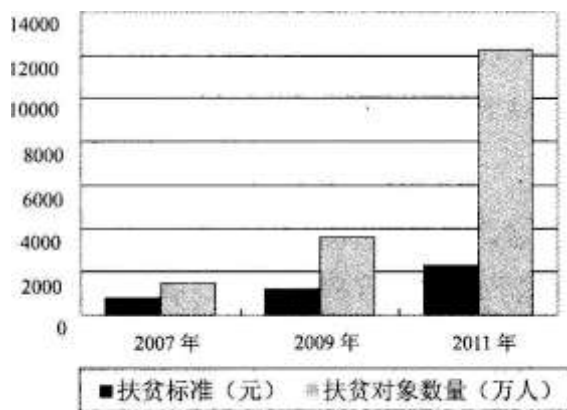


图 2

- A. 扶贫对象数量的多少，标志着治理贫困成效的大小
- B. 扶贫对象数量的增加，实现了人人享有基本生活保障
- C. 扶贫标准的提高，有利于使经济发展成果惠及更多人口
- D. 扶贫标准的提高，促成了合理有序分配格局的形成
6. 在 2012 年 2 月举办的西半球最大的国际玩具展上，备受青睐的中国传统玩具，如毽子、风筝、不倒翁等，都是经过外国厂商重新设计，并以其品牌参展的。作为全球最大玩具生产国，我国企业面对这一现状应采取的对策是
- ①降低生产成本，扩大企业规模
- ②发挥传统优势，加强自主研发
- ③优化企业管理，提高生产效率
- ④打造知名品牌，拓展国际市场
- A. ①③ B. ②③
- C. ①④ D. ②④
7. 从太空眺望地球，这个蓝色星球非常美丽。然而，地球的淡水资源却十分有限，我国淡水资源尤为短缺。针对我国这一问题，56 位在津全国政协委员联名提出《关于恳请 国家制定扶持海水淡化产业发展政策的提案》等多份提案。在政协委员推动下，2011 年国家制定了《加快海水淡化产业发展的意见》和《“十二五”海水淡化产业发展规划》。政协委员这一做法属于
- A. 依照宪法和法律参加行使国家权力
- B. 代表人民的意志和利益行使质询权
- C. 围绕团结和民主两大主题进行民主监督
- D. 参与国家政策、法规的制定
8. PM2.5 是指空气中直径小于或等于 2.5 微米的颗粒物，它负载的大量有害物质能直接进入人体肺部，甚至渗入血液，诱发多种疾病。从 2012 年起，北京、天津等地环保部门率先开展 PM2.5 监测，并把监测数据向市民公布。这一做法表明
- A. 政府工作的透明度进一步提高
- B. 政府切实保障广大人民的知情权
- C. 政务公开有利于对政府权力的制约
- D. 人民能够有效地监督政府权力的运行


9. 2011年,美国苹果公司董事长乔布斯——一位非凡的创新者,带着他的梦想和传奇辞世。乔布斯对于世界的意义,不仅在于他创造了那个魔器般的“苹果”,更在于他对“智慧之学”的情有独钟。乔布斯说过,“我愿用我的全部科技来换取与苏格拉底(古希腊哲学家)一个下午的相处。”他鼓励人们把苏格拉底的原则运用到生活、工作、学习以及人际关系上,去追求更多的真、善、美。乔布斯的成就和他对哲学的态度给我们的启示是

- ①真正的哲学可以使我们正确地看待人生
- ②真正的哲学是对问题的高明认识和解决问题的巧妙方法
- ③真正的哲学可以为我们的生活和实践提供有益的指导
- ④真正的哲学可以启迪我们在认识和改造世界中不断创新

- A. ①②③
- B. ①③④
- C. ①②④
- D. ②③④

10. 漫画《那是对岸》讽刺了经济生活中的哪种现象

- A. 强词夺理,漠视市场法律法规
- B. 见利忘义,破坏市场准入规则
- C. 置若罔闻,违背诚实守信原则
- D. 投机取巧,扰乱公平交易秩序



《那是对岸》

澳
充
澳

11. 由我国著名艺术家杨丽萍领衔的《云南映象》在大利亚演出,引起轰动。这个蕴含现代文化观念、满美丽安宁意境、具有浓郁民族风情的歌舞剧,在大利亚观众中产生了认同感和亲切感。该剧引发澳大利亚观众共鸣的根本原因是

- A. 世界文化是由不同民族文化构成的
- B. 中华文化与澳大利亚文化具有巨大的反差
- C. 不同国家的人民具有共同的人文情怀
- D. 具有鲜明民族特色的文化作品能得到世界认可

第 11 卷

注意事项:

- 1. 用黑色墨水的钢笔或签字笔将答案写在答题卡上。
- 2. 本卷共 3 题,共 56 分。

12. (30 分) 阅读材料,回答问题。

2012 年是邓小平“南方谈话”发表 20 周年。20 年来,我国创造性地把社会主义基本制度与市场经济的优势结合起来,使经济社会发展取得巨大成就。

20 年来我国经济发展若干指标*

	1992 年	2011 年
国内生产总值(万亿元)	2.7	47.2
恩格尔系数(%)	55.3	38.8(2009 年)
中央企业资产总额(万亿元)	7.1(2002 年)	28
非公有制经济对 GDP 贡献率(%)	<1(90 年代初)	60(2010 年)
市场化程度(%)	26.0	76.4(2008 年)
国家财政用于社会保障支出(亿元)	66.5	11144
财产性收入占居民收入比率(%)	≈0.5(1990 年)	2.7(2008 年)

*表中的“中央企业”指国务院国资委管辖的国有大型企业;“财产性收入”指家庭拥有的动产(银行存款、有价证券等)和不动产(房屋、土地、收藏品等)获得的收入。

(1)根据上表,运用《经济生活》相关知识概述,我国取得经济发展成就的主要经验。(12分)

(2)20年来,我国在经济体制改革的基础上,政治体制和文化体制改革也取得可喜的进步。运用《生活与哲学》相关原理阐述,改革是社会主义的自我完善和发展。(10分)

(3)“南方谈话”后,我国社会主义市场经济体制初步建立,同时影响发展的体制机制障碍依然存在。运用《经济学常识》相关知识简述,为什么还需要完善社会主义市场经济体制。(8分)

13.(12分)阅读材料,回答问题。

近年来,伊朗核问题、朝鲜核问题、日本福岛核泄露事故等使国际社会对核安全更加关注。核材料流失和扩散、核恐怖主义威胁、核能开发利用中的风险控制等核安全问题日益突出。解决上述问题,实现核能全面和平利用,是国际社会的共同目标。

中国高度重视国际核安全,严格履行核安全国际义务,积极对外提供核安全援助。主张强化核安全能力建设,承担核安全国家责任;深化国际交流合作,提升全球核安全水平;标本兼治、综合治理,消除核扩散及核恐怖主义根源。

结合材料,运用“当代国际社会”知识阐明,中国高度重视国际核安全的依据。

14.(14分)阅读材料,回答问题。

中华优秀传统文化历来推崇“天行健,君子以自强不息”、“大道之行也,天下为公”、“先天下之忧而忧,后天下之乐而乐”。产生于上世纪六十年代的雷锋精神,以全心全意为人民服务为核心,具有无私奉献、助人为乐的精神气质,彰显了中华民族的传统美德。

雷锋精神的生命力在于始终与时代发展相对接。2007年,来自全国各地的27位大学生,在选择未来时不只作功利想,不仅为稻粱谋,毕业后奔赴海南省鹦歌岭自然保护区。经过5年艰苦奋斗,他们克服了种种困难,重建了自然保护区工作站,提升了生态保护水平,改变了一方水土。鹦歌岭的大学生因甘于奉献而快乐,因学以致用而充实,因遵从理想而诗意,他们用青春诠释着新时代的雷锋精神,用美好情怀和理想气息感染着越来越多的当代青年。

(1)结合材料,用《文化生活》相关知识说明,雷锋精神对于我们民族和社会的价值是永恒的。(8分)

(2)雷锋和鹦歌岭大学生以帮助他人、奉献社会为乐。结合所学知识,探寻他们为何以助人、奉献为乐。(答出两点理由即可)(6分)

2012年普通高等学校招生全国统一考试(天津卷)

文科综合思想政治部分参考答案

I卷共11题,每题4分,共44分。

1. D 2. C 3. A 4. A 5. C 6. D 7. D 8. B 9. B
10. A 11. C

II卷共3题,共56分。

12. (30分)

(1) (12分)

- ①坚持促进经济增长与提高人民生活水平相结合。
- ②坚持发展公有制经济与非公有制经济相结合。
- ③坚持发挥市场在资源配置中的基础性作用与加强国家宏观调控相结合。
- ④坚持按劳分配与多种分配方式相结合。

(2) (10分)

①辩证的否定是事物自身的否定,其实质是“扬弃”。改革是社会主义制度的自我否定,通过改革推动社会主义的自我完善和发展。

②社会主义社会的基本矛盾也是生产力和生产关系、经济基础和上层建筑之间的矛盾。改革就是改变生产关系中同生产力不相适应的环节和方面,使之适合生产力的发展;改变上层建筑中同经济基础不相适应的环节和方面,使之适合经济基础的发展,最终解放和发展生产力,实现社会全面进步。

③20年来,我国经济、政治和文化体制改革取得的成就是社会主义自我完善和发展的体现。

(3) (8分)

- ①是进一步解放和发展生产力,充分发挥社会主义制度优越性的需要。
- ②是社会主义市场经济体制自身发展的内在要求。
- ③是实现科学发展的需要。
- ④是提高我国开放型经济水平,增强防范经济风险能力的需要。

(其他答案言之有理,可酌情给分)

13. (12分)

①实现核能全面和平利用,是国际社会的共同目标,符合和平与发展的时代主题。

②严格履行核安全国际义务,积极对外提供核安全援助,符合《联合国宪章》的宗旨。

③强化核安全能力建设,承担核安全国家责任,符合我国国家性质和国家利益,也符合世界各国的共同利益。

④深化国际交流合作,消除核恐怖主义根源,有利于建立国际新秩序。

14. (14分)

(1) (8分)

①雷锋精神植根于中华优秀传统文化之中,是中华民族精神的体现。

②鹦歌岭大学生以实际行动践行雷锋精神,丰富了雷锋精神的内涵。

③当代社会需要雷锋精神,雷锋精神为加强社会主义思想道德建设提供价值导向。

④人们的精神文化需求随着社会发展而不断提高,雷锋精神为促进人的全面发展提供精神动力。

(2) (6分)

①满足社会和他人需要,以得到社会承认、实现自身价值为乐。

②努力奉献的人是幸福的,积极投身为人民服务实践,以奉献社会为乐。

③以服务人民、辛勤劳动为荣为乐。

④以践行中华传统美德为乐。

评分说明：

1. 答出两点理由即可。

2. 其他答案言之有理，可酌情给分。