

2015 年湖北省孝感市中考真题历史

本试卷分为第 I 卷和第 II 卷两部分，满分 50 分。

第 I 卷（选择题，共 22 分）

本卷共 22 小题，每小题 1 分，共计 22 分。在每小题所给出的四个选项中，只有一项是符合题目要求的。

1. 春秋战国时期发生社会大变革的根本原因是（ ）

- A. 诸侯争霸
- B. 百家争鸣
- C. 商鞅变法
- D. 铁器与牛耕

解析：在春秋末年牛耕已使用，战国时期进一步推广，是我国农业发展史上的一次动力革命。因为牛耕的使用和推广使畜力取代了人力从事农业生产，因此说它是我国农业发展史上的一次动力革命。铁农具在春秋时期开始出现，战国时期使用范围扩大。铁农具和牛耕的使用和推广的作用：使土地利用率和农作物产量显著提高，促进了经济的发展，推动社会制度发生转变，故选 D。

答案：D

2. “该船队到过亚非 30 多个国家和地区，最远到达非洲东海岸和红海沿岸。是世界航海史上的壮举。”与该材料密切相关的事件是（ ）

- A. 张骞通西域
- B. 哥伦布到达美洲
- C. 郑和下西洋
- D. 麦哲伦环球航行

解析：依据已学知识可知，从 1405 年开始到 1433 年，郑和前后七次下西洋，到过亚非三十多个国家和地区，最远到达红海沿岸和非洲东海岸，比欧洲航海家的远航早半个多世纪，是世界航海史上的壮举。所以答案是 C。

答案：C

3. 识图析图是学习和研究历史的一种重要方法。下图是中国古代某著名工程示意图，根据示意图上的有效信息判断，该工程为（ ）



- A. 隋朝的大运河
- B. 秦朝的万里长城
- C. 战国时期的都江堰
- D. 汉代的丝绸之路

解析：为了加强南北交通，巩固隋王朝对全国的统治，隋炀帝从 605 年开始开通了一条纵贯南北的大运河，以洛阳为中心，北达涿郡，南至余杭，分类四段，由北向南依次永济渠、通济渠、邗沟、江南河，全长两千余公里，是古代世界最长的运河。故答案选择 A。

答案：A

4. 创新是一个民族进步的灵魂，是一个国家兴旺发达的不竭动力，创新精神决定着一个民族和国家的发展进程。下列政治制度或科技成果按时间排序，正确的有（ ）

- ①造纸术
 - ②行省制
 - ③活字印刷
 - ④分封制
- A. ②①③④
B. ①③②④
C. ④①③②
D. ③①②④

解析：依据已学知识可知，为了巩固统治，西周实行分封制。元朝建立后，为了巩固统治，元朝在地方行政上创置行省制度。西汉早期，已出现目前世界上已知的最早的纸（用麻作成东汉蔡伦改进造纸术，后人把这种纸叫做“蔡侯纸”。活字印刷术是北宋时毕升发明的。按照朝代的先后顺序，所以答案是 C。

答案：C

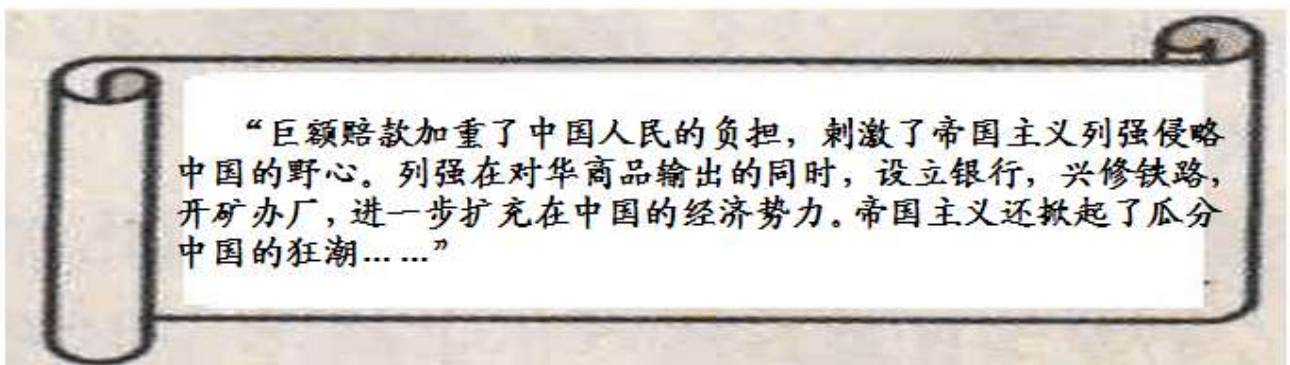
5. 历代中央政府都十分注重对边疆地区的管理，努力维护国家统一和领土完整。元朝时为加强对西藏地区的管辖而设置了（ ）

- A. 宣政院
- B. 安西都护府
- C. 驻藏大臣
- D. 伊犁将军

解析：本题主要考查学生对元朝有关知识的识记。元朝设宣政院管理西藏，自此西藏成为中国一个行政区。安西都护府和伊犁将军是管辖新疆的机构。驻藏大臣是清朝设置的管辖西藏的机构。A 符合题意，故答案选 A。

答案：A

6. 下图为张自强同学在学习《马关条约的影响》时所做的课堂笔记，但笔记内容不够完整，请你帮他对该内容做进一步的完善（ ）



- A. 中国的领土完整和主权独立开始遭到破坏
- B. 标志着中国近代史的开端

- C. 中国社会半殖民地化程度大大加深
- D. 清政府成为帝国主义列强统治中国的工具

解析：本题主要考查学生对甲午中日战争及《马关条约》的认识。甲午中日战争中国战败，1895 年签订中日《马关条约》，割辽东半岛、台湾、澎湖列岛给日本；略偿日本军费白银 2 亿两等。《马关条约》的签订，大大加深了中国半殖民地化程度。故选 C。

答案：C

7. 1889 年 5 月出使美国的清朝政府大臣张荫桓奏请清政府以长方形黄色龙旗为国旗，旗面黄色为满族的代表色，旗上的龙则象征皇帝。这面国旗于 1900 年在全国开始悬挂，直至清朝灭亡。黄龙旗在全国悬挂之际，正值国家危难之时。这里的“国家危难”是指（ ）

- A. 鸦片战争爆发
- B. 英法联军火烧圆明园
- C. 清政府割台湾给日本
- D. 八国联军发动侵华战争

解析：题文的“1900 年”是解题的关键信息。1900 年，英、美、俄、日、法、德、意、奥组成八国联军，由西摩尔率领进犯北京，8 月中旬，攻占北京，到处烧杀抢掠，所以 1900 年正值国家危难之时。D 符合题意。

答案：D

8. 有学者认为，甲午战争后，中国开始由学习西方的“先进技术”转向学习西方的“政治制度”。这里的“政治制度”应理解为（ ）

- A. 宣传马克思主义
- B. 建立资产阶级的政治体制
- C. 在思想领域里开展新文化运动
- D. 建立无产阶级政权

解析：本题主要考查对维新变法的认识。1895 年，《马关条约》签订的消息传到北京，正在北京参加考试的康有为等发动“公车上书”，要求光绪帝实行变法。“公车上书”揭开了维新变法运动的序幕。维新变法运动是康有为、梁启超等领导的资产阶级改良运动，目的是学习西方的资产阶级的政治体制，故选 B。

答案：B

9. 下面四幅图片是洋务运动时期创办的近代工业，其中属于民用企业的是（ ）




- A. 江南制造总局



B. 福州船政局



C. 安庆内军械所



D. 汉阳铁厂

解析：我们通过学过的知识知道：洋务运动前期以“自强”为口号，创办军事工业。如：1865 年李鸿章在上海创办江南制造总局。1866 年，张之洞在福州创办福州船政局，开办船政学堂。安庆内军械所是军事工业。后期以“求富”为口号，创办民用工业。如李鸿章创办的开平矿务局和上海机器织布局；张之洞创办的湖北织布局和汉阳铁厂。故答案选 D。

答案： D

10. 这次革命“它的最大影响当属推翻君主政体，建立民主共和政治。它的意义不同于中国历史上常见的改朝换代，也不仅仅限于赶跑了一个皇帝，而是从根本上动摇了大多数中国人的信仰……”材料中的“这次革命”指的是（ ）

- A. 戊戌变法
- B. 辛亥革命
- C. 新文化运动
- D. 国民革命

解析：本题旨在考查学生对辛亥革命意义的准确识记。1911 年孙中山等人领导了辛亥革命。辛亥革命的指导思想是三民主义。孙中山领导的辛亥革命推翻了清朝的统治，结束了我国两千多年的封建帝制，使民主共和的观念深入人心。故选 B。

答案： B

11. 中国职业学校教育始于同治五年，最早由左宗棠在福州船政学堂实施，初称“实业教育”，1917 年改称“职业教育”。戊戌变法期间，清政府改科举，废八股，大力兴办教育，创办的_____成为中国近代最早的

一所体制完备的高等学府。()

- A. 京师大学堂
- B. 北京大学
- C. 时务学堂
- D. 京师同文馆

解析：依据已学知识可知，戊戌变法期间，创办了京师大学堂，这是中国近代第一所国家建立的最高学府，表明近代中国教育改革迈出了重要的一步。A 符合题意。

答案：A

12. 我国有 80%的人口生活在农村。农村在我国新民主主义革命、社会主义建设、经济体制改革中都发挥了重要作用。井冈山革命根据地的建立 ()

- A. 揭开了人民解放战争战略进攻的序幕
- B. 开辟了农村包围城市的革命道路
- C. 保存了党和红军的基本力量，为开创中国革命的新局面奠定了基础
- D. 是中国共产党创建军队、独立领导武装斗争的开始

解析：本题主要考查学生对中国近代军队建设有关知识的识记。1927 年在秋收起义后，毛泽东领导起义队伍放弃攻打长沙的计划，转向敌人力量薄弱的农村。后在井冈山建立了中国第一个农村革命根据地——井冈山革命根据地。井冈山革命根据地建立，开辟了农村包围城市、武装夺取政权的革命道路，故选 B。

答案：B

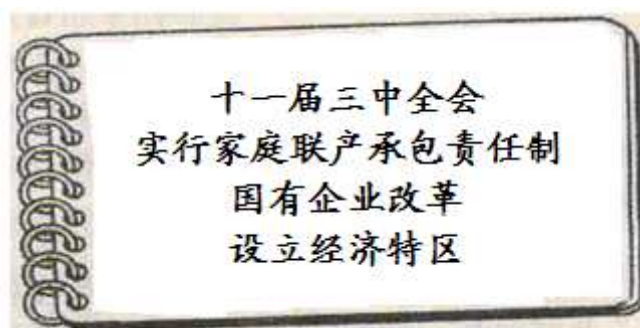
13. 有学者说“我们正处在有史以来最大的转折关头，第一次全民一心一意地在瓦砾和血泊中奋争，以创造一个赫然在望的时代。”这位学者述说的历史事件应为 ()

- A. 西安事变和平解决
- B. 全民族的抗日战争
- C. 刘邓挺进大别山
- D. 中国人民志愿军入朝参战

解析：本题主要考查学生的分析能力。分析题文，其中的“全民一心一意”指的是全民族，“在瓦砾和血泊中奋争”指的是抗争。分析四个选项，符合题意的只有 B，故本题答案选 B。

答案：B

14. 学习历史要注意归纳与总结。下图是陈老师上课时的板书设计，请你为该板书内容设计一个恰当的主题 ()



- A. 社会主义建设道路的探索
- B. 改革开放
- C. 中国国际地位的显著提高
- D. 日新月异的社会生活

解析：十一届三中全会是建国以来党的历史上具有深远意义的伟大转折。它完成了党的思想路线、政治路线和组织路线的拨乱反正，是改革开放的开端。1978年十一届三中全会后，我国在农村开始实行改革。安徽凤阳小岗村率先实行以“分田到户，自负盈亏”为特点的家庭联产承包责任制。党的十一届三中全会以后，我国对外开放开始起步。1980年我国在广东深圳、珠海、汕头和福建的厦门建立了四个经济特区。可见图中事件都和改革开放有关，故答案选择B。

答案：B

15. 中国共产党自诞生以来，为了实现民族独立和人民幸福，经历了艰苦卓绝的奋斗历程。下列关于中国共产党奋斗历程的表述错误的是（ ）

- A. 遵义会议成为中国共产党和中国革命史上生死攸关的转折点
- B. 中共七大明确规定毛泽东思想 为党的指导思想
- C. 中华人民共和国的成立标志着我国开始进入社会主义初级阶段
- D. 十一届三中全会作出了把工作重点转移到经济建设上来的战略决策

解析：本题考查三大改造的相关知识点。1956年底，我国基本完成了对农业、手工业和资本主义工商业的社会主义改造，实现了把生产资料私有制转变为社会主义公有制的任务，这标志着社会主义制度在我国建立起来，我国从此进入社会主义初级阶段。可见A错误，其他选项都是正确的，故答案选C。

答案：C

16. 钱乘旦教授在论述欧洲资产阶级革命时说：“一个人的绝对权力阻碍了国家的发展，不限制这种权利，国家便无法进步。”在欧美资产阶级革命过程中，为限制“一个人的绝对权力”而制定的文献有（ ）

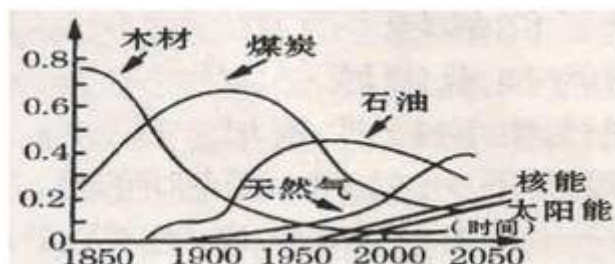
- ①《权利法案》
- ②《独立宣言》
- ③《美国 1787 宪法》
- ④《人权宣言》

- A. ②③
- B. ①③④
- C. ②③④
- D. ②④

解析：本题主要考查学生分析的能力。英国资产阶级革命后，1689年，为了限制国王的权利，英国议会通过了一部文献《权利法案》。《权利法案》以法律的形式对国王的权利进行了明确的制约。美国独立战争宣告结束后，为了巩固革命成果，1787年美国制定了宪法。宪法确定美国是联邦制国家，规定总统享有行政权，国会掌握国家的立法权，最高法院掌握国家的司法权，三权分立，开创了民主政治的先河。法国大革命中，资产阶级制宪会议颁布《人权宣言》，宣称人们生来自由，权利平等；私有财产神圣不可侵犯。《独立宣言》标志着美国的诞生，它不是为限制“一个人的绝对权力”而制定的文献，故答案选B。

答案：B

17. 观察下图，导致 19 世纪末 20 世纪初石油开采量大幅度上升的原因是（ ）



- A. 飞机的发明
- B. 电子计算机的出现
- C. 蒸汽机的发明
- D. 火车的问世

解析：19 世纪末 20 世纪初是第二次工业革命的时间。19 世纪 70 年代开始的第二次工业革命把人类带入“电气时代”。第二次工业革命中，内燃机的发明和广泛应用，促进了新的交通工具汽车、飞机的发明。1903 年美国的莱特兄弟发明了飞机，利用内燃机做动力机，使用石油做燃料，导致 19 世纪末 20 世纪初石油开采大幅度上升，这和第二次工业革命无关，故答案选 A。

答案：A

18. 日本学者福泽谕吉在《文明论概略》一书中就社会转型的问题说道：“汲取欧洲文明，必须先其难者而后其易者，首先变革人心，然后改变政令，最后达到有形的物质。按照这个顺序做，虽然有困难，但是没有真正的障碍，可以顺利达到目的。”材料中的“变革人心”指的是（ ）

- A. 新航路开辟
- B. 洋务运动
- C. 启蒙思想
- D. 马克思主义

解析：启蒙思想家对封建专制制度和天主教会的猛烈抨击以及对“自由”、“平等”思想的宣传，促进了人们的思想解放，为新兴的资产阶级在政治上取代封建贵族提供了有力支援，促进了欧洲社会的进步。由于启蒙思想的传播，也促进了中国、日本等亚洲国家的思想解放。受启蒙运动的影响，日本发生了明治维新，所以材料中的“变革人心”指的是启蒙思想，故答案选 C。

答案：C

19. “第一次世界大战爆发前，帝国主义各国政治经济发展不平衡，实力对比发生重大变化，后起的帝国主义国家要求重新瓜分世界。”该材料揭示了（ ）

- A. 第一次世界大战爆发的原因
- B. 第一次世界大战发生的过程
- C. 第一次世界大战的结果
- D. 第一次世界大战的性质

解析：本题主要考查学生对第一次世界大战原因的认识。第一次世界大战爆发是由于第二次工业革命后，德国等国家经济发展快，拥有的殖民地少。英法等老牌帝国主义国家经济发展速度减缓，后起的帝国主义国家要求重新分割世界，由于帝国主义政治经济发展不平衡的加剧，后期的帝国主义国家要求重新分割世界。他们之间的斗争愈演愈烈，于是形成了三国同盟和三国协约两大军事侵略集团，最终导致一战的爆发。故答案选 A。

答案：A

20. 1929—1933 年，一场空前严重的经济危机首先从美国爆发，迅速席卷了整个资本主义世界。这次危机波及范围广、持续时间长、破坏性大，受此影响（ ）

- A. 德意日建立了法西斯政权
- B. 两大军事集团“三国同盟——三国协约”正式形成
- C. 日本发动了侵略中国的九一八事变
- D. 凡尔赛——华盛顿体系建立

解析：主要考查学生对 1929—1933 年经济危机影响的准确识记。依据学过的知识可知，1929—1933 年资本主义世界经济危机，引发了资本主义各国严重的政治危机，为应对危机，美国实行罗斯福新政，德国和日本法

西斯势力抬头，建立法西斯政权，并开始对外侵略，日本发动侵略中国的九一八事变，德国发动二战。意大利在经济危机前已经建立了法西斯政权，故答案选 C。

答案：C

21. 二战后，日本和联邦德国经济得到迅速恢复和发展，其共同原因是（ ）

- A. 朝鲜战争对经济的刺激
- B. 成立了欧洲经济共同体
- C. 政治上，保留天皇的统治权
- D. 重视教育与科学技术

解析：本题主要考查学生对二战后，西欧和日本经济迅速发展的共同原因的准确识记。此题可以用排除法分析。朝鲜战争对经济的刺激和重视教育与科学技术是二战后日本经济得到迅速恢复和发展的原因。成立了欧洲经济共同体和重视教育与科学技术是二战后西欧经济得到迅速恢复和发展的原因。政治上，保留天皇的统治权不是日本经济发展的原因。故答案选 D。

答案：D

22. 苏联解体后，世界政治格局呈现多极化趋势。随着中国经济的快速发展，综合国力的不断增强，2013 年美国国防部长在新加坡香格里拉会议上宣称到 2020 年要把美国海、空军实力的 60% 部署在亚太地区。美国此举的主要意图是为了（ ）

- A. 维护世界和平
- B. 保障太平洋及南海航行自由
- C. 同俄罗斯争夺世界霸权
- D. 遏制中国的崛起

解析：本题主要考查分析问题的能力。题文“随着中国经济的快速发展，综合国力的不断增强”传达的信息是中国的崛起。题文材料“到 2020 年要把美国海、空军实力的 60% 部署在亚太地区。”，此举的意图是遏制中国的崛起。不符合题意，故答案选 D。

答案：D

第 II 卷（非选择题，共 28 分）

本卷共 3 小题，第 23 小题 10 分，第 24 小题 8 分，第 25 小题 10 分，共计 28 分。

23.（10 分）对外交往是一个国家综合实力的展示。在我国对外交往的历史中，既有辉煌过去，也饱受近代屈辱，如今的中国，正在逐渐影响着世界。阅读材料，回答有关问题。

材料一 唐朝实行开放的对外政策，当时先进的经济文化有着巨大的吸引力，中外交往出现了盛况空前的局面。许多国家纷纷遣使到唐朝，与唐朝通商的国家多达 70 多个。

清朝前期，统治者以天朝大国自居，认为国内物产丰富，不需要外洋货物，因而严格限制对外贸易，既严格限制外国商人来华贸易，又严格限制中国商民出海。

——摘自岳麓版中国历史七年级下册

(1) 历史上，向唐朝派出遣唐使最多的是哪个国家？（1 分）清朝前期，政府在对外交往中采取什么政策？（1 分）

材料二 观察下面两幅图片



南京条约签字仪式



五四运动中北京街头的游行队伍

(2)中英《南京条约》的签订损害了中国的哪些主权？（2分）五四运动爆发的导火索是什么？（1分）

材料三 中华人民共和国成立以后……彻底结束了近百年的屈辱外交，揭开了对外关系的新篇章……20世纪50年代，提出了独立自主的外交政策和外交方针；20世纪70年代，随着世界局势的变化，中国外交有了重大突破；改革开放后，随着经济实力的增强，中国开始走向世界并改变世界。

——摘自人教版普通高中《历史》必修II

(3)中国外交政策成熟的标志是什么？（1分）“求同存异”的方针是在哪次会议上提出的？（1分）

(4)依据材料并结合所学知识，指出20世纪70年代我国外交方面有哪些“重大突破”？（2分）在走向世界的过程中，中国加入的国际或地区性经济组织是什么？(任举一例，1分)

解析：

(1)依据学过的知识已知，唐朝时期和日本的交往密切。向唐朝派出遣唐使最多的是日本。从贞观年间开始，日本遣唐使达十三次之多。清朝实行“闭关锁国”政策，严格控制海外贸易。只开放广州一处作为对外通商口岸，关闭了其他港口，并规定由政府特许的“广州十三行”统一经营管理贸易。

(2)本题主要考查学生对《南京条约》内容和五四运动导火线的认识。鸦片战争中，1842年中国被迫签订中英《南京条约》，条约规定：割香港岛给英国；赔款2100万元；开放广州、厦门、福州、宁波、上海五处为通商口岸；英商进出口货物缴纳的税款，中国需同英国商定。割香港岛给英国，破坏了中国的领土完整；最后一项内容，破坏了中国的关税自主权，对中国危害最大。1919年巴黎和会中国外交的失败，是五四运动的导火线。

(3)本题主要考查新中国在20世纪50年代的外交成就。1953年，周恩来首次提出和平共处五项原则，和平共处五项原则后来成为处理国与国关系的基本准则；1955年，周恩来在印度尼西亚的万隆会议上提出求同存异方针。求同存异方针的提出，促进了会议的圆满成功。

(4)本题主要考查新中国的外交成就。1972年2月，美国总统尼克松访华，双方在上海签署了《中美联合公报》，1979年1月1日，中国与美国正式建立外交关系。1972年10月，中日建交。在走向世界的过程中，中国首先加入了亚太经合组织和世界贸易组织。后中国有加入了国际货币基金组织、世界银行等。

答案：

(1)日本。闭关锁国

(2)领土主权，司法裁判权，关税自主权（答出其中两点即可）巴黎和会，中国外交的失败

(3)和平共处五项原则。万隆会议。

(4)恢复中国联合国合法席位。中美建交。中日建交。（答出其中两点即可）亚太经合组织（APEC）。世界贸易组织（WTO）。国际货币基金组织、世界银行、上海合作组织等（考生如有其它答案只要符合题意亦可）

24.（8分）大国的兴衰消长，始终是世界舞台上最受人瞩目的焦点。大国崛起的过程中各具特色的发展道

路，给人类留下了丰富的经验教训，启迪着今天，也影响着未来。阅读材料，回答有关问题。

材料一 导致英国迅速崛起的一个重要因素，便是在（1688年）宫廷政变之后，英国迅速建立起一个适合国情和生产力发展的政治体制。这个体制保证了英国社会有一个相对宽松与和平的环境，从而为社会经济发展创造了有利条件。

——《强国之鉴》

(1) 材料一中，英国建立了怎样的政治体制？（1分）这一体制的建立与1689年英国颁布的哪一部法律文献密切相关？（1分）

材料二 1869年，（日本）第一次使用电报连通了横滨和东京。1872年，连接这两座城市的第一条铁路竣工。1870年，这个国家有了第一台纺纱机。

独立后的美国经济迅速发展，1860年工业总产值跃居世界第四位。但是南北两种经济形式之间的矛盾日益尖锐，严重阻碍了美国资本主义经济的发展。

——摘自岳麓版初中历史教学参考书

(2) 材料二所述史实与日本历史上哪一次改革有关？（1分）这次改革后，日本的社会性质发生了怎样的变化？（1分）为解决材料二所述问题，美国采取了怎样的措施？（1分）

材料三 大国之谜，当然还有另外的答案，那就是体制创新……列宁说：当我们用‘强攻’的办法，即用最简单、迅速、直接的办法实行社会主义的生产和分配原则的尝试已告失败后，我们则必须改变。美国在20世纪30年代，又加了政府干预经济的手段。从此，看得见的手和看不见的手交相作用，改变了人们对传统的市场经济模式的认识。

——《大国崛起》

(3) 面对发展过程中出现的问题，20世纪20年代的苏俄以及20世纪30年代的美国在经济政策方面各自做了怎样的调整？（2分）这些调整有何共同的积极作用？（1分）

解析：

(1) 主要考查学生对英国资产阶级革命有关知识的识记。英国资产阶级革命后，1689年英国议会通过《权利法案》，标志着君主立宪制的资产阶级统治在英国的确立。君主立宪制的政治体制是一个全新的政治体制。

《权利法案》以法律的形式保障全新的政体实施；英国议会拥有最高权利。

(2) 本题主要考查学生对日本明治维新和美国内战的认识。19世纪中期，日本闭关锁国的大门被美国打开，为了摆脱民族危机，日本实行明治维新。明治维新使日本摆脱了民族危机，为日本资本主义发展扫除了障碍，使日本转变为资本主义社会，促进了日本资本主义的发展。19世纪中期，美国北部资本主义经济获得发展，需要大量自由的劳动力，迫切需要废除奴隶制。南部种植园经济发达，需要大量奴隶劳动，反对废除奴隶制。南北双方在奴隶制的存废问题上不可调和，引发美国南北战争。1861-1865年林肯领导的南北战争，维护了国家统一，废除了黑人奴隶制，扫清了资本主义发展的又一障碍，为以后美国资本主义的迅速发展创造了条件。

(3) 依据所学知识可知，国内战争结束后，俄1921年苏俄在列宁的领导下开始实行新经济政策，使国民经济得到恢复和发展。20世纪30年代为了应对经济危机，美国罗斯福总统实行新政，是美国经济缓慢恢复过来。这些调整共同的积极作用是：促进了社会经济发展。

答案：

(1) 君主立宪制。《权利法案》。

(2) 明治维新。由封建社会逐步转变为资本主义社会（或走上了资本主义道路）。美国内战（或美国南北战争）

(3) 苏俄：新经济政策。美国：罗斯福新政。促进了社会经济发展（或促进了经济的恢复与发展，巩固了政权）（言之有理可酌情给分）

25.（10分）合作探究

中俄两国是友好邻邦，两国领导人十分重视和发展两国关系。目前，双方在政治、经济、军事和文化科技领域进行了全方位的合作，呈现出良好的发展势头，堪称是构筑新型大国关系的典范。阅读材料，探究有关问

题。

【学习·合作】

材料一 1917年，俄国革命一声炮响，给中国人民送来了马克思列宁主义，一批先进的知识分子转向研究和宣传马克思主义。

——摘自岳麓版八年级历史上册

(1)材料中的“一声炮响”指的是什么历史事件？（1分）在中国传播马克思主义的先驱者是谁？（1分）

【友好·合作】

材料二 2015年5月9日，俄罗斯举行盛大阅兵仪式，庆祝反法西斯战争胜利70周年，中国国家主席习近平应邀出席了庆祝活动。今年中国也将举行阅兵仪式，庆祝抗战胜利70周年。中俄分别举行纪念活动，其目的是希望人们牢记二战这一历史灾难。

——摘自人民网

(2)第二次世界大战期间，中国和苏联一度成为盟友，这主要是因为哪一国际性组织的成立？（1分）决定苏联在欧战结束后三个月内参加对日作战的是什么会议？（1分）

材料三 苏联成立后，苏联人民在布尔什维克党和斯大林领导下继续进行社会主义建设，取得了很大成就。新中国成立后，党和政府借鉴苏联的建设经验，有计划的发展国民经济。1953年，我国开始实行国家建设的第一个五年计划

——摘自岳麓版初中历史教材

(3)到1937年第二个五年计划完成时，苏联的经济建设取得了怎样的成就？（1分）为改变我国工业落后状况，“一五”计划集中主要力量优先发展重工业。如果要举办一次“一五”计划成就展，你认为哪些成就可以参展？（请列举二例）（2分）

【携手·合作】

材料四 2014年7月14日，习近平出席在巴西举行的金砖国家领导人会议期间会见了俄罗斯总统普京。习近平表示，我们就进一步发展中俄关系和扩大各领域合作达成一系列历史性共识，共同推动中俄全面战略协作伙伴关系进入新的发展阶段。

——摘自人民网

(4)从材料四中，你能获取到的最有效信息是什么？（1分）请你结合所学知识，就新时期如何促进中俄关系友好发展提出两点建议？（2分）

解析：

(1)1917年十月革命，是人类历史上第一次获得胜利的社会主义革命，建立了世界上第一个工人士兵苏维埃政府。1917年俄国十月革命后，中国先进知识分子看到了“新世纪的曙光”。1918年，李大钊在《新青年》上，连续发表了两篇论文，颂扬十月革命，在中国传播马克思主义。

(2)1942年1月1日，美、英、苏、中等26国的代表在华盛顿举行会议，各国签署了《联合国家宣言》，世界反法西斯同盟形成。世界反法西斯同盟的建立使中国和苏联一度成为盟友。1945年2月召开的雅尔塔会议，决定打败德国后，对德国实行分区军事占领，还决定成立联合国。苏联承诺在德国投降后三个月内，参加对日作战。

(3)斯大林执政后，1928-1937年，苏联成功完成第一和第二个五年计划，使苏联由传统的农业国变为强盛的工业国，国防力量也大为加强。为改变我国工业落后状况，“一五”计划集中主要力量优先发展重工业。一五计划的成就：1953年底，鞍山钢铁公司大型轧钢厂等三大工程建成投产；1956年，长春一汽生产出第一辆汽车；中国第一个飞机制造厂试制成功第一架喷气式飞机；沈阳第一机床厂建成投产；1957年，武汉长江大桥建成；川藏、青藏、新藏公路建成；形成了以鞍山钢铁公司为中心的东北工业基地。

(4)本题主要考查学生的分析能力，依据材料四的“共同推动中俄全面战略协作伙伴关系进入新的发展阶段。”，可获取到的最有效信息是：中俄全面战略协作伙伴关系进入新的发展阶段。新时期为促进中俄关系友好发展应做到：坚持和平共处五项基本原则处理两国之间的关系；增强互信、重大问题协调一致；有利于世界和平发展；加强各自的经济政治发展；增强国家综合国力；重视科技教育等。

答案：

(1)十月革命。李大钊。

(2)反法西斯联盟（或《联合国家宣言》的发表）。雅尔塔会议

(3)从落后的农业国变成强大的工业国（工业产值跃居欧洲第一、世界第二位）。长春第一汽车厂建成投产，武汉长江大桥建成通车，青藏、康藏公路顺利通车，喷气式飞机，东北工业基地基本建成等（答出其中任意两点即可得分，考生如有其它答案，只要符合题意也可得分）

(4)推动全面战略协作伙伴关系进入新阶段。坚持和平共处五项基本原则、（互相尊重领土主权；互不侵犯；互不干涉内政；平等互惠；和平共处）。增强互信、重大问题协调一致；有利于世界和平发展；加强各自的经济政治发展；增强国家综合国力；重视科技教育等（本题为开放性试题，考生只要答出其中两点即可，如有其它见解，只要符合题意，亦可得分。）