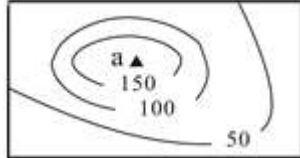


## 2014 年湖南省益阳市中考真题地理

一、选择题（下列各题只有一个符合题意的选项，选出符合题意的选项并将其代号填涂在答题卡上的相应处。每小题 2 分，共 40 分。）

1. 如图为某地等高线示意图中山峰 a 的海拔高度可能为（ ）



- A. 130 米
- B. 180 米
- C. 150 米
- D. 210 米

解析：读图可知，山峰 a 的海拔高度在 150 米到 200 米之间。

答案：B

2. 某地区在一年中平均每 1000 人当中，出生并成活 28 个婴儿，死亡人数 15 人，那么该地区的人口自然增长率为（ ）

- A. 2.8%
- B. 1.5%
- C. 1.3%
- D. 4.3%

解析：自然增长率是指一年内一定地区的自然增长人口（出生人数减死亡人数）与总人口之比。也就是：自然增长率=出生率 - 死亡率。某地区在一年中平均每 1000 人当中，出生并成活 28 个婴儿，死亡 15 人，那么这个地区的人口出生率是 28‰，人口死亡率是 15‰，所以该地区的人口自然增长率=28‰ - 15‰=13‰=1.3%。故选项 C 符合题意。

答案：C

3. 从经济发展水平的差异来看，不属于同一类国家的是（ ）

- A. 英国
- B. 巴西
- C. 中国
- D. 泰国

解析：根据经济发展水平，我们将世界上的国家分为发达国家和发展中国家。英国是发达国家，巴西、中国、泰国是发展中国家。

答案：A

4. 对亚洲的描述，正确的是（ ）

- A. 全部位于北半球
- B. 季风气候显著
- C. 地形以平原为主
- D. 河流众多，短小湍急

解析：A、亚洲跨东西南北四个半球，故 A 错误；  
 B、亚洲气候复杂多样，季风气候显著，故 B 正确；  
 C、亚洲地面起伏很大，中部高，四周低，地形以高原、山地为主，故 C 错误；  
 D、亚洲大河多发源于中部的高原山地，顺地势呈辐射状向四周奔流入海，故 D 错误。  
 答案：B

5. 东南亚的交通位置十分重要，主要咽喉要道是图中的（ ）海峡。



- A. 甲
- B. 乙
- C. 丙
- D. 丁

解析：读图可得，甲是白令海峡，乙是英吉利海峡，丙是直布罗陀海峡，丁是马六甲海峡，东南亚的交通位置十分重要，主要咽喉要道是图中的马六甲海峡。

答案：D

6. 俄罗斯气候条件最好的地形区是（ ）

- A. 东欧平原
- B. 西西伯利亚平原
- C. 中西伯利亚高原
- D. 东西伯利亚山地

解析：俄罗斯大部分地区属于温带大陆性气候，冬季漫长而严寒，夏季短促而凉爽。但由于俄罗斯领土辽阔，各地区气候有很大的差异。东欧平原气候比较温和，人口和城市主要集中在这一地区。西伯利亚地区冬季非常寒冷。北冰洋沿岸是终年严寒的极地气候。太平洋沿岸是温带季风气候。

答案：A

7. 读图，对巴西和澳大利亚自然环境的描述，正确的是（ ）



- A. 巴西的领土全部位于南半球
- B. 澳大利亚地跨热带和南温带
- C. 巴西气候干燥，沙漠面积广大
- D. 澳大利亚东部以低矮的高原为主

解析：A、巴西主要位于南半球，一小部分位于北半球，故叙述错误，不符合题意；  
 B、澳大利亚地跨热带和南温带，故叙述正确，符合题意；  
 C、巴西以热带雨林气候和热带草原气候为主，故叙述错误，不符合题意；

D、澳大利亚地形东部是大分水岭，西部是低矮高原，中部是平原，故叙述错误，不符合题意。

答案：B

8. 对美国经济的叙述，不正确的是（ ）

- A. 美国许多重要农产品的产量和出口量居世界前列
- B. 美国是世界最大的高新技术产业基地
- C. 美国的陆地面积和从事农业生产的人口均居世界首位
- D. 美国是世界第一经济强国，工业现代化程度很高

解析：美国是一个工业大国，是世界最大的高新技术产业基地，是世界第一经济强国，工业现代化程度很高；美国是一个农业大国，许多重要农产品的产量和出口量居世界前列；美国的陆地面积居世界第四位，从事农业的人口，占全国人口的 7%。

答案：C

9. 如图所反映的是南非所在地区多数国家对外贸易的特点，下列叙述正确的是（ ）



- A. 制造业发达，从事制造业的人口多
- B. 粮食产量高，出口量大
- C. 在国际贸易中，处于有利地位
- D. 许多国家的经济以出口初级产品为主

解析：长期的殖民统治，使非洲成为世界上经济发展水平最低的一洲。非洲国家在政治上取得独立以后，民族经济取得不同程度的发展，但大多数国家的工业基础仍很薄弱，片面发展一种或几种面向出口的农矿初级产品，成为发达国家的原料供应地和工业品市场，在经济发展中处于不利地位，历史上遗留下来的单一经济形态还未得到根本性的扭转。农业是非洲经济的重要部门。粮食作物中玉米的种植面积最广，是农村居民的主食；小麦和稻米的产量不能自给，需要大量进口。

答案：D

10. 印度发展服务外包产业的优势有（ ）

- ①劳动力成本较低
- ②矿产资源丰富
- ③信息技术发展早
- ④技术水平比欧美等发达国家高
- ⑤英语普及。

- A. ①②③
- B. ②④⑤
- C. ①③⑤
- D. ③④⑤

解析：印度发展信息技术服务外包产业的优势是：印度人力资源丰富，劳动力成本低，印度英语普及，信息技术发展较早。

答案：C

11. 小明对中国地理位置的描述中，错误的是（ ）

- A. 位于东半球、北半球
- B. 大部分位于北温带，少部分位于热带，没有寒带
- C. 位于亚洲西部，太平洋东岸
- D. 从亚洲地理分区来讲，中国属于东亚地区

解析：我国从东西半球来看，位于东半球；从南北半球来看，位于北半球；我国位于亚洲东部，太平洋的西岸；我国领土南北跨纬度很广，大部分位于中纬度地区，属北温带，南部少数地区位于北回归线以南的热带，没有寒带；从亚洲地理分区来讲，中国属于东亚地区。

答案：C

12. 下列叙述中与我国地势无关的是（ ）

- A. 许多大河滚滚向东流入太平洋
- B. 地形复杂多样，山区面积广大
- C. 便于海上湿润气流深入内陆，形成降水
- D. 在阶梯的交界处水能资源丰富

解析：我国地势西高东低，呈三级阶梯状分布，该地势对我国气候所产生的影响是有利于海洋上的暖湿气流深入我国内陆，形成丰沛的降水；对河流的影响是使大部分河流滚滚东流，沟通了东西交通，河流在流经阶梯与阶梯的交界处时，水流湍急，水能资源丰富，适宜建设水电站。

答案：B

13. 下列有关我国河流的叙述，正确的是（ ）

- A. 额尔齐斯河是我国最大的内流河
- B. 黄河的年径流量仅次于长江，是我国第二大河
- C. 长江洪水对长江流域危害最严重的地区是四川盆地
- D. 我国南方河流水量丰富，汛期长，无结冰期

解析：A、塔里木河是我国最大的内流河。故 A 不符合题意；

B、黄河的长度仅次于长江，是我国第二长河。故 B 不符合题意；

C、长江洪水对长江流域危害最严重的地区是中下游地区。故 C 不符合题意；

D、以秦岭 - 淮河线为界，以南地区的河流主要流经湿润地区，水量丰富，汛期长，含沙量小，冬季河流不结冰。故 D 符合题意。

答案：D

14. 对我国自然资源特征的叙述，正确的是（ ）

- A. 我国北方耕地多，且以旱地为主
- B. 我国可开垦为耕地的荒地很多
- C. 人多地多是我国的基本国情
- D. 西北地区的土地类型以耕地为主

解析：A、我国东部秦岭 - 淮河以北的地区为北方地区，区内的农业区有东北平原、华北平原和渭河平原，平原广阔，年降水量大致在 400~800 毫米之间，耕地类型以旱地为主。故正确；

B、我国可开垦的荒地较少，主要分布在东北和西北地区，故错误；

C、我国土地资源的基本国情是人多地少，故错误；

D、西北地区的土地类型以林地、畜牧业为主，故错误。

答案：A

15. 下列各组铁路干线中，全为我国南北向铁路干线的是（ ）

- A. 京沪线、包兰线、焦柳线
- B. 京九线、宝成 - 成昆线、京广线
- C. 京沪线、陇海线、焦柳线
- D. 京广线、沪杭 - 浙赣线、京九线

解析：我国铁路干线纵横交错、四通八达，主要的南北干线有：北京到哈尔滨的京哈线；北京到广州的京广线；北京到上海的京沪线；北京到九龙的京九线；焦作到柳州的焦柳线；宝鸡到成都的宝成线；成都到昆明的成昆线；由此可见符合的是京九线、包成 - 成昆线、京广线。

答案：B

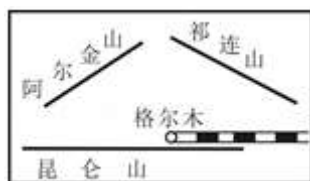
16. “五一”小长假期间，王强同学在益阳市街头看到某旅行团乘坐的一辆车牌号码为“贵A·56488”的旅游大巴车。下列说法正确的是（ ）

- A. 这辆大巴车来自上海
- B. 车上的旅客沿途领略了椰树林
- C. 该辆汽车穿过了黄土地
- D. 旅客在途中看到了大片的茶树林

解析：贵是贵州省的简称，这辆车来自贵州省，故 A 错误；椰树林位于海南岛，从贵州省到湖南省不经过海南省，故 B 错误；黄土地是指华北平原和黄土高原，从贵州省到湖南省不经过华北平原和黄土高原，故 C 错误；从贵州省到湖南省经过东南丘陵地区，东南丘陵种植茶树，故 D 正确。

答案：D

17. 如图中，铁路从格尔木运出的物品可能性最小的是（ ）



- A. 肉制品
- B. 地毯
- C. 青稞酒
- D. 稻米

解析：根据图中山脉可以判断，该处是柴达木盆地。

(1) 柴达木盆地地处青藏高原区，主要畜种有：牦牛、藏羚羊、藏山羊。故有可能是肉制品或地毯；

(2) 青稞是当地的代表作物，故有可能是青稞酒；

(3) 此地气候不适合种植稻米，故是稻米的可能性小；根据题意，D 符合题意。

答案：D

18. 国家旅游局在第三届海峡两岸论坛大会上宣布，大陆居民个人赴台旅游正式启动，小丽

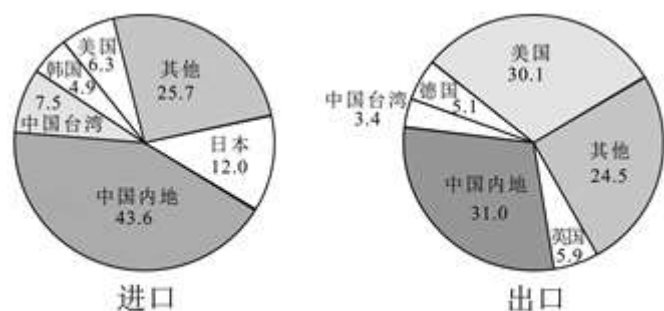
成为了一名幸运者，她查询了很多关于台湾的资料，你认为不可信的是（ ）

- A. 台湾河流短小，水流湍急，水能资源丰富
- B. 日月潭、阿里山是台湾著名的旅游景点
- C. 台湾属亚热带、热带气候，温暖湿润
- D. 台湾省包括台湾岛、澎湖列岛、钓鱼岛，隔台湾海峡与广东相望

解析：台湾河流短小，水流湍急，水能资源丰富；日月潭、阿里山是台湾著名的旅游景点；台湾属亚热带、热带气候，温暖湿润；台湾省包括台湾岛、澎湖列岛、钓鱼岛，隔台湾海峡与福建省相望。

答案：D

19. 香港是世界上重要的贸易中心，从图中可以看出，香港最大的贸易伙伴是（ ）



2000年香港特别行政区进出口商品的地区构成图 (%)

- A. 中国内地
- B. 日本
- C. 美国
- D. 中国台湾

解析：从2000年香港特别行政区进出口商品的地区构成图看出，香港最大的贸易伙伴是祖国内地。故选项A符合题意。

答案：A

20. 关于首都北京地理位置的叙述，正确的是（ ）

- ①位于华北平原的北部边缘，背靠群山，面向渤海
- ②名胜古迹众多
- ③是全国最重要的交通运输枢纽之一
- ④我国最大的城市。

- A. ①②
- B. ②③
- C. ①③
- D. ③④

解析：首都北京地理位置的优越性体现在位于华北平原的北部边缘，背靠群山，面向渤海，是全国最重要的交通运输枢纽之一等。而北京名胜古迹众多不属于北京地理位置方面的观点；我国最大的城市是上海。


答案：C

二、判断题（本大题共10小题，每小题1分，共10分。根据每小题表述的内容判断正误，正确的将√涂黑，错误的将×涂黑。）

21. (1分) 地球仪上经线的长度都相等, 纬线则长短不一。 √ (判断对错)

解析: 在地球仪上每条经线都是半圆, 长度相等, 指示南北方向; 每条纬线都是圆, 赤道最长, 从赤道向两极逐渐缩短, 指示东西方向。

答案: √。

22. (1分) 假如地震来临, 不要轻易返回建筑物内, 应前往  √。  
(判断对错)

解析: 在楼上的教室上课时发生地震, 不要惊慌, 要就近躲在课桌下面, 并用书包护住头部, 千万不要恐惧, 更不能从窗户跳下。如果在室外地震来临时, 不要轻易返回建筑物内, 应前往应急避险场所躲避。

答案: √。

23. (1分) 符拉迪沃斯托克(海参崴)是俄罗斯位于北冰洋沿岸的终年不冻港。 × (判断对错)

解析: 符拉迪沃斯托克(海参崴)为俄罗斯太平洋沿岸最大的港口城市; 摩尔曼斯克位于北极圈内, 是濒临北冰洋的最大城市和重要的不冻港。

答案: ×。

24. (1分) 堪培拉位于澳大利亚的西南部, 而珀斯位于东南部。 × (判断对错)

解析: 堪培拉位于澳大利亚的东南部, 而珀斯位于西南部。

答案: ×。

25. (1分) 非洲分布最广的气候类型是热带雨林气候, 其独特的动物是袋鼠。 × (判断对错)

解析: 非洲分布最广的气候类型是热带草原气候, 其动物是斑马、长颈鹿等。

答案: ×。

26. (1分) 美国东南部光热充足, 降水丰沛, 是美国重要的乳畜带分布区。 × (判断对错)

解析: 美国的东北部即五大湖区是美国重要的乳畜带分布区, 故上述说法错误。

答案: ×。

27. (1分) 解决我国水资源空间分布不均的主要办法是跨流域调水。 √ (判断对错)

解析: 由于我国水资源空间分布不平衡, 为了合理利用水资源, 有必要兴建跨流域的调水工程。如引黄济青工程, 将黄河水调进青岛市, 以解决青岛市供水不足的问题。目前规划上马的南水北调工程, 将把长江流域的水调入缺水的华北、西北地区。

答案: √。

28. (1分) 北京的雾霾天气都是由人为原因造成的。 × (判断对错)

解析: 雾霾天气的形成是主要是人为的环境污染, 再加上气温低、风小等自然条件才导致污染物不易扩散, 形成雾霾。雾霾天气频发表明了生态环境恶化。

答案: ×。

29. (1分) 柑橘、椰子、苹果都盛产于我国的东南丘陵地区。 × (判断对错)

解析: 东南丘陵属于亚热带季风气候, 柑橘属于亚热带水果, 椰子属于热带水果, 苹果属于温带水果。

答案: ×。

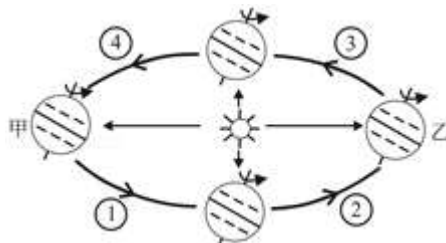
30. (1分) 秦岭 - 淮河一线, 大致与我国 800mm 年降水量线相吻合。 √ (判断对错)

解析: 秦岭、淮河主要是我国四大区域中, 南方地区与北方地区的分界线; 一月份 0℃ 等温线通过的地方; 800mm 等降水线通过的地方; 温度带中, 暖温带与亚热带分界线; 干湿地区中, 湿润区与半湿润区分界线; 温带季风气候与亚热带季风气候分界线; 水稻、小麦的分界线; 亚热带常绿阔叶林与温带落叶阔叶林的分界线等。

答案: √。

三、综合题 (6 个小题, 每空 1 分, 共 50 分。)

31. (7 分) 读下列材料和地球公转示意图, 回答问题。



材料: 2014 年 5 月 4 日至 11 日, 国务院总理李克强对埃塞俄比亚、尼日利亚、安哥拉、肯尼亚四国和非盟总部进行了正式访问。并于 5 月 8 日出席了在尼日利亚首都阿布贾举行的第 24 届世界经济论坛非洲峰会。

(1) 李克强总理的专机从北京起飞, 降落在非洲埃塞俄比亚的首都机场, 其飞行方向是 \_\_\_\_\_。

(2) 现有图幅相同的世界、亚洲、中国、湖南省共四张政区分布图。小阳想知道李总理访问的四个国家在哪? 需查阅其中的 \_\_\_\_\_ 图。四幅图中, 比例尺最大是 \_\_\_\_\_ 图。

(3) 李克强总理在非洲访问期间, 地球正运行在公转轨道上的 \_\_\_\_\_ (图中①、②、③、④) 段上。

(4) 当地球处在公转轨道上的甲处时, 我市的白昼时间为一年中最 \_\_\_\_\_ (长、短); 正处在一年四季中的 \_\_\_\_\_ 季。

(5) 当地球处在公转轨道上的乙处时, 南极圈内出现极昼还是极夜现象? \_\_\_\_\_。

解析: (1) 埃塞俄比亚位于非洲的中东部地区, 在我国首都北京的西南方向, 因此, 李克强总理的专机从北京起飞, 降落在非洲埃塞俄比亚的首都机场, 其飞行方向是西南方向。

(2) 李总理访问的四个国家在都位于非洲, 因此, 想知道李总理访问的四个国家在哪, 应该查阅世界政区分布图; 在图幅相同的条件下, 比例尺越大, 表示的范围越小, 内容越详细; 比例尺越小, 表示的范围越大, 内容越简略。世界政区分布图、亚洲政区分布图、中国政区分布图、湖南省政区分布图中, 湖南省所表示的范围最小, 所以选用的比例尺最大。

(3) 李克强总理在非洲访问期间 (5 月 4 日至 11 日), 位于春分日 (3 月 21 日前后) 与夏至日 (6 月 22 日前后), 从地球公转示意图可以看出, 此时地球运行在图中的④段。

(4) 从地球公转示意图可以看出, 当地球位于甲位置时, 太阳直射在北回归线, 为北半球的

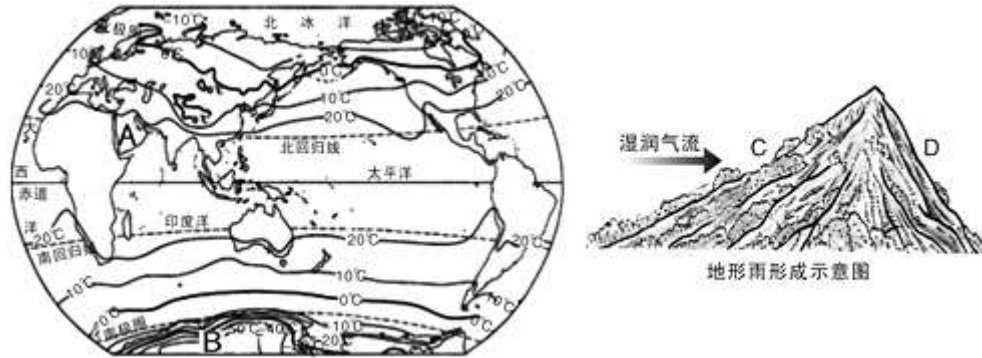


夏至日，日期是6月22日前后，此时我市（属于北半球）的白昼时间为一年中最长，我国正处于夏季。

(5)从地球公转示意图可以看出，当地球位于乙位置时，太阳光直射的纬线是南回归线，为北半球的冬至日，日期是12月22日前后，此时，南极圈内出现极昼现象。

答案：(1)西南(2)世界政区分布 湖南省政区分布(3)④(4)长 夏(5)极昼。

32. (9分)读“世界年平均气温分布”图和“地形雨”形成示意图，完成下列各题。



(1)从赤道向两极，气温的变化规律是\_\_\_\_\_，造成这种变化的主要原因是\_\_\_\_\_。

(2)图中A半岛上的人们主要信仰\_\_\_\_\_。这里的男人们头上缠着头巾、身着白色长袍，你认为这种服饰文化的形成与下列哪种因素有关？\_\_\_\_\_。

- A. 石油资源
- B. 气候特点
- C. 审美情趣
- D. 种族冲突

(3)图中B大洲目前还无人定居的原因是\_\_\_\_\_，当地真正的“主人”是\_\_\_\_\_，它是南极地区的象征。

(4)“地形雨”形成示意图中的C、D二点，降水多的是\_\_\_\_\_点，为山地的\_\_\_\_\_坡。此图反映的是\_\_\_\_\_因素对气候的影响。

解析：(1)世界上气温分布的规律是从赤道向南北两极逐渐降低，这主要因为纬度因素造成的；

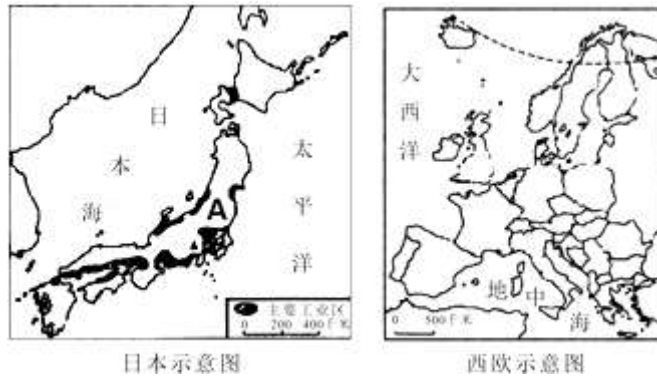
(2)结合图示得知：A为阿拉伯半岛，主要居住的为阿拉伯人，主要信仰的伊斯兰教；该地区的男人们头上缠着头巾、身着白色长袍，这与当地炎热的沙漠气候有关；

(3)图中的B为南极洲，该地区的气候特点是酷寒、干燥、多狂风，气候十分恶劣，不适合人类的居住；南极地区的象征是企鹅；

(4)结合地形雨的形成示意图得知：处于迎风坡的C点降水多，背风坡的D点降水少，这表明地形因素对降水的影响。

答案：(1)从赤道向南北两极逐渐降低；纬度因素；(2)伊斯兰教；B；(3)该地区的气候特点是酷寒、干燥、多狂风，气候十分恶劣，不适合人类的居住；企鹅；(4)C；迎风；地形。

33. (8分)读日本和西欧简图，回答下列问题。



- (1) 日本示意图中的 A 是\_\_\_\_\_岛，日本工业区主要集中分布在太平洋沿岸和\_\_\_\_\_沿岸。
- (2) 日本以大和民族为主，\_\_\_\_\_是日本人的传统服装。
- (3) 欧洲西部人口稠密，国家众多，大多数国家使用了统一的货币\_\_\_\_\_。
- (4) 西欧旅游资源丰富，旅游业发达，试举一个你熟悉的旅游景点：\_\_\_\_\_。
- (5) 西欧人的餐桌上常见羊腿、奶油、奶酪等食品，说明西欧地区农业中的\_\_\_\_\_所占的比重较高。
- (6) 日本和西欧都有许多优良的港口，海洋运输业发达，试从经济发展水平和海陆位置特征两方面分析海洋运输业发达的原因。\_\_\_\_\_；\_\_\_\_\_。

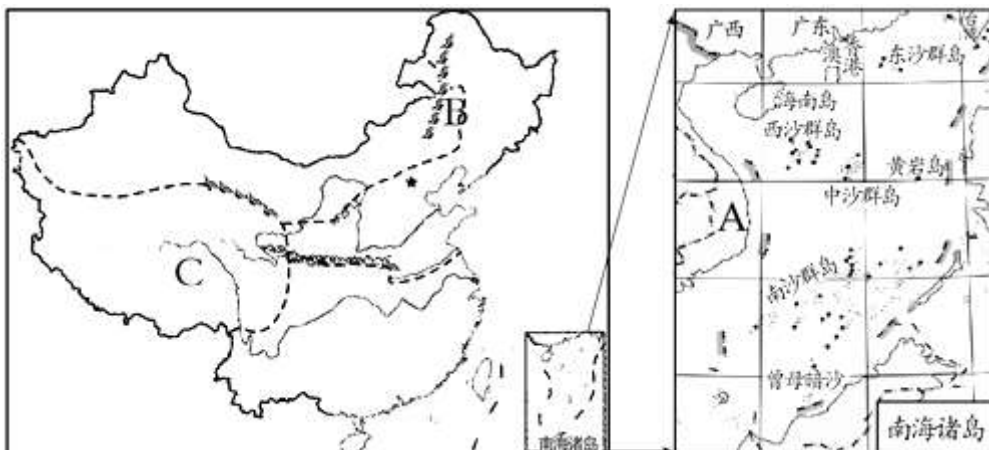
解析：(1) 日本示意图中的 A 是本州岛，日本工业区主要集中分布在太平洋沿岸和濑户内海沿岸。

- (2) 日本以大和民族为主，和服是日本人的传统服装。
- (3) 欧洲西部人口稠密，国家众多，大多数国家使用了统一的货币欧元。
- (4) 西欧旅游资源丰富，旅游业发达，如法国的埃菲尔铁塔、凯旋门等。
- (5) 西欧人的餐桌上常见羊腿、奶油、奶酪等食品，说明西欧地区农业中的畜牧业所占的比重较高。
- (6) 日本和西欧都有许多优良的港口，海洋运输业发达，日本和西欧的国家主要属于发达国家；日本东临太平洋，西临日本海，日本海岸线曲折，多优良港湾，西欧西临大西洋，南临地中海，北临北冰洋。

答案：(1) 本州 濑户内海 (2) 和服 (3) 欧元 (4) 埃菲尔铁塔 (5) 畜牧业

(6) 日本和西欧的国家主要属于发达国家；日本东临太平洋，西临日本海，日本海岸线曲折，多优良港湾，西欧西临大西洋，南临地中海，北临北冰洋。

34. (8分) 读材料和“中国区域图及南海诸岛图”，完成下列各题。



材料：三沙市于 2012 年 6 月 21 日设立，是中国最南端的城市，为海南省第三个地级市，下辖西沙群岛、南沙群岛、中沙群岛的岛礁及其海域。

(1) 据材料可知，三沙市所处的海域是\_\_\_\_\_，所在省级行政区的简称是\_\_\_\_\_。相邻国家 A 的名称是\_\_\_\_\_。

(2) 长期以来，我国南海海域受到周边国家的非法占有和掠夺。试从资源方面简要分析其原因：\_\_\_\_\_。

(3) 图中 B 处山脉是\_\_\_\_\_，其东部平原的特色土壤是\_\_\_\_\_。

(4) C 地区独特的自然环境特征是\_\_\_\_\_。\_\_\_\_\_是本地区代表性畜种，善于爬山负重，被誉为“高原之舟”。

解析：(1) 三沙市所处的海域是南海，所在省级行政区是海南省，其简称是琼。相邻国家 A 的名称是越南。

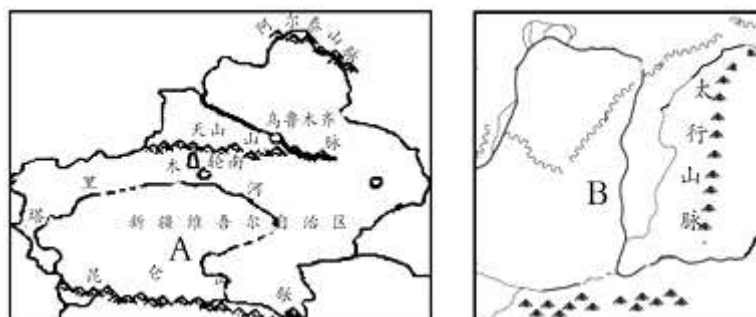
(2) 长期以来，我国南海海域受到周边国家的非法占有和掠夺。南海海域有丰富的石油和天然气。]

(3) 图中 B 处山脉是大兴安岭，其东部平原即东北平原的特色土壤是黑土，东北平原是我国最大的平原。

(4) 青藏地区独特的自然环境特征是高寒。牦牛是本地区代表性畜种，善于爬山负重，被誉为“高原之舟”。

答案：(1) 南海 琼 越南 (2) 南海海域有丰富的石油和天然气 (3) 大兴安岭 黑土 (4) 高寒 牦牛。

35. (8 分) 读我国新疆维吾尔自治区和黄土高原区域简图，回答下列问题。



(1) 图中 A 处是我国最大的\_\_\_\_\_盆地，该地区居住的少数民族主要以\_\_\_\_\_族为主。

(2) 图中 A 省区灌溉农业发达，特色农产品有\_\_\_\_\_，为了农业灌溉，很早以前这里的人民就修建了一种叫“\_\_\_\_\_”的引水工程。

(3) 图中 B 地区是我国古代文明的摇篮，这里有一种富有地方民俗特色的陕北民歌叫\_\_\_\_\_，其歌腔高亢而悠长，具有浓郁的“黄土风情”。

(4) 图中 B 地区地表千沟万壑、支离破碎，是这里长期的水土流失造成的。试分析黄土高原水土流失严重的原因和治理的措施：自然原因\_\_\_\_\_；人为原因\_\_\_\_\_。措施\_\_\_\_\_。

解析：(1) A 是塔里木盆地，新疆地区的少数民族主要是维吾尔族；

(2) 新疆由于独特的气候特点出产有特色的农产品，当地的特色农产品有长绒棉、哈密瓜、西红柿、枸杞等；新疆深居大陆内部，降水稀少，农业主要集中在绿洲边缘，属于灌溉农业，水源主要依靠山地降水和冰雪融水，为了防止蒸发修建了坎儿井；

(3) 该地区即黄土高原富有地方民俗特色的陕北民歌是信天游；

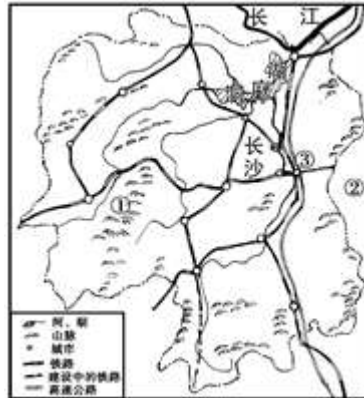
(4) 黄土高原地区属于季风气候，降水集中，多暴雨，加上过度放牧和过度砍伐，造成植被的破坏，因此黄土高原地区水土流失严重，黄河中游流经该区域，河流含沙量大增，到下游

的华北平原上，水流速度减缓，泥沙沉积，成为地上河；为了治理黄土高原地区的水土流失，当地居民采取了一系列的综合治理措施，主要有：缓坡建梯田，陡坡植树种草，山脚下修建土坝、护坡坝。

答案：(1)塔里木；维吾尔；(2)哈密瓜；坎儿井；(3)信天游；

(4)季风气候，降水集中，多暴雨；过度放牧和过度砍伐；缓坡建梯田，陡坡植树种草，山脚下修建土坝、护坡坝。

36. (10分) 读湖南省略图，回答问题。



(1) 山脉①\_\_\_\_\_；邻省②\_\_\_\_\_；铁路交通枢纽③\_\_\_\_\_。

(2) 我省四季分明，降水丰沛，属\_\_\_\_\_气候。对我省影响最大的气象灾害是\_\_\_\_\_。

(3) 湘、资、沅、澧四河中，流经益阳市区的是\_\_\_\_\_。

(4) 洞庭湖是长江的天然水库，对长江的水量起\_\_\_\_\_作用。

(5) 十八大期间，新华网联合《半月谈》杂志社开展了“建设美丽中国，我们应该怎么做”的网络调查。根据自己家乡的实际情况，以下关于建设“美丽益阳”的措施，不正确的是\_\_\_\_\_。

- A. 企业降低能耗
- B. 发展绿色产业
- C. 为了增收，大量砍伐林木
- D. 大力发展水能等清洁能源

(6) 湖南“湘菜”久负盛名，美食闻名全国。中央电视台播出的美食类纪录片《舌尖上的中国》，隆重介绍过下列美食资源，其中属于湖南省的是\_\_\_\_\_。

- ①香格里拉松茸
- ②长沙火宫殿臭豆腐
- ③宁波水磨年糕
- ④湘西腊肉

- A. ①②
- B. ③④
- C. ②④
- D. ①③

(7) 为什么湖南素有“鱼米之乡”的美誉？\_\_\_\_\_。

解析：(1) 山脉是①雪峰山；邻省②是江西省；铁路交通枢纽③是株洲，位于京广线与沪昆线的交汇处。

(2) 湖南省四季分明，降水丰沛，属亚热带季风气候。对湖南省影响最大的气象灾害是洪涝。

(3) 湘、资、沅、澧四河中，流经益阳市区的是资江。

(4) 洞庭湖是长江的天然水库，对长江的水量起调蓄作用。

(5) 建设“美丽益阳”的措施有：企业降低能耗、发展绿色产业、大力发展水能等清洁能源，大量砍伐林木会造成水土流失现象；

(6) 香格里拉松茸是云南省的特色美食资源，宁波水磨年糕是浙江省的特色美食资源，而长沙火宫殿臭豆腐和湘西腊肉是湖南省的特色美食资源；

(7) 湖南省湖泊众多、河渠稠密、水田连片，是国内著名的“鱼米之乡”。

答案：

(1) 雪峰山 江西省 株洲 (2) 亚热带季风 洪涝 (3) 资江 (4) 调蓄 (5) C (6) C

(7) 湖南省湖泊众多、河渠稠密、水田连片，是国内著名的“鱼米之乡”。